



mpc
METODICKO-PEDAGOGICKÉ CENTRUM

M VZDELÁVANÍM
PEDAGOGICKÝCH ZAMESTNANCOV
K INKLÚZII MARGINALIZOVANÝCH
RÓMSKYCH KOMUNÍT



Moderné vzdelávanie pre vedomostnú spoločnosť / Projekt je spolufinancovaný zo zdrojov EÚ

Kód ITMS: 26130130051

číslo zmluvy: OPV/24/2011

Metodicko – pedagogické centrum

Národný projekt

**VZDELÁVANÍM PEDAGOGICKÝCH ZAMESTNANCOV
K INKLÚZII MARGINALIZOVANÝCH RÓMSKYCH KOMUNÍT**

PaedDr. Zuzana Fečaninová

Regióny východného Slovenska 1

2014

Vydavateľ: Metodicko-pedagogické centrum,
Ševčenkova 11, 850 01
Bratislava

Autor UZ: PaedDr., Zuzana Fečaninová

Kontakt na autora UZ: Základná škola s materskou
školou Zborov, Školská 478,
08633 Zborov,
skolzborov@centrum.sk

Názov: Regióny východného Slovenska

Rok vytvorenia: 2014

**Oponentský posudok
vypracoval:** Mgr. Ivica Clementová

ISBN 978-80-565-0537-3

Tento učebný zdroj bol vytvorený z prostriedkov projektu Vzdelávaním pedagogických zamestnancov k inklúzii marginalizovaných rómskych komunít. Projekt je spolufinancovaný zo zdrojov Európskej únie.

Text neprešiel štylistickou ani grafickou úpravou.

Obsah:

1. Región Šariš	4
2. Prešov.....	11
3. Svidník.....	15
4. Región Zemplín.....	19
5. Michalovce.....	23
6. Humenné.....	25
10. Zdroje	28

Región Šariš

Región Šariš bol v minulosti uhorskou župou. Na severe susedí v Poľskom, západné hranice regiónu tvorí bývalá Spišská župa, na východe hraničil so Zemplínskou župou a na juhu s Abovsko-turnianskou župou. Región Šariš je tvorený povodiami riek Torysa, Topľa a Ondava. Preteká ním i rieka Poprad a Hornád. Na juhozápade sa rozprestiera Šarišská vrchovina. Najvyšším vrchom regiónu je Minčol (1 157 m n.m.) v Čergovskom pohorí. Historickým centrom Šariša bol Šarišský hrad, od roku 1647 Prešov. Listiny z 11. storočia dosvedčujú, že Šariš bol súčasťou Uhorska. Táto oblasť nebola zasiahnutá tureckým rabovaním. Prevažne slovenské etnikum bolo po valašskej kolonizácii v 15. storočí doplnené o rusínske a ukrajinské. V roku 1918 sa Šariš stal súčasťou Česko-Slovenska. V súčasnosti je územie Šariša súčasťou Prešovského kraja. V regióne prevažuje rímskokatolícke a gréckokatolícke náboženstvo. K najnavštevovanejším mestám oblasti patrí Bardejov, ktorý je zapísaný v Zozname svetového kultúrneho dedičstva UNESCO a centrum regiónu – Prešov. V regióne sa nachádza niekoľko hradných komplexov. Poväčšine ide o zrúcaniny. K charakteristickým pamätihodnostiam Šariša patria drevené kostolíky. V letných mesiacoch je najnavštevovanejším miestom dovolenkárov vodná nádrž Domaša. Nádherné prírodné scenérie, kultúrne pamiatky, špecifický folklór s rusínskymi prvkami, ako aj stále sa zvyšujúca úroveň služieb v oblasti cestovného ruchu sú príslubom príjemne strávených chvíľ.

1. Nájdi odpovede na otázky v uvedenom texte:

1. S akými župami susedí Šarišský región?

2. V povodí akých riek leží región Šariš?

3. Ako sa volá najvyšší vrch v tomto regióne, a koľko meria?

4. Ako sa volá najstaršie historické centrum Šarišského regiónu?

5. Súčasťou akého kraja je dnes šarišský región?

6. Ako sa volajú dva najvýznamnejšie mesta tohto regiónu?

7. Ktoré mesto je zapísané v zozname kultúrneho dedičstva UNESCO,

8. Ako sa volá najväčšia vodná nádrž v tomto regióne?

2. Na základe textu skús určiť čo sa nachádza na uvedených obrázkoch:



Obrázok 1



Obrázok 2



Obrázok 3



Obrázok 4

3. Vyznač na mape krížikom miesto kde sa nachádza región Šariš



Obrázok 5



Obrázok 6

1. Zakrúžkuj správnu odpoveď na otázku. Ktoré mesta patria do regiónu Šariš?

- | | |
|-------------|-----------|
| A. Bardejov | F. Košice |
| B. Vranov | G. Prešov |
| C. Sabinov | |
| D. Stropkov | |
| E. Svidník | |

2. Prirad' k jednotlivým mestám rieky ktoré cez tieto mesta pretekajú:

	Topľa
Bardejov	Ondava
Prešov	
Sabinov	Torysa
Svidník	
Stropkov	

3. Zakrúžkuj názvy pohorí, ktoré sa rozprestierajú v oblasti Šariša.

Čergov Tatry Slanské vrchy Branisko Pieniny

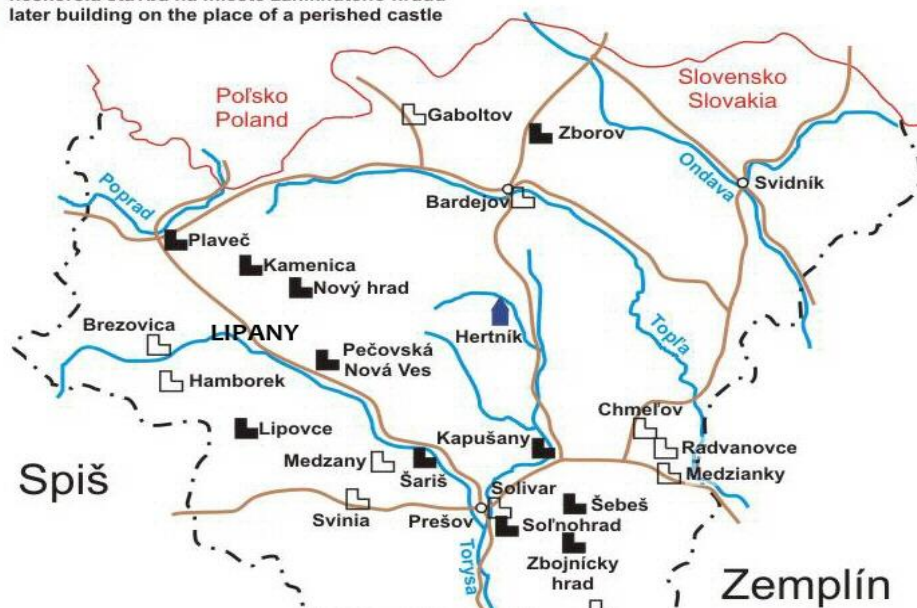
4. V regióne Šariš sa nachádza mnoho zrúcanín hradov. Zapiš do tabuľky tri hrady ktoré sú najbližšie k miestu tvojho bydliska.

1.
2.
3.

Legenda:

- zrúcanina hradu / ruins of a castle
- zaniknutý hrad / perished castle
- neskoršia stavba na mieste zaniknutého hradu

HRADY REGIÓNU ŠARIŠ



Obrázok 7

5. V ktorých mestách sa nachádzajú uvedené atrakcie?



Per švo

Neptúnová fontána

Obrázok 8



S banivo

Obchod na korze

Obrázok 9



Bra edojv

Zvony Ján a Urban

Obrázok 10

6. Nájdi na mape 5 drevených kostolíku v týchto okresoch:

Bardejov

.....

Svidník

.....



Obrázok 11

7. Nájdi správne dvojice a spoj ich.

DUKLIANSKÝ

SKANZEN

BARDEJOVSKÉ

KAPUŠIANSKY

SVIDNÍK

HRAD

PRIESMIK

KÚPELE

8. Vymaľuj obrázok podľa predlohy



Obrázok 12

Prešov

Prešov je centrom severovýchodného Slovenska. Leží na okraji Šarišskej vrchoviny a Slanských vrchov, v sútoku riek Torysa a Sekčov. Je sídlom Prešovského kraja, ktorý je počtom obyvateľov najväčším spomedzi 8 slovenských krajov. V údolí Torysy a jej prítokov, žili ľudia už pred 25 tisíc rokmi. Prvú písomnú správu o Prešove nachádzame zo 7.11. 1247, kde sa Prešov nazýva "Epuries". Mestské výsady Prešovu udelil kráľ Ondrej III. v roku 1299. Erb mesta prechádzal zložitým vývojom. V priebehu jedného storočia dostalo mesto až tri erby. Prvý mu udelil panovník Ladislav V. Pohrobok v roku 1453 a používa sa v súčasnosti. V meste sú 4 kiná, amfiteáter a záhradné kino, 10 knižníc, Vlastivedné múzeum, Múzeum vín, Šarišská galéria, Šarišská hviezdáreň a planetárium, Divadlo Jonáša Záborského. Nájdeme tu viacero vydavateľstiev, štúdio Slovenského rozhlasu. Z kultúrnych podujatí sú najzaujímavejšie Prešovská hudobná jar, Akademický Prešov, Prešovské kultúrne leto, Prešovská hudobná jeseň. Prešov je známy aj folklórom, ktorý reprezentuje napríklad folklórny súbor Šarišan. Prvá zmienka a prešovskej školy je z r. 1429. Základy tradície prešovského vyššieho školstva sa začali budovať v 17. storočí, keď v r. 1667 otvorili evanjelické kolégium. Pre vysokú úroveň vzdelanosti a kultúrnu vyspelosť bol Prešov v druhej polovici 19. storočia známy pod obrazným pomenovaním Atény nad Torysou. Okrem základných, stredných škôl tu sídli aj Prešovská univerzita, ktorá má 5 fakúlt. Dominantou mesta je farský kostol zasvätený patrónovi námorníkov a obchodníkov, sv. Mikulášovi s krásnym oltárom. Centrum mesta je lemované starými meštianskymi domami. Od októbra 1998 sa na námestí nachádza socha anjela, ktorý má strážiť mesto. Centrum mesta je mestskou pamiatkovou rezerváciou. Známa je najmä Neptúnová fontána na námestí. Solivar je miestnou časťou Prešova. Kamenná soľ sa tu ťažila od roku 1572. Jedinečný svetový unikát - Dubnícke opálové bane - sa nachádza 28 km od Prešova, v strede Slanských vrchov, medzi obcami Zlatá baňa - Červenica, Zlatá baňa - Dubník. Najväčšie a najstaršie ložisko drahého opálu. Opál patrí medzi drahé kamene (môže mať až 60 farebných odtieňov).

9. Nájdi v texte odpovede na otázky:

1. Kde leží mesto Prešov?

2. Z ktorého roku pochádza prvá písomná zmienka o meste Prešov?

3. Ako sa v minulosti nazýval Prešov?

4. Ako sa volal kráľ ktorý udelil mestu Prešov mestské výsady?

5. Koľko podôb dostal v minulosti erb mesta Prešov?

6. Aké kultúrne inštitúcie sa tu nachádzajú?

7. Ktoré štyri najznámejšie kultúrne podujatia sa tu každoročne konajú?

8. Čo je to Šarišan?

9. Akú prezývku získalo mesto v 19. Storočí vďaka svojej vysokej úrovni vzdelanosti?

10. Aká vysoká škola sa dnes nachádza v tomto meste?


11. Komu je zasvätený farský kostol ktorí je dominantou mesta?

12. Ako sa volá najznámejšia fontána v Prešove?


13. Čím sa preslávila miestna časť Prešova Solivar?

14. Ložiská akého drahého kameňa sa nachádzajú v blízkosti mesta Prešov?

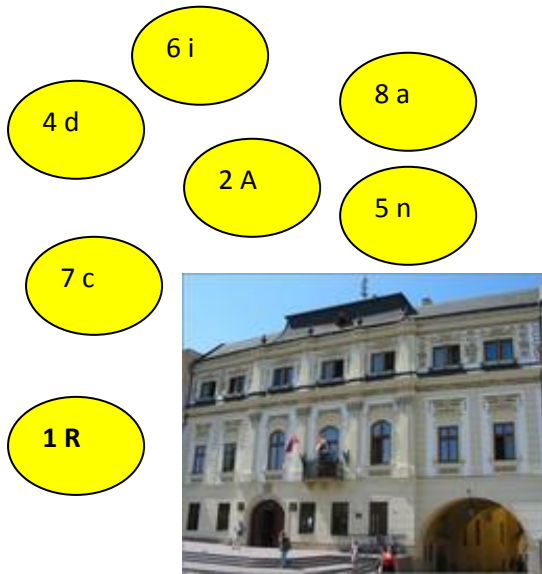
10. Prekresli obrázok erbu mesta Prešov do rámčeka



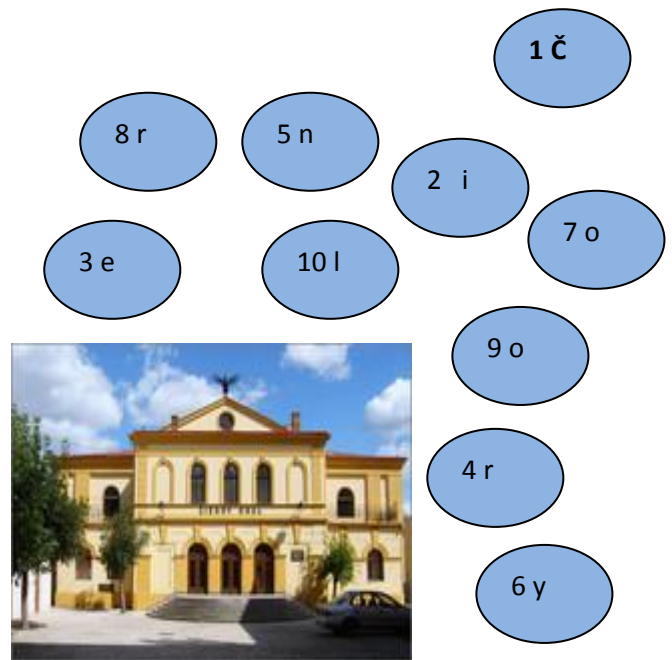
Obrázok 13



11. Zorad' písmenka podľa čísel a napíš názov budov ktoré sa nachádzajú na jednotlivých obrázkoch.



Obrázok 14



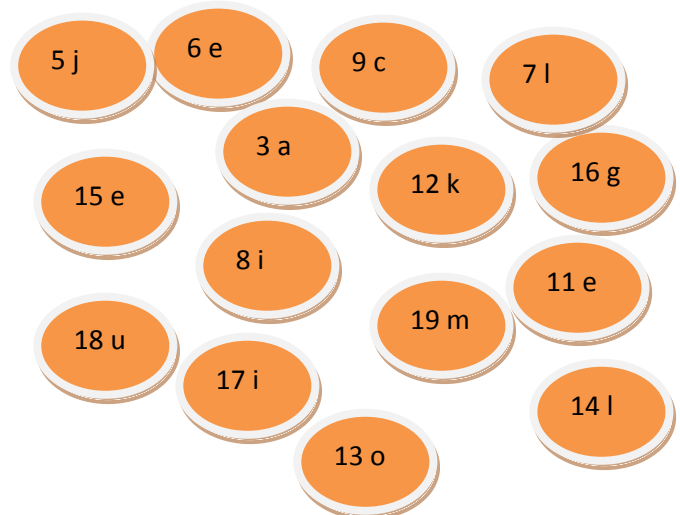
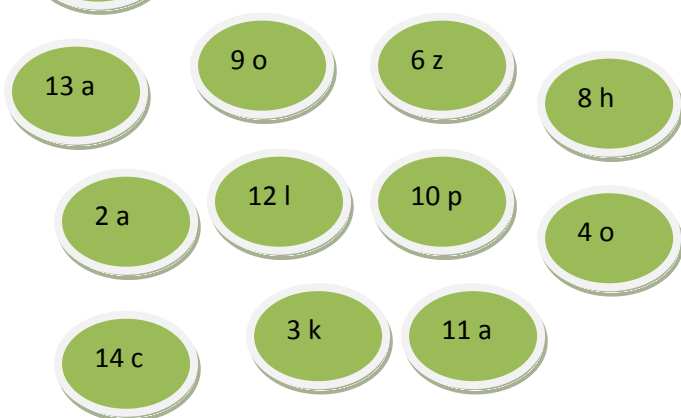
Obrázok 15



Obrázok 16



Obrázok 17



Svidník

Okresné mesto Svidník leží v severnej časti Nízkyh Beskýd, v ústí rieky Ladamirky do Ondavy. Mesto vzniklo roku 1944 zlúčením obcí Nižný Svidník a Vyšný Svidník.

Od roku 1956 sa každoročne, konajú vo Svidníku Slávnosti kultúry Rusínov – Ukrajincov, z východného Slovenska, spravidla v tretí týždeň júna. V máji 2013 pribudol Rusínsky festival. Hlavnými atrakcie mesta sú Múzeum ukrajinskej kultúry a Skanzen.

Skanzen - Rozprestiera na desať- hektárovej ploche. Sú tu sústredné pamiatky ľudovej architektúry dedinského obyvateľstva v Nízkyh Beskydoch Slovenska. V drevených zrubových, historických objektoch je zozbieraný ľudový nábytok, domáci inventár, tradičné pracovné náradie. Nachádzajú sa tu všetky druhy tradičných hospodárskych budov: stodoly, chlievy, sýpky, senníky, pivnice, studne a ďalšie menšie stavby. Tieto objekty sú využité pre inštaláciu tradičného poľnohospodárskeho náradia – rôznych typov vozov, drevených pluhov, brán, susekov, košov na obilie a iného rozmanitého náčinia.

Vojenské múzeum vo Svidníku vzniklo v roku 1965. Otvorené pre verejnosť bolo až pri príležitosti 25.výročia bojov o Dukliansky priesmyk 4.10. 1969. Múzeum je špecializované na dokumentáciu národnooslobodzovacieho hnutia so zameraním na karpatsko-dukliansku operáciu. Vo Svidníku je postavený monumentálny pamätník Červenej armády - národná kultúrna pamiatka. Bol odhalený 3. októbra 1954, pri oslavách 10. výročia karpatsko-duklianskej operácie. Pomník má výšku 37 m. Päťramenná hviezda na jeho vrchole meria 3,5 m. Čelne steny ohrady pamätníka výtvarne symbolizujú Slovenské národné povstanie a príchod Červenej armády. Na ľavej strane pamätníka je súsošie Útok Sovietskej armády na pravej strane reliéf Partizánska hliadka Slovenskom národnom povstaní.

27. februára 1987.prijalo mesto svoj nový erb - v červenom štíte strieborná silueta duklianskeho pamätníka.

12. Nájdi v texte odpovede na otázky:

1. V ktorom roku vzniklo mesto Svidník?

2. Spojením akých dvoch obcí vzniklo mesto Svidník?

3. Akými kultúrnymi slávnosťami sa preslávil Svidník?

4. Čo je to Skanzen?

5. Aké hospodárske budovy môžeme vidieť s skanzene?

6. V ktorom roku vzniklo vojenské múzeum?

7. Ako sa volá monumentálny pamätník ktorí pripomína boje v Duklianskom priesmyku?

8. Aký vysoký je tento pamätník?

13. Zakrúžkuj ktorý erb patrí mestu Svidník



Obrázok 18



Obrázok 19




Obrázok 20



Obrázok 21


14. Napíš aké atrakcie mesta Svidník zobrazujú jednotlivé fotografie .



Obrázok 22,23,24,25



Obrázok 26 Obrázok 27



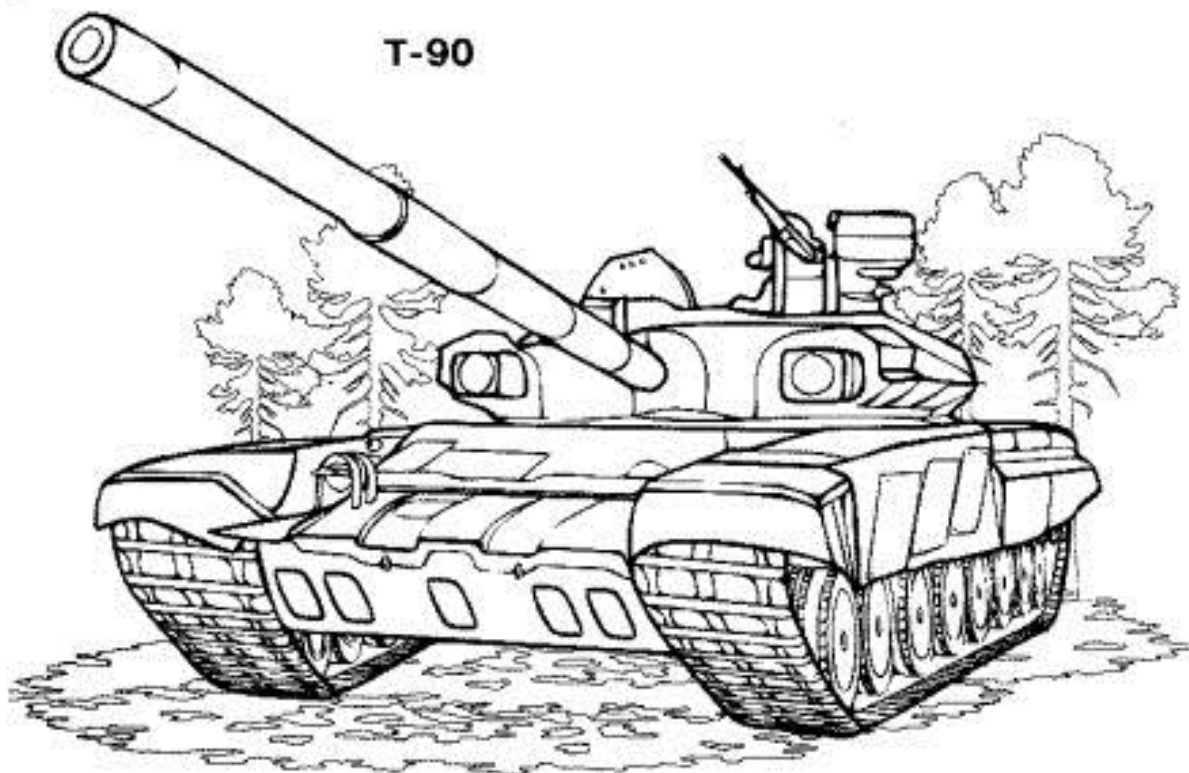
Obrázok 28 Obrázok 29 Obrázok 30



15. Vymaluj obrázky



Obrázok 31



Obrázok 32

Región Zemplín

Zemplín, rázovitý prihraničný región, bol odnepamäti studnicou prekrývania a dopĺňania rôznych kultúr. Hraničí s Poľskom, Ukrajinou, Maďarskom, na západe s regiónom Šariš a Abov. Územie Zemplína bolo osídlené od pradávnych dôb. Prvým významným centrom bolo staroslovenské hradisko Zemplín, jedno zo sídel na Veľkej Morave. V 10.storočí bol Zeplín pričlenený do Uhorska a vznikla tak jedna z prvých uhorských stolíc, Keďže ide o hraničný región, môžu tu jeho návštevníci obdivovať viaceré pozostatky obranných stredovekých opevnení. Zemplín sa rozdeľuje na Horný Zemplín, ktorého územie spadá pod Prešovský kraj a Dolný Zemplín, patriaci ku Košickému kraju. Najvýznamnejšími ekonomickými centrami sú Michalovce, Vranov nad Topľou a Humenné. Zemplín sa môže pochváliť vysokou kultúrnou úrovňou najmä v oblasti folklóru. Dodnes sa tu zachovalo typické zemplínske nárečie a výborná tradičná zemplínska kuchyňa. K obzvlášť hodnotným kultúrnym pamiatkam regiónu patria drevené gréckokatolícke a pravoslávne chrámy. Zemplín má, ako máloktorá časť Slovenska, zachovanú nedotknutú panenskú prírodu a to vo viacerých oblastiach. Na severe sa rozprestiera oblúk Karpát s bohatou faunou. Nielen vulkanológov každoročne priťahuje pohorie Vihorlat. V južnej časti Zemplína sa rozprestierajú vodné plochy ako Zemplínska Šírava, Domaša a Vinianske jazero. Všetky sa, najmä v letných mesiacoch, menia na rekreačné centrá nadnárodného významu.

1. Na základe textu odpovedzte na otázky:

1. S akými krajinami hraničí Zemplínsky región?

2. S akými regiónmi slovenska hraničí Zemplínsky región?

3. Kde sa nachádzalo najstaršie centrum tohto regiónu?

4. V ktorom storočí bol Zemplín pričlenený do Uhorska?

5. Na aké dve časti sa delí Zemplín?

6. Pod aké územie patrí Horný a Dolný Zemplín?

7. Akými historickými pamiatkami vyniká tento región?

8. Ako sa volajú najznámejšie vodné plochy rozprestierajúce sa v tomto regióne?

2. Usporiadaj prísmenka a napíš čo sa nachádza na obrázkoch



Obrázok 33

Š	A	R
I	A	V



Obrázok 34

M	CH	I	A
O		L	C
V		E	



V A R O N V
N A D
T P O O L V

Obrázok 235

3. Označ na mape skratkami miesto kde sa nachádza horný zemlín (HZ) a dolný zemlín (DZ)



Obrázok 36



Obrázok 37

4. Vypíš 5 miest ktoré sa nachádzajú v Zemplínskom regióne

1.
2.
3.
4.
5.

5. Doplniť poprehadzované pojmy v správnom poradí do viet.

MICHALOVCE

- Michalovce sú hospodárske a kultúrne centrum _____.
- Ležia v severnej časti _____.
- Územie mesta bolo osídlené už v mladšej _____.
- Prvá písomná zmienka pochádza z roku _____.
- V stredoveku sa vyvíjali ako poddanské mestečko a zažili viacero _____ a náboženských bojov, z ktorých najdôležitejším bolo roľnícke povstanie z 19.storočia (1831).
- _____ je najatraktívnejšia pamiatka, ktorá stojí na mieste niekdajšieho vodného hradu. Objekt je sídlom Zemplínskeho múzea.
- _____ je vodná nádrž, ktorú vybudovali v 60.tych rokoch 20.storočia. Priemerná hĺbka nádrže je _____ a jej rozloha sa pohybuje v závislosti od stavu vody (22-35km²). Vodná nádrž sa využíva na _____.
- Neďaleko Zemplínskej Šíravy sa nachádza Vinianske jazero, nad ktorým sa týči _____ Vinianskeho hradu.

Zemplínska šírava	1244	Michalovský kaštieľ
dobe kamennej	3,5m	Východoslovenskej nížiny
stavovských vojen	rekreačné účely	dolného Zemplína
	zrúcanina	


6. Čo sa nachádza na obrázku?



- A) Zemplínska šírava
- B) Dukla
- C) Vinianský hrad
- D) Zemplínske múzeum
- E) Mestský úrad

Obrázok 38

7. Vymaľuj erb mesta Michalovce podľa predlohy.



Obrázok 39

8. Doplň poprehadzované pojmy v správnom poradí do viet.

HUMENNÉ

- Toto najvýznamnejšie centrum _____ vzniklo z pôvodne, _____ o ktorej prvá písomná zmienka pochádza z roku _____.
- Humenné obdržalo prvé výsady v 14.storočí - výber _____ z tovaru.
- Počas _____ bolo Humenné veľmi poškodené.
- Nachádza sa na sútoku riek _____ a Cirocha v nadmorskej výške 157 m n. m. Mesto obklopuje rieka Laborec a _____ spolu s 1 076 m vysokou _____ Vihorlat.
- V meste sa nachádza viacero sakrálnych budov a _____.
- Najvýznamnejšie pamiatky mesta sú _____ niekdajšie sídlo Drugetovcov. Prvá zmienka o kaštieli ako o kúrií je z roku _____. Predpokladá sa, že už na prelome 13. a 14. storočia stál na tomto mieste hrad ako sídlo zemepánov – Drugetovcov ktorí vlastnili Humenné a okolie i neďaleké hrady.
- _____ bývalý františkánsky kláštor, dnes farský kostol Všetkých svätých, je najvýhodnejšie položená _____ mimo tehlovej gotiky – národná kultúrna pamiatka. V kostole sú umiestnené i telesné pozostatky _____.

sopkou

Gotický kostol

Laborec

1449

horného Zemplína

1317

mýta a tridsiatku

synagóga

Renesančný kaštieľ so záhradami a parkom

gotická stavba v Európe

svätého Bonifáca

karpatské vrchy

slovanskej osady

2.sv. vojny

8. Čo sa nachádza na obrázku?

- A) Vihorlat
- B) Kriváň
- C) Gerlachovský štít



Obrázok 40



Obrázok 41

- A) Bojnicky zámok
- B) Kapušiansky hrad
- C) Krásna Hôrka
- D) Renesančný kaštieľ

- A) Gotický kostol
- B) Pravoslávny chrám Cyrila a Metoda
- C) Chrám Nanebovzatia Panny Márie




Obrázok 42

9. Prekresli erb mesta Humenné do rámčeka



Obrázok 43



Zdroje:

Text č. 1: <http://www.saris.eu.sk/sk/uvod/uvod.html>

Text č. 2 <http://sk.wikipedia.org/wiki/Pre%C5%A1ov>

Text č. 3 <http://sk.wikipedia.org/wiki/Svidn%C3%ADk>

Text č. 4 <http://www.zemplin.eu/>

Text č. 5 <http://www.slovenskyportal.sk/index.php?action=st&h=Zemplin>

Text č. 6 <http://sk.wikipedia.org/wiki/Humenn%C3%A9>

Obrázok č. 1 Šarišský hrad

http://www.saris.eu.sk/images/stories/saris_106.jpg

Obrázok č. 2 Bardejov

<http://schematizmus.rimkat.sk/place/bardejov-farnost-sv-egidia/>

Obrázok č.3 Prešov

<http://hotpot.wbl.sk/mesta.htm>

Obrázok č. 4 Domaša

<http://mojeubytovanie.sk/index.php/Vodne-nadrze/domaa>

Obrázok č. 5 Slepá mapa

<http://aktualne.atlas.sk/smiech-prejde-pride-plac-otestujte-sa-ci-poznate-na-slepej-mape-slovenska/dnes/zaujímavosti/>

Obrázok č.6 Región Šariš

http://commons.wikimedia.org/wiki/File:Slovakia_Saris.gif

Obrázok č.7 Hrady regiónu Šariš

<http://www.troja.sk/ubytovanie/kam-v-okoli-2/pamiatky/>

Obrázok č. 8 Neptúnov fontána

<http://www.kniznica-poh.sk/pamatniky/pom.htm>

Obrázok č. 9 Obchod na korze

http://commons.wikimedia.org/wiki/File:Slovakia_Sabinov_37.jpg

Obrázok č. 10 Zvony Ján a Urban

<http://cizmarik.blog.sme.sk/c/105543/Zasla-slava-miest-Bardejov.html>

Obrázok č. 11 Drevené kostolíky

<http://cizmarik.blog.sme.sk/c/105543/Zasla-slava-miest-Bardejov.html>

Obrázok č.12 Omaľovanka

<http://nss.sk/pre-deti>

Obrázok č.13 Erb mesta Prešov

<http://www.presov.sk/portal/?c=12&id=2892>

Obrázok č.14 Radnica

<http://www.presov.sk/portal/?c=12&id=3082>

Obrázok č.15 Čierny orol

<http://www.presov.sk/portal/?c=12&id=3080>

Obrázok č.16 Rákocziho palác

<http://www.presov.sk/portal/?c=12&id=3084>

Obrázok č.17 Evanjelické kolégium

<http://www.presov.sk/portal/?c=12&id=3087>

Obrázok č.18 Erb mesta Svidník

<http://www.svidnik.sk/symboly-mesta/>

Obrázok č.19 Erb Cernina

<http://www.mesta-obce.sk/presovsky-kraj/okres-svidnik/>

Obrázok č.20 Erb Giraltovice

<http://www.mesta-obce.sk/presovsky-kraj/okres-svidnik/>

Obrázok č.21 Nižný Orlík

<http://www.mesta-obce.sk/presovsky-kraj/okres-svidnik/>

Obrázok č.22,23,24,25 Skanzen Svidník

http://www.muzeum.sk/?obj=muzeum&ix=murk_nep

Obrázok č.26 Vojenské múzeum

<http://www.skrz.sk/Foto-expozicia-vojen-techniky-a8-25786-sk.htm>

Obrázok č.27 Vojenské historické múzeum

http://www.e-dukla.sk/?page_id=1013&action=details&frm_article_id=2389

Obrázok č.28 Pamätník Červenej Armády

<http://www.panoramio.com/photo/22255854>

Obrázok č.29 Pamätník Červenej Armády

<http://www.panoramio.com/photo/22255919>

Obrázok č.30 Pamätník Červenej Armády

<http://www.panoramio.com/photo/22311241>

Obrázok č. 31, Obrázok č. 32 Tanky

<http://www.celysvet.cz/omalovanky-k-vytisknuti-technika-tanky-vozidla>

Obrázok č. 33 Zemplínska šírava

<http://www.zemplin.eu/>

Obrázok č. 34 Michalovce

<http://sk.wikipedia.org/wiki/Michalovce>

Obrázok č. 35 Vranov Nad Topľou

<http://www.cestovnyinformatork.sk/show/gallery/objectId/516/lang/de>

Obrázok č. 36 Slepá mapa

<http://aktualne.atlas.sk/smiech-prejde-pride-plac-otestujte-sa-ci-poznate-na-slepej-mape-slovenska/dnes/zaujímavosti/>

Obrázok č. 37 Zemplín

<http://www.cestovnyatlas.szm.com/zemplin1.jpg>

Obrázok č. 38 Zemplínske múzeum

<http://sk.wikipedia.org/wiki/Michalovce#mediaviewer/S%C3%BAbor:Michalovce4.JPG>

Obrázok č. 39 Michalovce

<https://zskrymmi.edupage.org/?lang=pl>

Obrázok č. 40 Vihorlat

<http://sk.wikipedia.org/wiki/Humenn%C3%A9>

Obrázok č. 41 Renesančný kaštieľ

<http://www.humencanonline.sk/sk/aktualne/kultura/galeria-pod-mostom/>

Obrázok č. 42 Gotický kostol

<http://sk.wikipedia.org/wiki/Humenn%C3%A9>

Obrázok č. 43 Erb Humenné

http://humenne.k3.sk/pics/texty_obrazky2/big/1157536073.jpg