



mpc
METODICKO-PEDAGOGICKÉ CENTRUM

M VZDELÁVANÍM
PEDAGOGICKÝCH ZAMESTNANCOV
K INKLÚZII MARGINALIZOVANÝCH
RÓMSKYCH KOMUNIT



Moderné vzdelávanie pre vedomostnú spoločnosť / Projekt je spolufinancovaný zo zdrojov
EÚ

Kód ITMS: 26130130051

číslo zmluvy: OPV/24/2011

Metodicko – pedagogické centrum

Národný projekt

**VZDELÁVANÍM PEDAGOGICKÝCH ZAMESTNANCOV
K INKLÚZII MARGINALIZOVANÝCH RÓMSKYCH KOMUNIT**

Mgr. Radka Tkáčová

**Praktiká z geografie II., 8.ročník
(pracovné listy)**

2014

Vydavateľ: Metodicko-pedagogické centrum,
Ševčenkova 11, 850 01 Bratislava

Autor UZ: Mgr. Radka Tkáčová

Kontakt na autora UZ: radkatkac82@gmail.com

Názov: Praktiká z geografie, 8.ročník

Rok vytvorenia: 2014

Oponentský posudok vypracoval: Mgr. Peter Kimák-Fejko

ISBN 978-80-565-0164-1

Tento učebný zdroj bol vytvorený z prostriedkov projektu Vzdelávaním pedagogických zamestnancov k inklúzii marginalizovaných rómskych komunít. Projekt je spolufinancovaný zo zdrojov Európskej únie.

Text neprešiel štylistickou ani grafickou úpravou.

Obsah

Pracovný list č.1: Vyhľadávanie v atlase	4
Pracovný list č.2: Živé a neživé zložky prírody	9
Pracovný list č.3: Prírodné a kultúrne zaujímavosti Európy	11
Pracovný list č.4: Kompas a orientácia v teréne	14
Zoznam bibliografických odkazov	15

Pracovní list č.1: Vyhľadanie v atlase

1. Podľa obrysov hraníc identifikuj pomocou atlasu európske krajiny.



a/.....



b/.....



c/.....



d/.....



e/.....



f/.....



g/.....

h/.....



i/.....

j/.....



k/.....

l/.....



m/.....

n/.....

2. Vyrieš prešmyčky. Nájdeš v nich názvy štátov Južnej Ameriky. Doplň k nim ich hlavné mestá.

R - A - G - Í - N - E - T - A - N

hlavné mesto

A - R - P - G - J - A - U - A

hlavné mesto

N - E - V - Z - U - E - E - A - L

hlavné mesto

V - Á - E - K - R - O - D
 hlavné mesto

R - A - Z - Í - I - B - A - L
 hlavné mesto

I - L - E - CH
 hlavné mesto

3. Usporiadaj popletené slabiky do geografických názvov afrických štátov a miest.

GER	DÁN	GO	TÓ	KO
PRE	KINS	RO	KÁ	KON
MÁLS	HA	RIA	SA	KO
HI	MA	SU	HAN	NI
NES	SO	JO	RA	BURG

Mestá: _____

Štáty: _____

4. Nájdi vo vetách 4 chyby a napíš ich správne do riadkov nad textom.

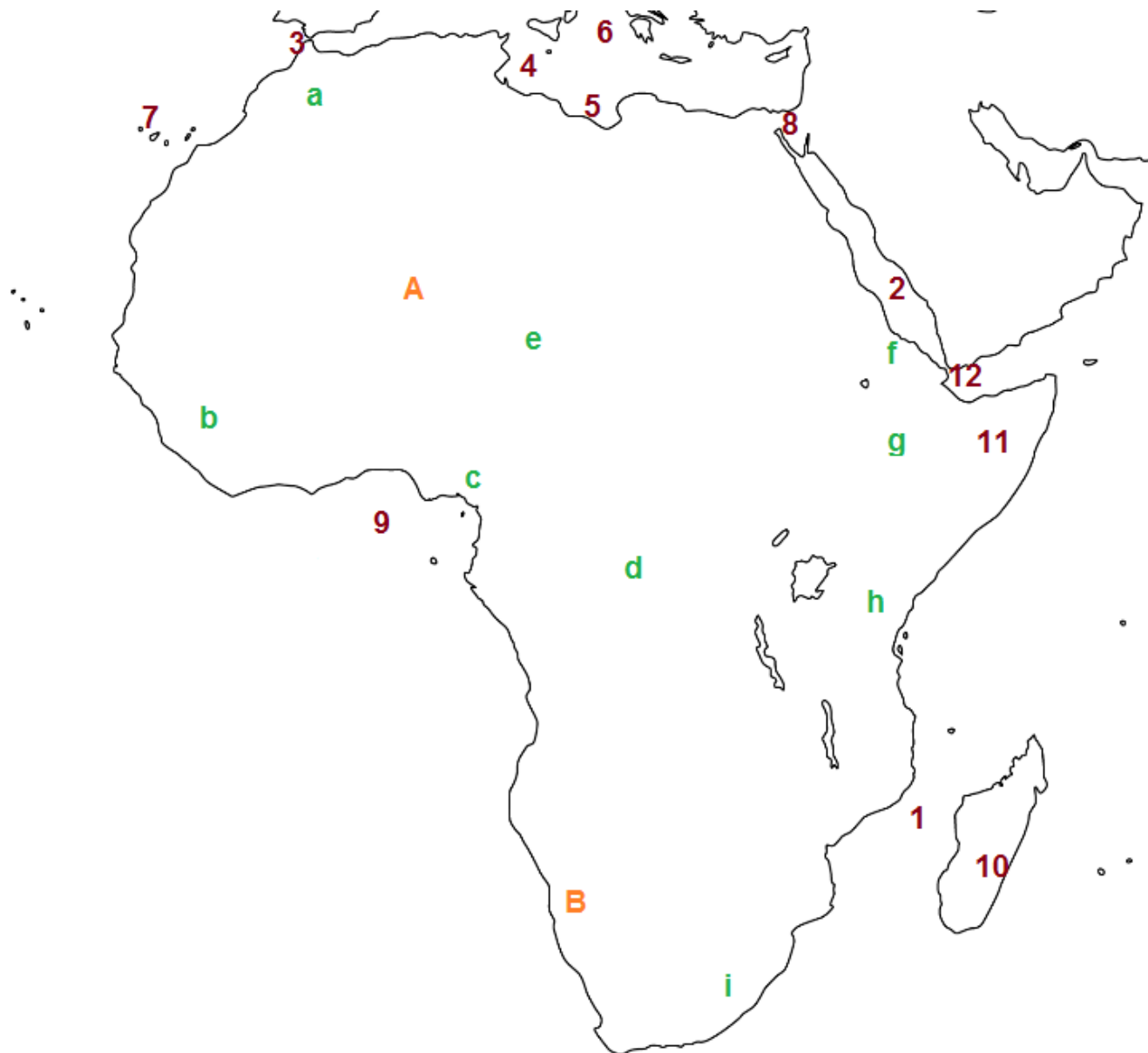
Hustota zaľudnenie vyjadruje počet obyvateľov na jeden centimeter štvorcový.

Hlavné mesto Juhoafrickej republiky je Johannesburg.

Pohorie Atlas sa rozprestiera v Ázii.

V Afrike sa nachádza najhlbšie jazero na svete Bajkal.

5. Doplň správne k písmenám a číslam správne geografické názvy prielivov, zálivov, prieplyvov, morí, ostrovov, polostrovov, pohorí a púští.



- | | | |
|--------|---------|--------|
| 1..... | 8..... | a..... |
| 2..... | 9..... | b..... |
| 3..... | 10..... | c..... |
| 4..... | 11..... | d..... |
| 5..... | 12..... | e..... |
| 6..... | A..... | f..... |
| 7..... | B..... | g..... |

h.....

i.....

6. Vyhľadaj v atlase a pomenuj na základe daných súradníc, čo sa na uvedenom mieste nachádza.

Hľadaj v atlase pomocou všeobecno-zemepisnej mapy sveta:

0° g.š. , 0° g.d. /záliv/

20° j.g.š, 140° v.g.d. /svetadiel/

20° s.g.š, 40° v.g.d. /more/

60° s.g.š, 80° v.g.d. /nížina/

60° s.g.š, 80° z.g.d. /záliv/

0° g.š., 20° v.g.d. /panva/

70° s.g.š., 40° z.g.d. /ostrov/

20° j.g.š., 50° v.g.d. /ostrov/

40° s.g.š., 0° g.d. /polostrov/

7. Urč geografické súradnice nasledujúcich geografických miest.

Konžská demokratická republika -

Brazília -

India -

Mexiko -

Grónsko -

Madagaskar -

Arabské more -

Mongolsko -

Ekvádor -

Čierne more -

Thajsko -

8. Utvor správne dvojice.

- | | |
|----------------|------------|
| a) Kamčatka | 1. jazero |
| b) Taklamakan | 2. púšť |
| c) Hindukúš | 3. pohorie |
| d) Bajkal | 4. rieka |
| e) Brahmaputra | 5. ostrov |

- f) Cejlón 6. polostrov
g) Rub al-Chalí 7. púšť

Pracovný list č.2: Živé a neživé zložky prírody

1. Dopln správne zložky živej a neživej prírody.

Neživá príroda →
 →
 →
 →
 →
 →
 →

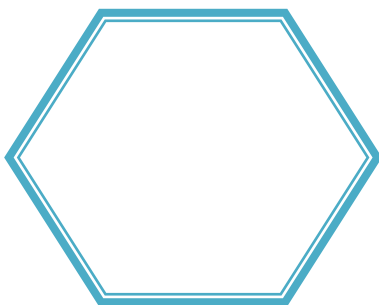
Živá príroda →
 →
 →
 →

2. Dopln do viet správne slová:


Organizmy v podstatnej miere závisia od prírody.
 Zdrojom tepla, svetla a energie pri procese fotosyntézy je
 Vzduch obsahuje na dýchanie, uhličité potrebný
 na výživu
 Zo stromovitých prasličiek, papradí a plavúňov vzniklo
 Mikroorganizmy, obrúčkavce a článkonožce sa podieľajú na vzniku
 Procesy v neživej prírode ovplyvňujú

3. Roztried správne zdroje neživej prírody do jednotlivých diagramov.


vápenec, olovo, zinok, uhlie, piesok, kamenná soľ, hlina, drahé kovy, ropa, zemný plyn, železo, meď, dolomit, štrk



rudné suroviny



nerudné suroviny



nerastné suroviny

4. Osemsmerovka

Š Ő
 N M
 Ť Ď Ó Z
 V B Č R
 R U X V T Š
 Z K Q A J Ú
 Z Ď Ú Š Ě Y Í Y C Č W Ř D C Q N K C Ň W
 L A N T N A S G B Q Ť Í S U R O V I N Y
 K É Ā Š L Ž Ň Á K O T A T S O D E N
 Á Ď Í E I A Ť A S M Ý R Č Ó N Z
 K Š I A D O V Z Ř Ā L Z Á X
 W R R B L K Z É Č Ő R Y
 S Ó É E X R Ý Ď A T O Ž Ť L
 S Ý T N V Ā N Ő A K N S Č P
 W Ř Ě K I W T F L Y B Y Y U Ď Ó
 P N N A E F Ó P Z Á Y S M Ť
 Z A Č Ť B Ý Ě O Ď Ř K O U J
 Ā W Ť A M Ř X X T H
 B Ā Ý Č Z P O P
 Ň B Ô F

(?) FOTOSYNTÉZA
 (?) KYSLÍK
 (?) VODA
 (?) ŽIARENIE
 (?) NÁROKY
 (?) NEDOSTATOK
 (?) HUMUS
 (?) BAKTÉRIE
 (?) SUROVINY

5. Odpovedz na nasledujúce otázky.

a) Aký význam má voda pre rastliny a živočíchy?

.....

b) Aký význam má pre rastliny a živočíchy pôda?

.....

c) Aký význam má slnečné žiarenie pre fotosyntézu?

.....

d) Aký význam má pre organizmy kyslík a oxid uhličitý vo vzduchu?

.....

e) Ako vplývajú rastliny na zložky vody, vzduchu a pôdy?

.....

Pracovní list č.3: Přírodní a kulturní zajímavosti Evropy

1. Doplň správně.



Názov:.....

Štát, v ktorom sa nachádza:

.....

Hlavné mesto štátu:

.....



Názov:.....

Štát, v ktorom sa nachádza:

.....

Hlavné mesto štátu:

.....



Názov:.....

Štát, v ktorom sa nachádza:

.....

Hlavné mesto štátu:

.....



Názov:.....
Štát, v ktorom sa nachádza:
.....
Hlavné mesto štátu:
.....




Názov:.....
Štát, v ktorom sa nachádza:
.....
Hlavné mesto štátu:
.....



Názov:.....
Štát, v ktorom sa nachádza:
.....
Hlavné mesto štátu:
.....



Názov:.....
Štát, v ktorom sa nachádza:
.....
Hlavné mesto štátu:
.....



Názov:.....

Štát, v ktorom sa nachádza:

.....

Hlavné mesto štátu:

.....

2. Vytvor správne dvojice.

- | | |
|---|-----------------------|
| a) Belovežský prales | 1. Slovensko |
| b) Dunajec – kaňon | 2. Island |
| c) Trümmelbach Falls – podzemný vodopád | 3. Česko |
| d) Voděranské bučiny | 4. Švédsko |
| e) Lascaux – jaskynný komplex | 5. Rumunsko |
| f) Cheile Turzii – tiesňava | 6. Slovensko |
| g) Skogafoss – vodopád | 7. Francúzsko |
| h) Domica – jaskyňa | 8. Poľsko, Bielorusko |
| i) Storforsen – pereje | 9. Švajčiarsko |

3. Rozhodni o pravdivosti nasledujúcich tvrdení.

- | | | |
|---|-----|-----|
| a) Chrám Vasilija Blaženého sa nachádza v Petrohrade. | Áno | Nie |
| b) Akropolis je posvätné návršie v Grécku. | Áno | Nie |
| c) Plitvické jazerá sa nachádzajú v Chorvátsku. | Áno | Nie |
| d) Sopka Vezuv sa nachádza v Bulharsku. | Áno | Nie |
| e) Maľby v Altamíre sa nachádzajú v Španielsku. | Áno | Nie |
| f) Chrám Sv. Štefana sa nachádza v Poľsku. | Áno | Nie |

4. Osemsmerovka. Nájdeš v nej prírodné a kultúrne zaujímavosti Európy.

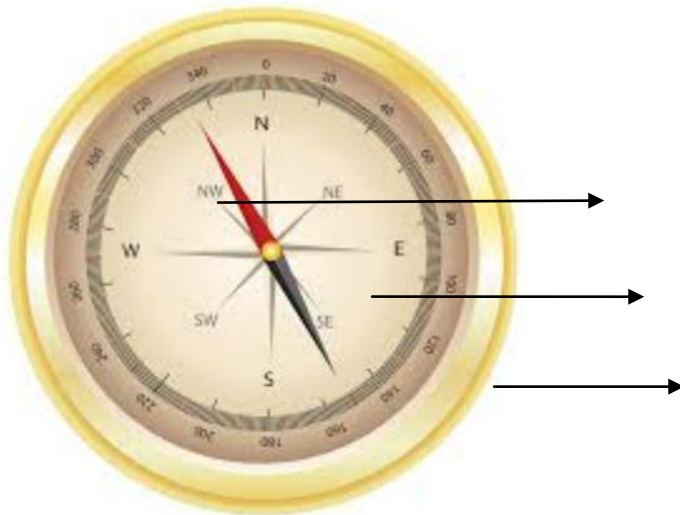
R L Ň X	Q O Z Ó	(?) NOTREDAME
G A I Ú O	V Ě O Č G	(?) NESSEBAR
S R B Z C J	Š É B O Š Y	(?) VERSAILLES
Ť O U E S V F	D L S F F C Ú	(?) NANCY
Ě D O S Y E Ž	S S L A G N Ā	(?) BORDEAUX
Á O B S Ž R Č	P O Í E Ý A Ž	(?) RODOS
V R M E X S I N X C O Ā N C		(?) LUXEMBOURG
H X E N I A Q L X E L Ť		(?) VALLETTA
L A X L Ó I H Q M Č		
Í Ý U R R L V A		
Ā Y P L J B L D		
Ô J V Ó C L Ý O E Q		
A Ď A K Č Z B A Y R S Ě		
Ó Ř L C F B D Ā G P T D N P		
L Q L Y Ú D Č	B P O A E X C	
N V E Í A L Č	Z N Ā Č A Ā Ě	
Z K T Ó V Ř Ň	L Ā T Ť U Ô S	
J T L Ú Ň Ň	Ý Ô X Y X L	
A Ú Č Z S	Z N Ó Y Ó	
X L K Š	D Ā L Ó	

Pracovní list č.4: Kompas a orientácia v teréne

1. Doplň do smerovej ružice správne svetové strany.



2. Popíš správne časti kompasu.



3. Doplň správne.

Pomocou kompasu najčastejšie určujeme

Smer sever – juh ukazuje ustálená kompasu.

Tmavý koniec strelky smeruje vždy na

4. Pracuj s kompasom a zisti:

Ktorým smerom od tvojho stanovišťa je škola?

.....

Urč pomocou kompasu, čo sa nachádza od budovy školy smerom na východ, západ, sever, juh.

.....

Zisti, ktorým smerom od školy odchádzaš domov.

.....

Zoznam bibliografických odkazov

1. HALÁS, M.,NOVÁKOVÁ, G. 2005. *Riešme geografickú olympiádu. Otázky a úlohy pre základné školy a osemročné gymnázia*. Bratislava: IUVENTA. ISBN 80-8072-041-X.
2. RUŽEK, LIKAVSKÝ. 2011. *Geografia pre 8. ročník základných škôl a 3 ročník gymnázií s osemročným štúdiom*, VKÚ, Harmanec, 2011
3. RUŽEK, LIKAVSKÝ. 2009. *Geografia pre 5. ročník ZŠ* .VKÚ, akciová spoločnosť, Harmanec, 2010.
4. TOLMÁČI, L. 2011. *Geografický atlas pre základné a stredné školy*. Harmanec: VKÚ, ISBN 978-80-8042-570-8.

Internetové zdroje:

<http://www.alejtech.eu/sk/Blog-o-webdizajne/Vektory-krajin-Europy-na-stiahnutie.alej?ind=>

<http://www.geography-exam.com/sk/atlas/azia/>

http://www.mapysveta.eu/slepa_mapa_afriky.php

<http://renytravel.blogspot.sk/2010/04/po-stopach-unesco-v-chorvatsku.html>

http://sk.wikipedia.org/wiki/Súbor:Poland_Bialowieza_-_BPN.jpg

http://sk.wikipedia.org/wiki/Súbor:Chartres_cathedral.jpg

http://sk.wikipedia.org/wiki/Solná_baňa_Wieliczka

http://sk.wikipedia.org/wiki/Súbor:Burg_Zips_2003_Ueberblick.jpg

http://www.zstravnik.cz/e_zemepis/mikesova/6_rocnik/obraz_Zeme.htm

<http://mubafa.com/mana-kompassmu-edisi-muker/>