



V

mpc
METODICKO-PEDAGOGICKÉ CENTRUM

M VZDELÁVANÍM
PEDAGOGICKÝCH ZAMESTNANCOV
K INKLÚZII MARGINALIZOVANÝCH
RÓMSKYCH KOMUNÍT



Moderné vzdelávanie pre vedomostnú spoločnosť / Projekt je spolufinancovaný zo zdrojov EÚ

Kód ITMS: 26130130051

číslo zmluvy: OPV/24/2011

Metodicko – pedagogické centrum

Národný projekt

**VZDELÁVANÍM PEDAGOGICKÝCH ZAMESTNANCOV
K INKLÚZII MARGINALIZOVANÝCH RÓMSKYCH KOMUNÍT**

Mária Tutokyová

**Krížom – krážom po Európe
1. časť**

2013

Vydavateľ: Metodicko-pedagogické centrum,
Ševčenkova 11, 850 01
Bratislava

Autor UZ: PaedDr. Mgr. Mária Tutokyová

Kontakt na autora UZ: ZŠ s MŠ Terňa

Názov: **Križom – krážom po Európe,
1. časť**

Rok vytvorenia: 2013

**Oponentský posudok
vypracoval:** Mgr. Henrieta Klimovičová


ISBN 978-80-8052-846-1

Tento učebný zdroj bol vytvorený z prostriedkov projektu Vzdelávaním pedagogických zamestnancov k inklúzii marginalizovaných rómskych komunit. Projekt je spolufinancovaný zo zdrojov Európskej únie.

Text neprešiel štylistickou ani grafickou úpravou.

Obsah:

OBLASTI EURÓPY.....	5
ŠTÁTY EURÓPY.....	7
HLAVNÉ MESTÁ	13
MONARCHIE.....	19
ZAÚJÍMAVOSTI Z EURÓPY	22



Krížom kráľom po Európe 1. časť



OBLASTI EURÓPY

Ku každému štátu doplň oblasť Európy, v ktorej sa štát nachádza.

štát	oblasť Európy	štát	oblasť Európy
Slovensko		Nemecko	
Island		Holandsko	
Francúzsko		Andorra	
Rusko		Vatikán	
Bulharsko		Grécko	
Taliansko		Írsko	
Poľsko		Maďarsko	
Švédsko		Slovinsko	
Litva		Rumunsko	
Luxembursko		Ukrajina	
Švajčiarsko		Lotyšsko	
Malta		Španielsko	
Portugalsko		Dánsko	
Bielorusko		Srbsko	
Česko		Moldavsko	
Macedónsko		Rakúsko	
Belgicko		Veľká Británia	
Nórsko		Fínsko	
Estónsko		San Marino	
Chorvátsko		Lichtenštajnsko	
Monako		Čierna Hora	

Bosna a
Hercegovina

Albánsko



<http://sk.wikipedia.org/wiki/Eur%C3%B3pa>

- Nordeuropa - severná Európa
- Osteuropa - východná Európa
- Südosteuropa - juhovýchodná Európa
- Südeuropa - južná Európa
- Westeuropa - západná Európa
- Mitteleuropa - stredná Európa



ŠTÁTY EURÓPY

1. Na mapke sú jednotlivé európske štáty označené číslom. K číslam pod mapkou dopíš názvy štátov.







- | | | |
|---------|----------|----------|
| 1. | 16. | 31. |
| 2. | 17. | 32. |
| 3. | 18. | 33. |
| 4. | 19. | 34. |
| 5. | 20. | 35. |

- | | | |
|----------|----------|----------|
| 6. | 21. | 36. |
| 7. | 22. | 37. |
| 8. | 23. | 38. |
| 9. | 24. | 39. |
| 10. | 25. | 40. |
| 11. | 26. | 41. |
| 12. | 27. | 42. |
| 13. | 28. | 43. |
| 14. | 29. | 44. |
| 15. | 30. | 45. |



Podľa obrysov urč, o ktorý štát Európy ide.






<http://www.purposegames.com/game/europske-krajiny-quiz>

Urč k jednotlivým obrázkom štáty, z ktorých tieto obrázky pochádzajú































Maďarsko, Holandsko, Fínsko, Nórsko, Španielsko, Island

HLAVNÉ MESTÁ

Doplň tabuľku.

Názov štátu a vlajka	Rozloha (km ²)	Počet obyvateľov (odhad k 1. 7. 2002)	Hlavné mesto
 Bielorusko	207 600	10 335 382	
 Lotyšsko	64 589	2 366 515	
 Litva	65 200	3 601 138	
 Estónsko	45 226	1 415 681	
 Rusko	3 960 000	106 037 143	
 Ukrajina	603 700	48 396 470	
 Dánsko	43 094	5 368 854	
 Fínsko	336 593	5 157 537	
 Island	103 000	304 334	
 Írsko	70 280	3 883 159	
 Nórsko	324 220	4 525 116	
 Švédsko	449 964	9 090 113	
 Albánsko	28 748	3 544 841	

 Andorra	468	68 403	
 Bosna a Hercegovina	51 129	3 964 388	
 Chorvátsko	56 542	4 390 751	
 Grécko	131 940	10 645 343	
 Taliansko	301 230	57 715 625	
 Macedónsko	25 333	2 054 800	
 Malta	316	397 499	
 Čierna Hora	13 812	616 258	
 Portugalsko	91 568	10 084 245	
 San Maríno	61	27 730	
 Srbsko	88 361	9 663 742	
 Slovinsko	20 273	1 932 917	
 Španielsko	498 506	40 077 100	
 Bulharsko	110 910	7 621 337	
 Moldavsko	33 843	4 434 547	

 Rumunsko	238 391	21 698 181	
 Spojené kráľovstvo	244 820	59 778 002	
 Belgicko	30 510	10 274 595	
 Francúzsko	547 030	59 765 983	
 Nemecko	357 021	83 251 851	
 Lichtenštajnsko	160	32 842	
 Luxembursko	2,586	448,569	
 Monako	1,95	31 987	
 Holandsko	41 526	16 318 199	
 Česko	78 866	10 256 760	
 Maďarsko	93 030	10 075 034	
 Poľsko	312 685	38 625 478	
 Slovensko	48 845	5 554 324	
 Švajčiarsko	41 290	7 301 994	
 Rakúsko	83 858	8 169 929	

Poznáš hlavné mestá Európy?


SPOZNAJ MESTO!

1



SPOZNAJ MESTO!

2



SPOZNAJ MESTO!

3



SPOZNAJ MESTO!

4




SPOZNAJ MESTO!

5



SPOZNAJ MESTO!

6




SPOZNAJ MESTO!

7




SPOZNAJ MESTO!

8



http://www.zborovna.sk/kniznica.php?action=show_version&id=203437

Berlín, Praha, Paríž, Štokholm, Londýn, Viedeň, Moskva, Rím



MONARCHIE EURÓPY

Na mape sú farebne vyznačené štáty, ktoré sú monarchiami.

Monarchia je štátne zriadenie resp. štát, na čele ktorého stojí panovník (monarcha – cisár, kráľ, knieža...).



http://cs.wikipedia.org/wiki/Seznam_monarchi%C3%AD_v_Evrop%C4%9B

Vpíš do mapy názvy európskych štátov, ktoré sú monarchiami.

-  Andorrské
-  Belgické
-  Dánske
-  Lichtenštajnske
-  Luxemburské
-  Monacké
-  Holandské
-  Nórske
-  Španielske
-  Švédske
-  Spojené kráľovstvo Veľkej Británie a Severného Írska
-  Mestský štát Vatikán

Spoznaj vládcov európskych monarchií.

			
meno:	Henri of Luxembourg		Hans Adam II.
štát: Belgicko			
			
meno:			
štát:	Andorra		Švédsko
			
meno:			Harald V.
štát:			

ZAÚJÍMAVOSTI Z EURÓPY

Hľadaj správnu odpoveď podľa pomôcok na obrázku.



POHORIE

- pri pobreží Jadranského mora
- juhovýchodná Európa



VÝROBOK

- súčasť kvalitných parfumov a krémov
- juhovýchodná Európa



SOPKA

- najvyššia činná sopka Európy
- južná Európa



RIEKA

- 346 km dlhá rieka
- západná Európa

ŠTÁT

- výroba automobilov
- stredná Európa



NÁRODNOSŤ

- svetová tenisová 1
- juhovýchodná Európa



OSTROV

- v Stredozemnom mori
- západná Európa



VÝVOZNÝ ARTIKEL

- strom na obrázku
- južná Európa

Spoznaj niektoré pamiatky UNESCO v Európe.

Do textu na vybodkované miesto dopíš názov pamiatky zapísanej do zoznamu UNESCO alebo krajinu, v ktorej sa táto pamiatka nachádza

..... / **Červený palác** / - **Granada** - / UNESCO - 1984 /
komplex palácov a pevností maurských / moslimských / vládcov, staval sa v 13. a 14. stor.,
výzdobu tvorí veľa arabesiek / rastlinných motívov /, veľa mramorových stĺpov pospájaných
oblúkmi. Zaujímavá je levia fontána / na obrázku /, ktorá slúžila ako hodiny. Levov je 12 a
jeden lev každú hodinu chľlil vodu.



Údolie Rýna – /UNESCO-2002/ 65km dlhý úsek horného údolia stredného Rýna so 40-mi hradmi, zámkami a pevnosťami, historickými mestami, vinicami a pôsobením človeka na prírodu. Je to oblasť od starého rímskeho mesta Koblenz do mesta Bingen – označovaná ako romantická oblasť pre turistov.



..... –/ **UNESCO- 1978**/ Prvá zmienka o meste pochádza z 10.stor. Najvýznamnejšie pamiatky sú katedrála Wawel – korunovačné miesto bývalých vládcov a pohrebisko najväčších Poliakov histórie. Zvon Zigmund v katedrále sa považuje za najväčší zvon v strednej Európe a staré mesto s najväčším stredovekým námestím na svete. Ďalšími pamiatkami sú bývalá židovská štvrť Kazimierz so synagógami a židovskými cintorínmi a Collegium Maius – najstaršia budova univerzity v Poľsku/ z 15. stor./



..... – **Maďarsko / UNESCO – 1999**/ je najväčší a najstarší NP v Maďarsku založený r. 1973, ktorý je domovom viacerých ohrozených živočíchov – najmä vtákov, ktorých tu žije viac ako 330 druhov, napr. dropy, orly sokoly, prepelice , jarabice, žeriavy. Z hospodárskych zvierat tu správa národného parku chová maďarské ovce – racky , maďarský stepný dobytok a iné.

