



mpc
METODICKO-PEDAGOGICKÉ CENTRUM

M VZDELÁVANÍM
PEDAGOGICKÝCH ZAMESTNANCOV
K INKLÚZII MARGINALIZOVANÝCH
RÓMSKÝCH KOMUNIT



Moderné vzdelávanie pre vedomostnú spoločnosť / Projekt je spolufinancovaný zo zdrojov EÚ

Kód ITMS: 26130130051

číslo zmluvy: OPV/24/2011

Metodicko – pedagogické centrum

Národný projekt

**VZDELÁVANÍM PEDAGOGICKÝCH ZAMESTNANCOV
K INKLÚZII MARGINALIZOVANÝCH RÓMSKÝCH KOMUNIT**

Adriana Tóthová
Česká republika a hlavné mesto

2014

Vydavateľ: Metodicko-pedagogické centrum,
Ševčenkova 11, 850 01
Bratislava

Autor UZ: Mgr. Adriana Tóthová
Kontakt na autora UZ: ŠZŠ Trebišov, M. R. Štefánika
83,075 01 Trebišov,
adinkaadina@azet.sk

Názov: Česká republika a hlavné mesto
Rok vytvorenia: 2014
Oponentský posudok
vypracoval: < Mgr.Katarína Skokanová >
ISBN 978-80-565-0783-4

Tento učebný zdroj bol vytvorený z prostriedkov projektu Vzdelávaním pedagogických zamestnancov k inklúzii marginalizovaných rómskych komunit. Projekt je spolufinancovaný zo zdrojov Európskej únie.

Text neprešiel štylistickou ani grafickou úpravou.

Obsah: Česká republika a hlavné mesto

Česká republika



Česko je stredoeurópsky štát. Susedí s Nemeckom, s Pol'skom, so Slovenskom a s Rakúskom. Česko tvoria Čechy, Morava a české Sliezsko. Podnebie má mierne a prechodné. Povrch tvoria pahorkatiny a niekoľko pohorí. Pohoria sú Krkonoše a Biele Karpaty. Najvyššia hora je Sněžka.

Hlavné mesto je Praha. Iné väčšie mestá sú Brno, Ostrava, Plzeň a Liberec.. Hlavnými tokmi sú tu Labe a Vltavou, rieka Morava a Opava . Lesy sú prevažne ihličnaté .

Česko je priemyselny štát. Ku kľúčovým nerastným surovinám ťažených v Česku patrí čierne a hnedé uhlie. V malom rozsahu sa ťaží ropa, zemný plyn a ďalšie suroviny.

Poľnohospodárska výroba takmer pokrýva domácu spotrebu. Pestuje sa hlavne obilie (pšenica, jačmeň, kukurica), zemiaky, cukrová repa, zelenina, ľan a repka. Svoj význam má aj pestovanie chmeľu a vinohradníctvo.

Významným produktom a aj exportným tovarom je pivo. Základom živočíšnej výroby je chov kráv, ošípaných a hydiny, ďalej včelárstvo a chov sladkovodných rýb (najmä kaprov). Česko má hustú dopravnú sieť. Ťahačom vývozu je automobilový priemysel. Svetoznáme kúpeľné mesto sú Karlove Vary.

1. Vyhľadaj v texte a vypíš štáty, s ktorými susedí Česko.....


.....

.....



2. *Hlavným mestom Čiech je/zakrúžkuj správnu odpoveď/*

a/ Praha



b/ Brno



c/Košice



d/Ostrava

3. Vypíš z textu české mestá:.....

.....

4 Aké pohoria sú v Čechách



5. Najvyšší vrch Čech je Sněžka?

áno nie

5. Napiš správnou odpověď - přiřaďuj

/Praha , Česko, Vltava, Krkonoše/:

hlavné mesto.....

šťát.....



rieka.....

pohorie.....

6.Podčiarkni rieky : Vltava Labe Beskydy Morava Tábor



V Čechách je velké množství chovných

rybníků



7. Vyhľadaj v texte a vypíš všetky poľnohospodárske plodiny, ktoré sa pestujú v Čechách :

.....

8 Podčiarkni správnu odpoveď.

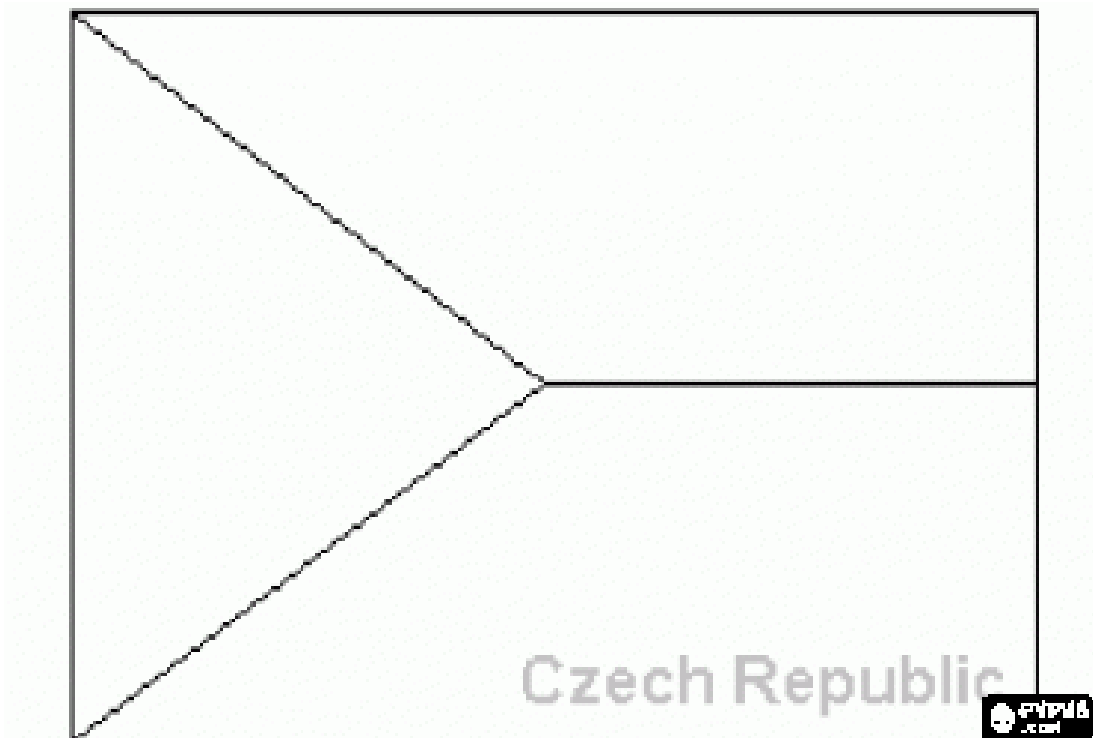
Karlove Vary sú: kúpele hlavné mesto rieka






Vo svete si českí hokejisti urobili dobré meno. Repräsentujú svoju krajinu .

Vymaluj štátnu vlaku:





Praha

Praha je najväčšie a hlavné mesto Česka ,Mestom preteká rieka Vltava..

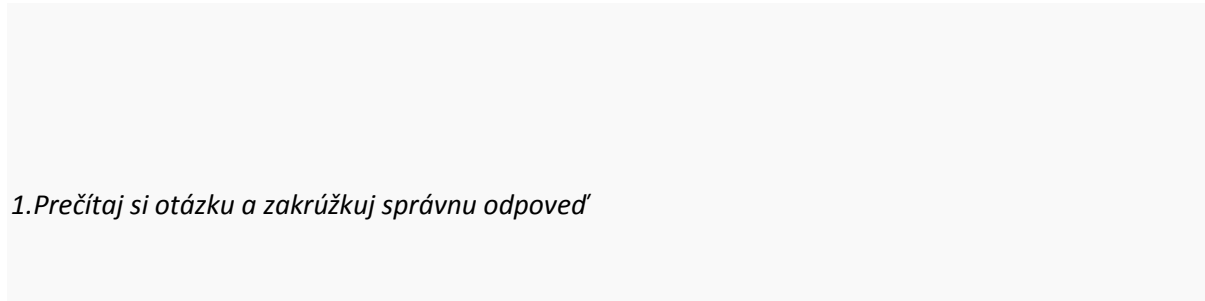

Historické centrum mesta s jedinečnou panorámou Pražského hradu je pamiatkovou rezerváciou UNESCO. V meste je veľa národných kultúrnych pamiatok a tisíce stavebných a umeleckých pamiatok.

Najkrajšie pamiatky sú: Staré Město, Josefov, Malá Strana, Hradčany s Pražským hradom, Nové Město a Vyšehrad. Je to najrozsiahlejšia mestská pamiatková rezervácia v Európe.

V Prahe žije trvalo asi 1 200 000 obyvateľov Praha je dopravnou križovatkou. Na západe je diaľnica do Plzne a Norimbergu, na východe zas diaľnica do Brna a Ostravy a na severe smerom na Ústí nad Labem a Nemecka a na východe smerom na Hradec Králové..

Letisko sa nachádza v Ruzyni v severozápadnej časti mesta a je po viedenskom letisku druhým najväčším v strednej Európe. V meste je aj prístav na rieke Vltava.

Doprava je posilnená metrom, električkami, autobusmi a železnicou.



1.Prečítaj si otázku a zakrúžkuj správnu odpoveď

1.Hlavným mestom českej republiky je:

A/ Brno



B/Plzeň

C/Bratislava

D/Praha

2. Hlavným mestom preteká rieka Labe.

Pravda

Nepravda

3. Doplňovačka.



Vo veľkom /...../žije veľa ľudí.



Cez deň pracujú a poobede oddychujú v/alebo



športujú alebo doma sledujú



Deti sa hrajú s..... a

4. Prehadzované písmená. otsem

akeir.....

oknls.....

kolednop.....

morts.....



5. Vymenuj svetové strany.

6.

Urč polohu ostatných miest

Praha

Budapešť

Varšava

Kyjev

a/Sever

b/Východ

c/Západ

d/Juh

7.

V článku sa uvádza názov organizácie, ktoré má na starosti historické pamiatky. Tam patrí aj

Pražský hrad ako sa volá?.....



Obrázky zo stovežatej.....



Metro



Staromestská radnica



Václavské námestie



Karlov most



Vyšehrad



Hradčany



Národní divadlo



Petřín



Orloj



