



**mpc**  
METODICKO-PEDAGOGICKÉ CENTRUM

**VZDELÁVANÍM  
PEDAGOGICKÝCH ZAMESTNANCOV  
K INKLÚZII MARGINALIZOVANÝCH  
RÓMSKÝCH KOMUNÍT**



Moderné vzdelávanie pre vedomostnú spoločnosť / Projekt je spolufinancovaný zo zdrojov EÚ

Kód ITMS: 26130130051

číslo zmluvy: OPV/24/2011

## **Metodicko – pedagogické centrum**

### **Národný projekt**

#### **VZDELÁVANÍM PEDAGOGICKÝCH ZAMESTNANCOV K INKLÚZII MARGINALIZOVANÝCH RÓMSKÝCH KOMUNÍT**

**Mgr. Miriam Hadzimová**

#### **Práca v záujmovom útvare TURISTICKÝ KRÚŽOK II.časť**

**Vydavateľ:** Metodicko-pedagogické centrum,  
Ševčenkova 11, 850 01  
Bratislava

**Autor UZ:** Mgr. Miriam Hadzimová  
**Kontakt na autora UZ:** Základná škola Kojatice 84  
082 32 Svinia  
mhadzimova1@gmail.com

**Názov:** Práca v záujmovom útvare  
Turistický krúžok II.časť

**Rok vytvorenia:** 2014  
**Oponentský posudok  
vypracoval:** PaedDr. Alena Rerková

**ISBN** 978-80-565-0553-3

Tento učebný zdroj bol vytvorený z prostriedkov projektu Vzdelávaním pedagogických zamestnancov k inklúzii marginalizovaných rómskych komunít. Projekt je spolufinancovaný zo zdrojov Európskej únie.

Text neprešiel štylistickou ani grafickou úpravou.

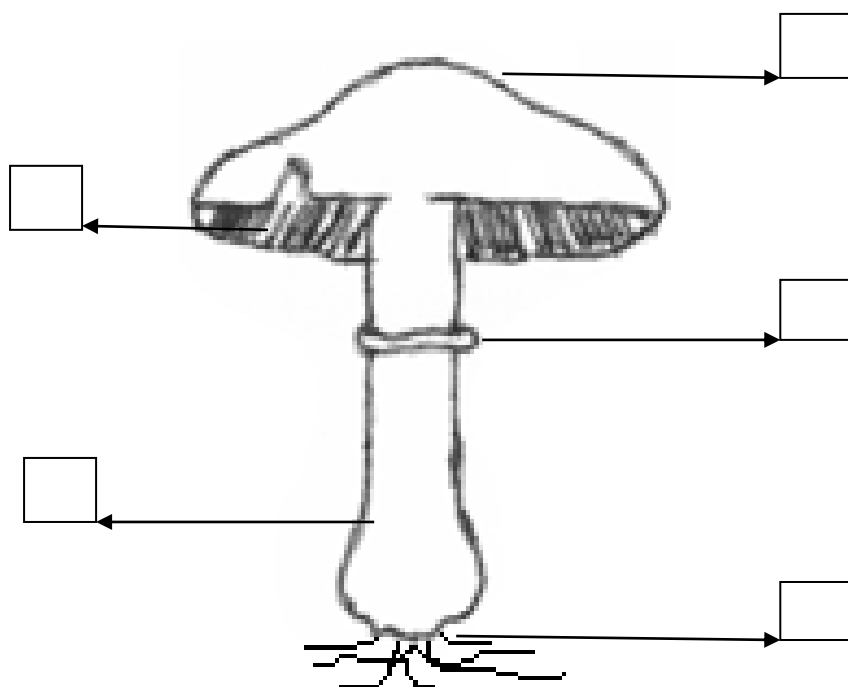
## Obsah

Pracovný list č. 15: Turistická vychádzka V- Poznaj a chráň huby .....	5
Pracovný list č. 16: Poznaj a chráň huby II .....	6
Pracovný list č. 17: Poznaj a chráň huby III.....	7
Pracovný list č. 18: Poznaj jedovaté huby.....	8
Pracovný list č. 19: Poznaj jedlé huby.....	9
Pracovný list č. 20: Turistická vychádzka VI – Poznávame liečivé rastliny I .....	10
Pracovný list č. 21: Poznávame liečivé rastliny II .....	11
Pracovný list č. 22: Poznávame liečivé rastliny III .....	12
Pracovný list č. 23: Poznávame jedovaté rastliny .....	13
Pracovný list č. 24: Poznávame chránené rastliny .....	14
Pracovný list č. 25: Turistická vychádzka VII – Orientácia s kompasom.....	15
Pracovný list č. 26: Orientácia s kompasom - Hlavné a vedľajšie svetové strany .....	16
Pracovný list č. 27: Orientácia podľa svetových strán .....	17
Pracovný list č. 28: Svetové strany I .....	18
Pracovný list č. 29: Svetové strany II.....	19
Pracovný list č. 30: Určovanie svetových strán v prírode .....	20
Pracovný list č. 31: Turistická vychádzka VIII – Mapa.....	21
Pracovný list č. 32: Farby na mape .....	22
Pracovný list č. 33: Pohoria na mape .....	23
Pracovný list č. 34: Národné parky na mape.....	24
Pracovný list č. 35: Vodstvo na mape .....	25
Pracovný list č. 36: Vodné toky na mape.....	26
Pracovný list č. 37: Osemsmerovka – rieky Slovenska.....	27
Pracovný list č. 38: Ako sa vyznať vo svojom okolí.....	28
Pracovný list č. 39: Ako vzniká mapa .....	29

Pracovní list č. 40: Poznáváme přírodu na jar .....	30
Pracovní list č. 41: Poznáváme přírodu na jeseň .....	31
Pracovní list č.42: Poznáváme přírodu v zime .....	32
Pracovní list č. 43: Poznáváme přírodu v lete .....	33

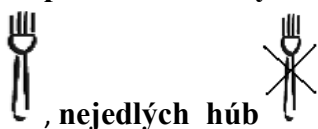
## Pracovní list č.15: Turistická vychádzka V- Poznaj a chráň huby

Zapiš číslami názvy časti tela huby:



- |             |
|-------------|
| 1. klobúk   |
| 2. prsteň   |
| 3. hlúbik   |
| 4. výtrusy  |
| 5. podhubie |

Dopíš časti tela k týmto dvom hubám. Dokresli k nim správne označenie jedlých húb



, nejedlých húb



pečiarka ovčia  
– jedlá huba

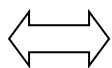


muchotrávka zelená (hluznatá)  
– smrteľne jedovatá huba

## Pracovní list č. 16: Poznaj a chráň huby II

Nájdí v štvorsmesmerovke názvy jedlých húb:

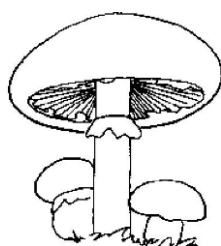
Hríb dubový, Kuriatko jedlé, Rýdzik korenistý, Bedľa jedlá, Kozák osikový, Pečiarka



H	R	Í	B	D	U	B	O	V	Ý
Q	Í	W	E	R	T	É	R	T	V
A	DZ	S	D	F	G	L	H	J	O
Y	I	X	Ľ	C	V	D	B	N	K
A	K	R	A	I	Č	E	P	I	I
E	K	U	J	A	O	J	J	I	S
Y	O	M	E	N	F	O	DZ	Ň	O
B	R	V	D	C	E	K	Ď	X	K
C	E	Á	L	Q	W	T	U	Z	Á
E	N	R	Á	M	N	A	I	Ž	Z
H	I	G	Ú	É	Ľ	I	Č	J	O
A	S	A	E	I	O	R	Ú	F	K
V	T	M	N	S	Š	U	T	Ť	Ť
K	Ý	M	P	O	D	K	E	L	I

## Pracovní list č. 17: Poznaj a chráň huby III

Nájdí dvojice húb ktoré k sebe patria, nakreslené huby vyfarbi:



## Pracovní list č. 18: Poznaj jedovaté huby

Poskladať popletené názvy našich najjedovatejších húb



**BÍHR TANSÁ**



**KARÁVCHOTMU  
NÁČERVE**



**KARÁVCHOTMU  
ROTIGNÁVA**



**KARÁVCHOTMU LEZENÁ**



## Pracovní list č. 19: Poznaj jedlé huby

Obrázky jedlých hub vystrihni a nalep do košíka



## Pracovný list č. 20: Turistická vychádzka VI – Poznávame liečivé rastliny I

Pomenuj liečivé rastliny a spoj bylinu s jej liečivým účinkom



\_\_\_\_\_  
**NA UPOKOJENIE**



\_\_\_\_\_  
**PROTI KAŠĽU**



\_\_\_\_\_  
**HOJENIE RÁN**











\_\_\_\_\_  
**TRÁVENIE**



\_\_\_\_\_  
**ZÁPAL DÝCHACÍCH CIEST**

## Pracovný list č. 21: Poznávame liečivé rastliny II

Vystrihni obrázky bylín z dolnej časti pracovného listu a doplň ich do kvetinového sudoku. V žiadnom štvorci, stĺpci ani riadku sa obrázky nesmú opakovať!





## Pracovní list č. 23: Poznáváme jedovaté rostliny

Pozbieraj postrácané písmenká a napíš pod obrázky správne názvy jedovatých rastlín



U Ľ K V C  
L O E  
Z L O O N Ý  
M C




V N IE  
R A  
K O O  
Š O I S É T  
T V R L



K N V I A  
O A L N A  
K  
V Ň O A V Á

## Pracovní list č.24: Poznáváme chránené rostliny

Názvy rostlín čítaj odzadu a správne prepíš do prázdneho okna



ánraj aľudelB



vosiulc ceroH



ýkspla celkinoP

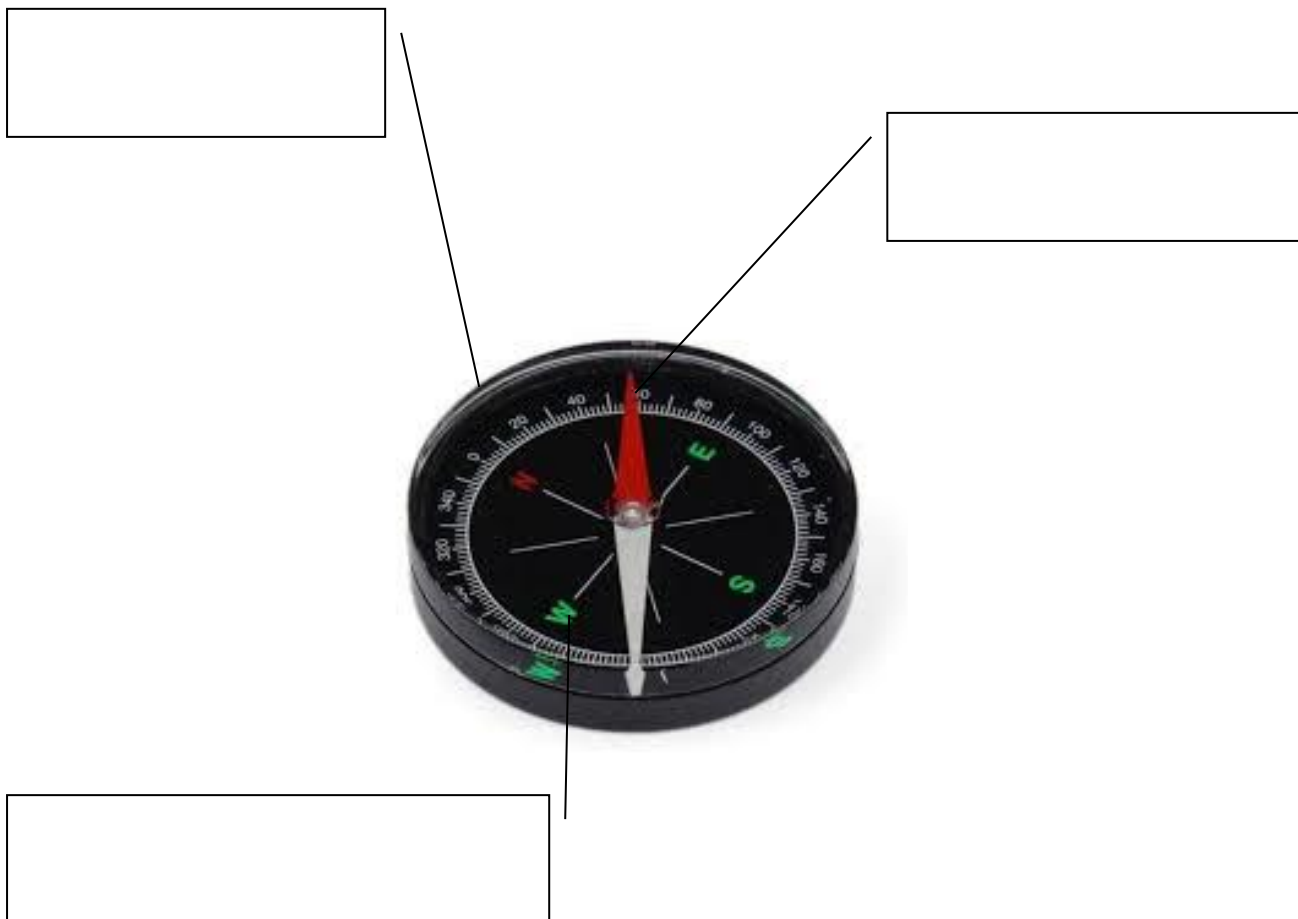


ávalhotalz ailaĽ

## Pracovní list č. 25: Turistická vychádzka VII – Orientácia s kompasom

Dopíš pomenovania častí kompasu do príslušných okienok :

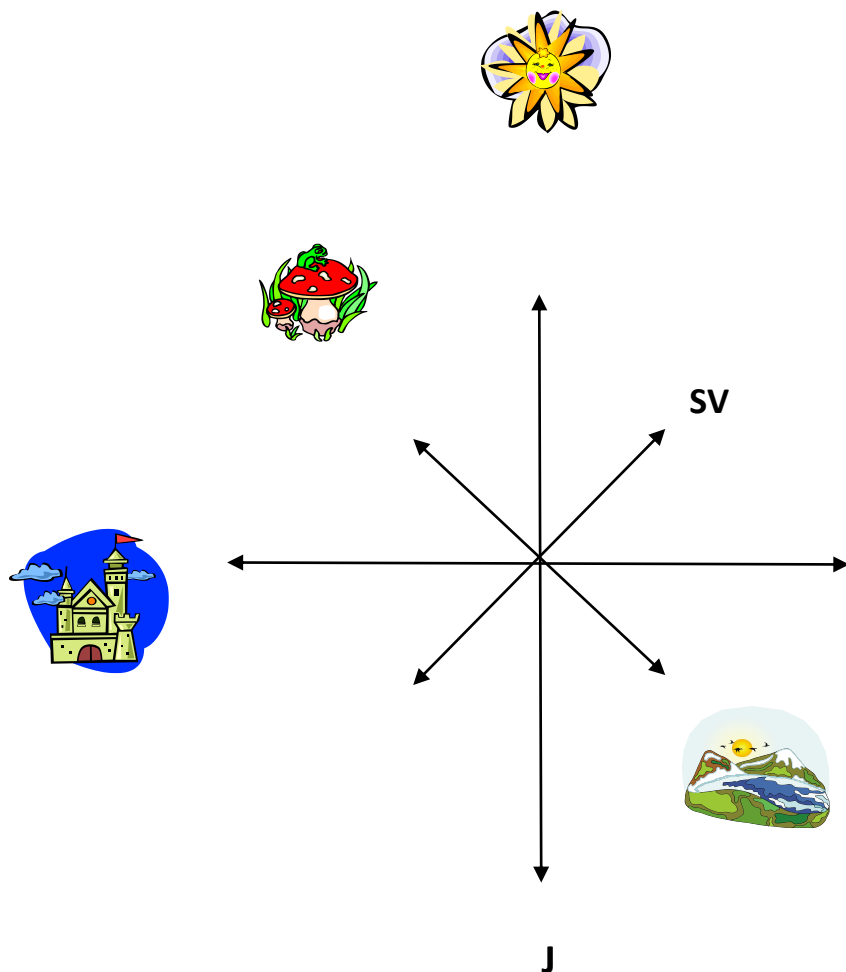
### PUZDRO, STRELKA, SMEROVÁ RUŽICA



Pomenuj hlavné a vedľajšie svetové strany na smerovej ružici

S		SZ
J		SV
V		JZ
Z		JV

## Pracovný list č. 26: Orientácia s kompasom - Hlavné a vedľajšie svetové strany



Urči svetové strany:

SLNIEČKO je na \_\_\_\_\_

MUCHOTRÁVKA je na \_\_\_\_\_

ZÁMOK je na \_\_\_\_\_

POHORIE je na \_\_\_\_\_

Do smerovej ružice dokresli:

na VÝCHOD – vidličku

na JUH – jazierko

na SEVEROVÝCHOD – stromček

na JUHOZÁPAD - jahôdku



## Pracovní list č. 27: Orientácia podľa svetových strán

### 1. POZBIERAJ PÍSMENKÁ Z TÝCHTO POLÍČOK

- Smer 5 políček na SEVER
- Smer 2 políčka na VÝCHOD
- Smer 2 políčka na SEVEROZÁPAD
- Smer 3 políčka na ZÁPAD
- Smer 7 políček na JUH
- Smer 1 políčko na VÝCHOD
- Smer 6 políček na SEVEROVÝCHOD
- Smer 1 políčko na JUHOVÝCHOD

A SI NA KONCI



ČO TI VYŠLO?

\_\_\_\_\_

NAPÍŠ TRASU SLOVA **AHOJ** (AHOJ vyberáš na ľubovoľných políčkach)

P	A	P	A	S	F	T	T	Q	O	X
T	X	E	S	T	U	K	S	A	Ť	X
Č	S	O	H	H	B	U	J	V	A	T
S	P	T	Š	J	Á	T	A	V	E	V
X	K	B	I	H	V	A	Ý	H	A	!
G	F	L	Á	O	R	G	Q	A	M	O
P	M	Ľ	J	J	H	H	A	T	M	A
S	Č	M	T	T	A	Č	S	A	T	O
J	O	H	A	J	B	P	Q	Q	Ľ	M
S	J	R	N	M	START	T	S	B	T	P

\_\_\_\_\_

\_\_\_\_\_

\_\_\_\_\_

\_\_\_\_\_

\_\_\_\_\_

## Pracovní list č. 28: Svetové strany I



**Nevymalovaný kocúr v strede rozmýšľa:**

Čo robí mačka na SEVERE \_\_\_\_\_

Ako vyzerá mačka na JUHU \_\_\_\_\_

V čom je mačka na VÝCHODE \_\_\_\_\_

Akej farby je mačka na ZÁPADE \_\_\_\_\_

Čo má na hlave mačka na JUHOZÁPADE \_\_\_\_\_

Čím sa ozdobila mačka na SEVEROVÝCHODE \_\_\_\_\_

Pod čím sa ukrýva mačka na JUHOVÝCHODE \_\_\_\_\_

Akú farbu má mačka na SEVEROZÁPADE \_\_\_\_\_

## Pracovný list č. 29: Svetové strany II

Na ktorú svetovú stranu smerujú letáčky úľov pre včielky?


(S,V,Z,J,SV,SZ,JV,JZ)



Na ktorej svetovej strane je oltár v každom kostole?

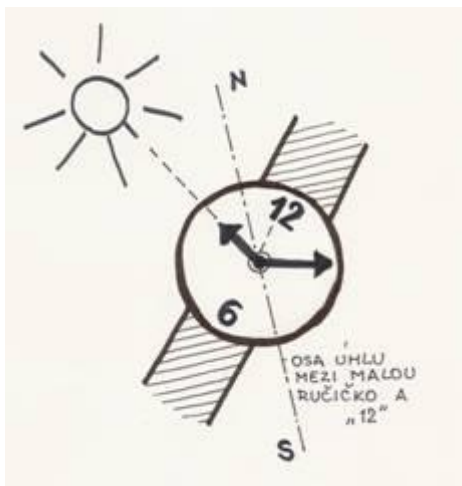


Z ktorej svetovej strany sú stromy viac obrastené konármi?





## Pracovný list č. 30: Určovanie svetových strán v prírode

Na zorientovanie sa v prírode ti stačí len slnko a ciferníkové hodinky. Pozoruj obrázok (N =Sever, S=Juh)

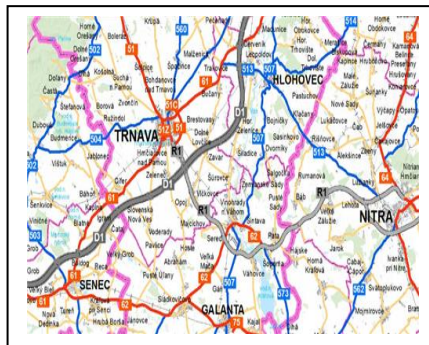


Vyskúšaj sa a šípkou vyznač cestu na SEVER:



## Pracovný list č. 31: Turistická vychádzka VIII – Mapa

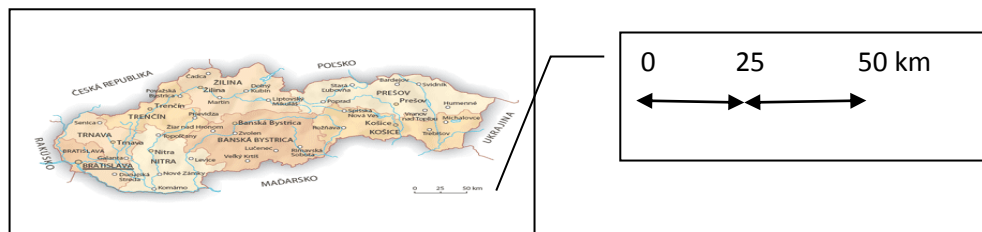
Pomenuj mapy (geografická, cestná, turistická). Ktorú mapu používate v škole najčastejšie?  
**OZNAČ** ju krížikom.



**VYBER** správne pomenovanie:

\_\_\_\_\_ (MAKETA, MAPA, KOMPAS) je zjednodušený a zmenšený obraz časti zemského povrchu.

Toto zmenšenie vyjadruje \_\_\_\_\_ (MIERKA MAKETY, MIERKA KOMPASU, MIERKA MAPY).



**POSÚĎ** a **ZAKRÚŽKUJ**, akú vzdialenosť predstavuje 1 cm na tejto mape?

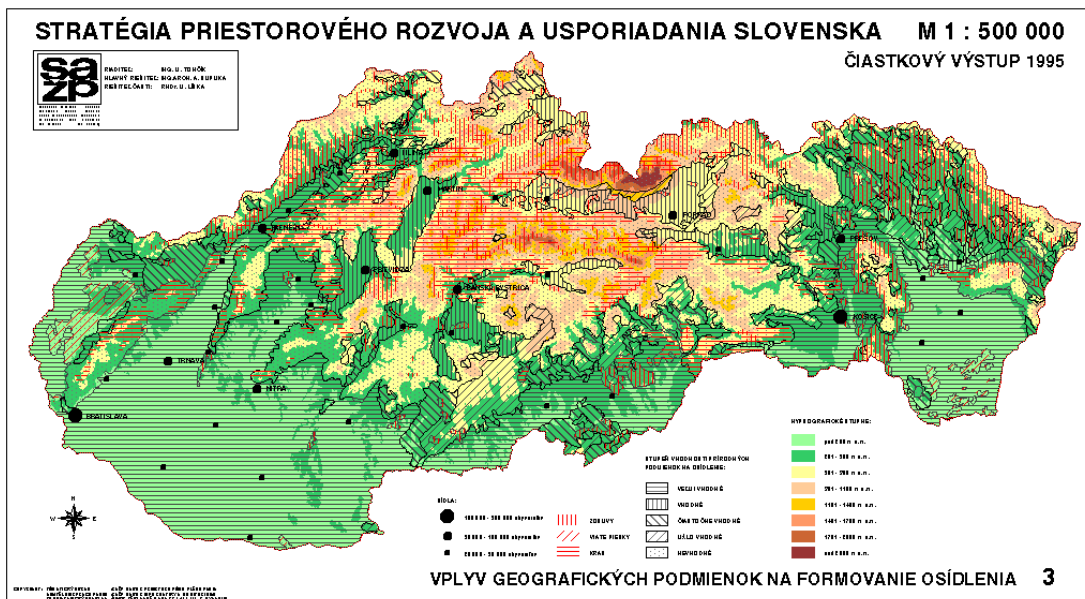
25 km

50 km

25 m

## Pracovný list č. 32: Farby na mape

Pozorne si prezri mapu Slovenska, pomôž si legendou pod mapou:



Správne **PRIRAĎ** a **SPOJ ČIAROU** pojem a farbu, ktorá ho na mape symbolizuje:

rieky, jazerá

nížiny

pohoria



hnedá farba

červená farba

sivá farba

modrá farba

zelená farba

**VYFARBI** v slepej mape Slovenska správnou farbou všetky nížiny na Slovensku:



### Pracovný list č. 33: Pohoria na mape

**ZAKRÚŽKUJ** svoj výber. Na Slovensku máme veľa krásnych miest. Medzi najkrajšie patria naše hory a pohoria Medzi najznámejšie patria:

**A /** Vysoké a Nízke Tatry, Malá a Veľká Fatra, Malé Karpaty

**B/** Malé a Veľké Tatry, Malé Karpaty, Vysoké a Nízke Tatry

**C/** Vysoké Karpaty, Vysoké a Nízke Tatry, Malá a Veľká Fatra



**DOPLŇ** tvrdenie. Svoj výber **OZNAČ KRÍŽIKOM**. Niektoré územia našej krajiny boli vyhlásené za **CHRÁNENÉ**, aby .....

sme ich krásu ukryli pred cudzincami

sa ich krásu a bohatstvo zachovali aj pre budúce generácie

ich krásu a bohatstvo nikdy nikto nevidel

**Správne PRIRAĎ a SPOJ** čiarou skratku a pomenovanie národného parku:

TANAP

Pieninský národný park

PIENAP

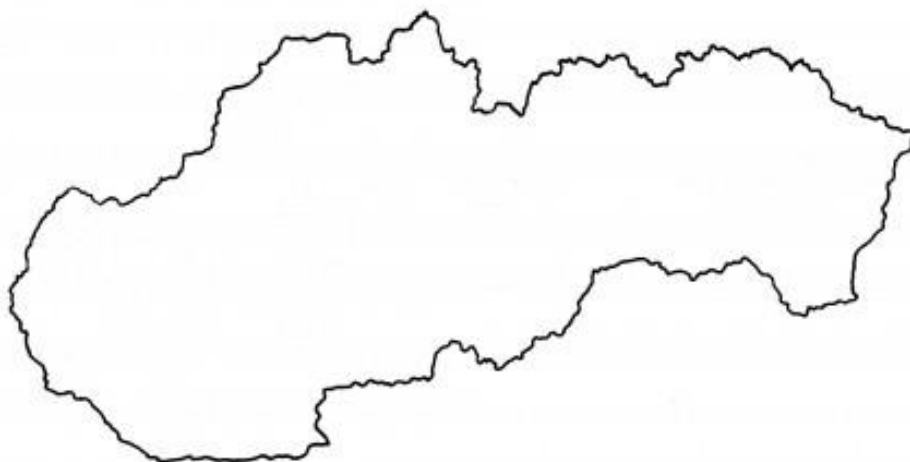
Národný park Nízke Tatry

NAPANT

Tatranský národný park

## Pracovný list č. 34: Národné parky na mape

Vyznač v slepej mape najznámejšie pohoria Slovenska ( Vysoké Tatry, Nízke Tatry, Veľká Fatra, Malá Fatra, Malé Karpaty)



Nájdí v šest'smerovke názvy niektorých národných parkov Slovenska ( TANAP, NAPANT, PIENAP, Poloniny, Slovenský raj, Slovenský kras, Muránska planina, Malá Fatra)



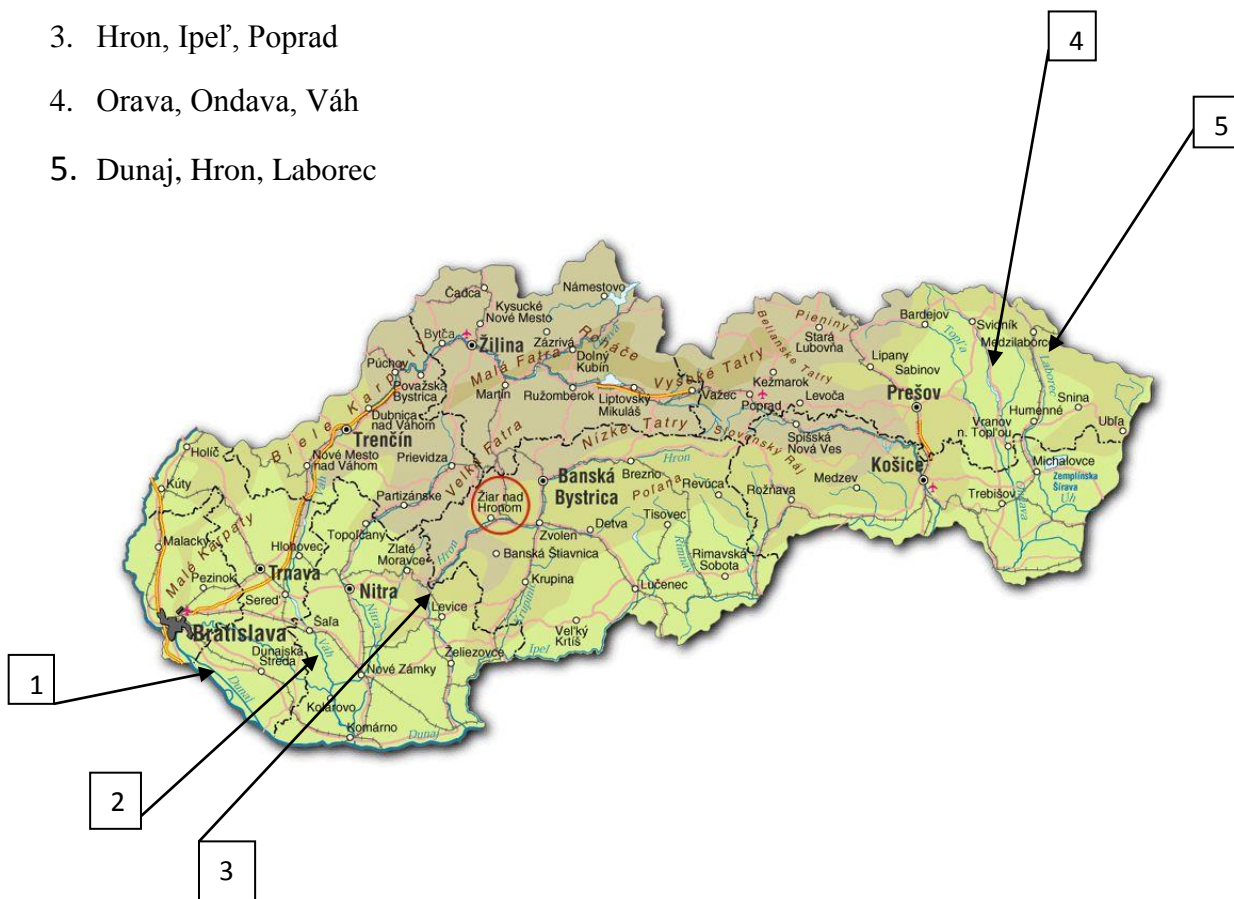
A	S	D	A	R	T	A	F	Á	L	A	M
Y	X	C	V	B	A	N	M	L	K	A	J
I	U	P	I	E	N	A	P	E	K	W	Q
Ý	Z	U	I	E	A	M	L	S	G	A	F
K	T	T	N	A	P	A	N	O	N	I	U
S	A	W	Y	X	C	Á	V	I	B	N	M
N	S	D	F	I	R	Q	N	W	B	O	O
E	S	E	R	U	T	A	Z	U	I	A	E
V	A	Y	M	W	L	A	S	D	O	A	I
O	R	M	N	P	O	L	O	N	I	N	Y
L	K	E	W	B	K	L	H	G	C	X	M
S	L	O	V	E	N	S	K	Ý	R	A	J



## Pracovný list č. 35: Vodstvo na mape

Správne pomenuj najznámejšie slovenské rieky. Svoj výber **PODČIARKNI**

1. Torysa, Dunaj, Dunajec
2. Hornád, Latorica, Váh
3. Hron, Ipeľ, Poprad
4. Orava, Ondava, Váh
5. Dunaj, Hron, Laborec



**Krížikom OZNAČ** správne tvrdenie:

Na rieke LABOREC je postavená priehrada .....

Zemplínska šírava

Domaša

Liptovská Mara

Brehy ONDAVY sú bohato osídlené vzácnymi druhmi .....

Vtáctva

hmyzu

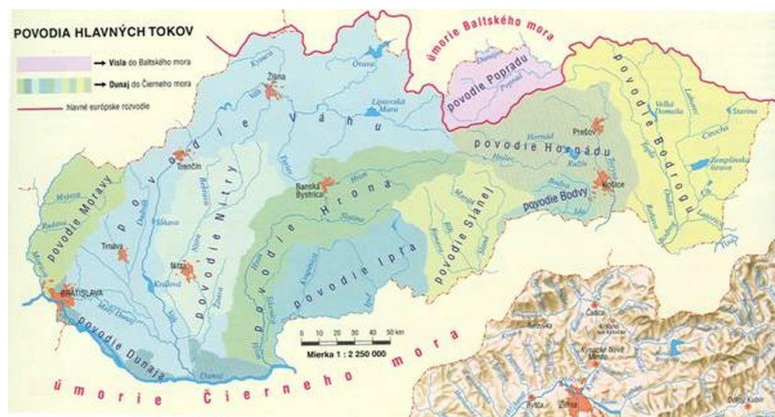
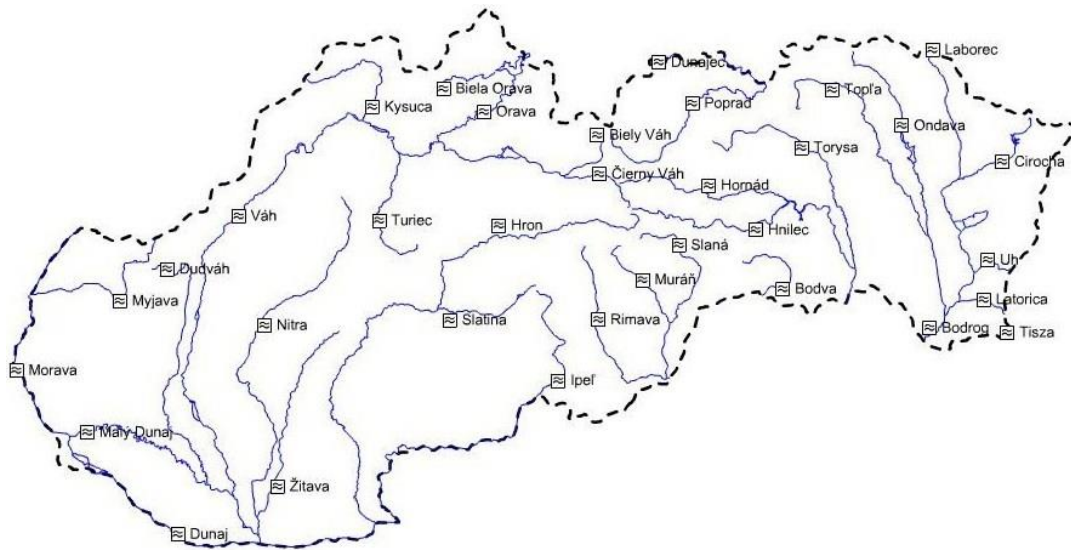
plazov

**Nájdí vo vete ukrytý názov našej najväčšej rieky :**

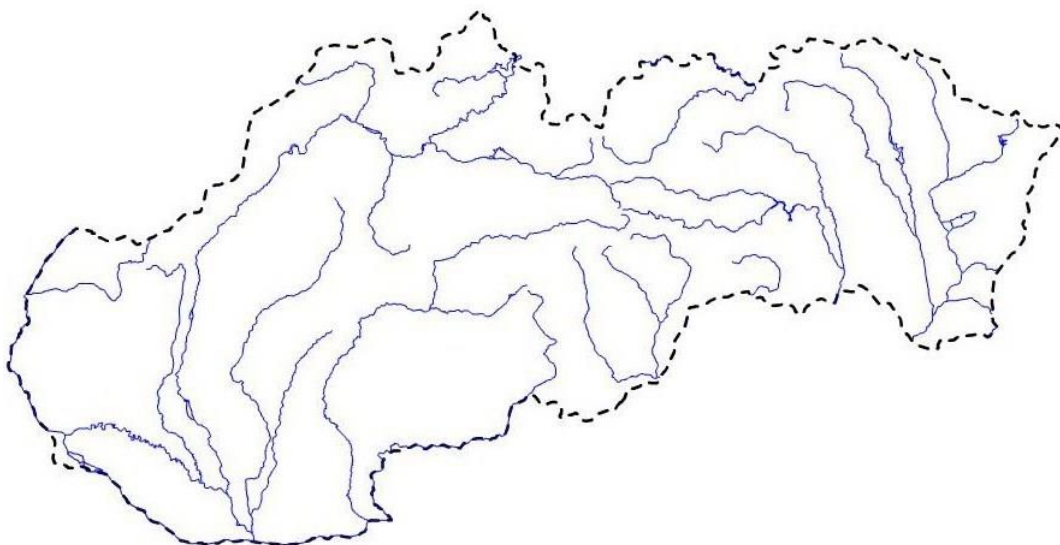
JANÍČKO A MARIENKA VERILI, ŽE NÁJDU NAJKRATŠIU CESTU DOMOV.

## Pracovní list č. 36: Vodné toky na mape

NÁJDI a VYFARBI rieky povodia Hornádu (pomôž si mapou povodia vodných tokov Slovenska)



DOPLŇ názvy riek Slovenska:





## Pracovný list č. 38: Ako sa vyznať vo svojom okolí

Napíš správny typ krajiny pod každý obrázok:



**ROZHODNI a SPOJ** obrázok so správnym názvom:



**PLÁN**

**MAPA**

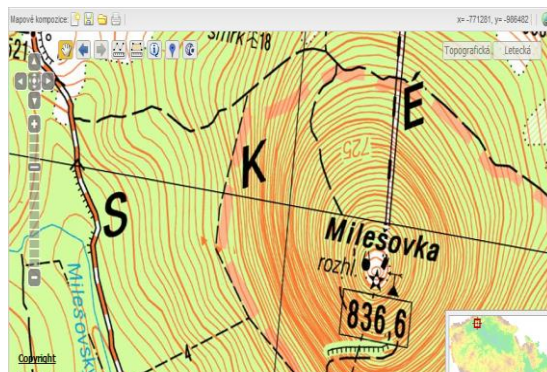
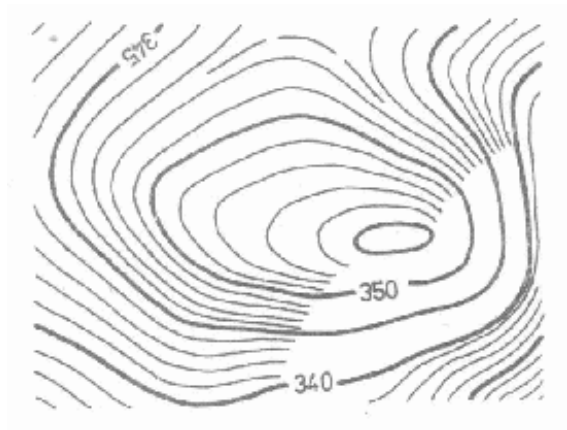


**OZNAČ** správnu odpoveď: Obráz krajiny, ktorý vidíme z jedného miesta je: **OBRAZ** ○

**OBZOR** ○

# Pracovný list č. 39: Ako vzniká mapa

Vieš ako voláme tieto čiary? Sú to: .....



**NAPÍŠ** čo vieme na mape zistiť pomocou vrstevníc:


.....

.....

**ROZHODNI a SPOJ**, ktorá z týchto znázornených vrstevníc patrí:

Vysokému pohoriu  
(Mount Everest)

Sedlu



# Pracovní list č. 40: Poznáváme přírodu na jar

SPOJ vhodné obrázky s ročným obdobím JAR:



JAR



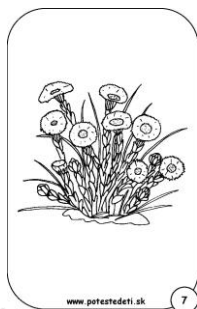
NAPÍŠ SPRÁVNE popletené názvy jarných mesiacov

RECMA

PRÍLA



JÁM

VYFARBI len kvietky, ktoré môžeš vidieť na jarnej vychádzke:

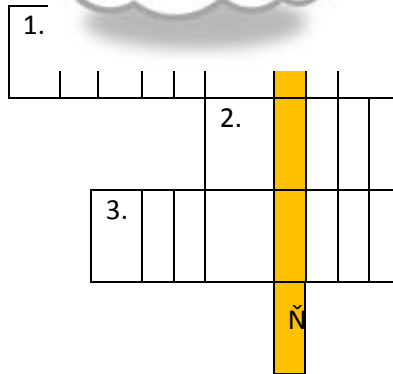


# Pracovní list č. 41: Poznáváme přírodu na jeseň

Označ krížikom značky počasia, ktoré je typické pre jesenné ročné obdobie:



Po \_\_\_\_\_ me






- 1. Názov 10. mesiaca v roku
- 2. Deviaty mesiac sa volá ...
- 3. Posledný jesenný mesiac

POMENUJ plody ktoré mô



## Pracovní list č.42: Poznáváme přírodu v zime

Príroda v zime oddychuje a zvieratká potrebujú našu pomoc. Priprav zvieratkám v lese vianočný stromček. Vhodnú potravu VYSTRIHNI a NALEP na stromček.





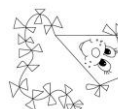
## Pracovní list č. 43: Poznáváme přírodu v lete

NAPÍŠ letné mesiace v správnom poradí. Vyfarbi obrázky prázdninových mesiacov


(JÚL, AUGUST, JÚN)



VYFARBI obrázky, ktoré patria k letu:



VYSTRIHNI názov letného lúčneho kvetu a NALEP na správne miesto



NEZÁBUDKA

DIVÝ MAK

MARGARÉTKA

ZVONČEK