



mpc
METODICKO-PEDAGOGICKÉ CENTRUM

M VZDELÁVANÍM
PEDAGOGICKÝCH ZAMESTNANCOV
K INKLÚZII MARGINALIZOVANÝCH
RÓMSKYCH KOMUNÍT



Moderné vzdelávanie pre vedomostnú spoločnosť / Projekt je spolufinancovaný zo zdrojov
EÚ

Kód ITMS: 26130130051

číslo zmluvy: OPV/24/2011

Metodicko – pedagogické centrum

Národný projekt

**VZDELÁVANÍM PEDAGOGICKÝCH ZAMESTNANCOV
K INKLÚZII MARGINALIZOVANÝCH RÓMSKYCH KOMUNÍT**

Mgr. Jana Lapšanská

Praktické cvičenia z geografie pre 8. ročník ZŠ, Západná Európa

2014

Vydavateľ: Metodicko-pedagogické centrum,
Ševčenkova 11, 850 01 Bratislava

Autor UZ: Mgr. Jana Lapšanská

Kontakt na autora UZ: Základná škola s materskou školou
Markušovce, Školská 16, 053 21 Markušovce

Názov: Praktické cvičenia z geografie pre 8. ročník ZŠ,
Západná Európa

Rok vytvorenia: 2014

Oponentský posudok vypracoval: Mgr. Bibiána Krajníková

ISBN 978-80-565-0653-0

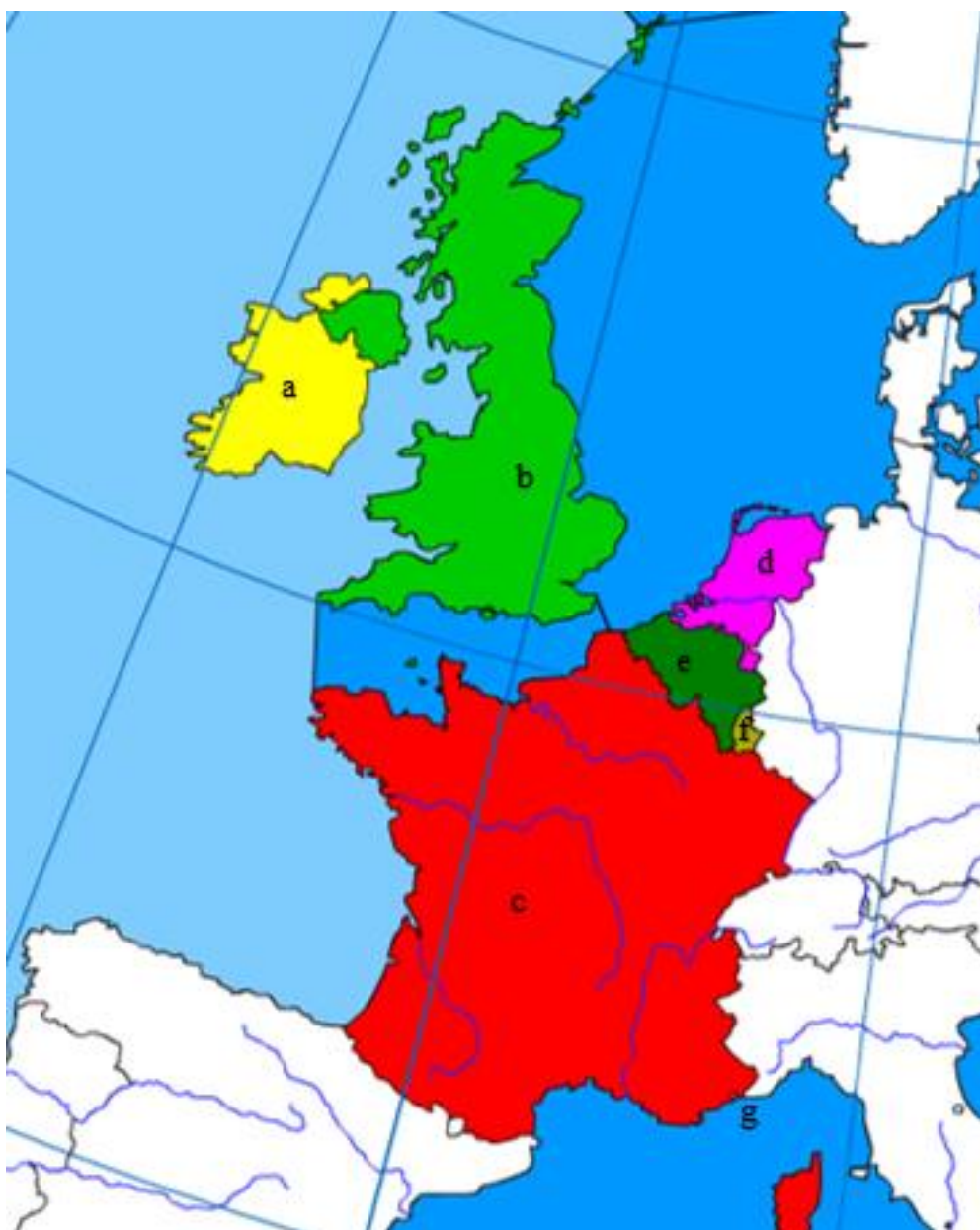
Tento učebný zdroj bol vytvorený z prostriedkov projektu Vzdelávaním pedagogických zamestnancov k inklúzii marginalizovaných rómskych komunít. Projekt je spolufinancovaný zo zdrojov Európskej únie.

Text neprešiel štylistickou ani grafickou úpravou.






Západná Európa

Úloha č. 1: Napíš názvy štátov a uveď ich hlavné mestá.

	Štát	Hlavné mesto
a		
b		
c		
d		
e		
f		
g		



Úloha č. 2: Vlajky vymaľuj a pod každú vlajku napíš názov štátu, ktorému patrí.



Úloha č. 3: Nájdi správnu odpoveď.

- 1) Ktoré krajiny patria do západnej Európy?
 - A. Maďarsko, Poľsko, Česko
 - B. Rakúsko, Nórsko, Nemecko
 - C. Francúzsko, Holandsko, Írsko

- 2) Sídлом európskeho parlamentu je mesto:
 - A. Strasbourg
 - B. Lyon
 - C. Cannes

- 3) Pohorie Vogézy ležia v:
 - A. Holandsku
 - B. Belgicku
 - C. Francúzsku

- 4) Luxembursko je:
 - A. republika
 - B. kniežatstvo
 - C. veľkoveľkovedstvo

- 5) V Holandsku územie vysušením častí mora nazývame:
 - A. sahel
 - B. polder
 - C. step

- 6) Mestá Oxford, Cambridge sú
 - A. univerzitné
 - B. vysokohorské
 - C. priemyselné

- 7) Jazero Loch Ness leží:
 - A. vo Wales
 - B. v Írsku
 - C. v Škótsku

Úloha č. 4: Napíš, či je tvrdenie pravdivé (P) alebo nepravdivé (N).

- a) Francúzsko, Holandsko a Luxembursko sa niekedy označujú skratkou BENELUX.
- b) Západná Európa patrí do oceánskej podnebnjej oblasti mierneho podnebného pásma.
- c) Paríž je jedno z najväčších svetových centier módy.
- d) Na sútoku riek Rhôna a Saonna leží tretie najväčšie mesto Lyon.
- e) Jadrové elektrárne vo Francúzsku produkujú 10% elektrickej energie.
- f) Medzi Francúzskom a Belgickom sa nachádza Monako.
- g) Monako je prítiažlivé pre ľudí z celej Európy i zo zámoria, pretože má nízke dane.
- h) Belgicko sa skladá z Flámska, Valónska a Irkútska.
- i) Luxembursko je jednou z finančných veľmocí Európy.
- j) Tulipán je jedným zo symbolov Holandska.
- k) Rieka Temže preteká Londýnom.
- l) Írsko sa označuje ako žltý ostrov vďaka veľkému zastúpeniu lúk a pasienkov.


Úloha č. 5: Podčiarkni slovo, ktoré nepatrí do Západnej Európy.

- a) Michelin, Chanel, Moulinex, Tefal, Philips, Gouda, Guinness, Lyon
- b) Temža, Loira, Rhône, Labe, Seina, Garonne, Maas, Šelda
- c) Bordeaux, Nice, Dijon, Antverpy, Groningen, Oxford, Berlín

Úloha č. 6: Zaznač do mapy francúzske rieky Loira, Seina, Rhôna a Garonne.



Úloha č. 7: Francúzsko je krajina (pokračovanie v tajničke).



1. značka francúzskych automobilov
2. Francúzsko obmýva zo západu oceán.
3. TGV je skrátka pre
4. región Francúzska
5. Zámok Louvre je bývalésídlo.
6. Na juhu Francúzska je more.
7. rieka prameniaca v Alpách, preteká mestom Lyon
8. ostrov patriaci Francúzsku
9. víťazný
10. katedrála v Paríži
11. značka pneumatík francúzskej výroby
12. Vichy sú známe
13. najvyšší vrch Európy
14. mesto, kde sídli Európsky parlament

Úloha č. 8: Nájdi správne dvojice.

Francúzsko	finančná veľmoc Európy
Monako	nízke dane
Belgicko	Centrálny masív
Holandsko	zelený ostrov
Luxembursko	Waterloo
Írsko	Veľká Británia
Spojené kráľovstvo	krajina tulipánov

Úloha č. 9: Z ktorých štyroch historických krajín sa skladá Spojené kráľovstvo?

1.
2.
3.
4.

Úloha č. 10: Napíš dva hlavné národy Belgicka.

1.
2.

Úloha č. 11: Ktoré dva jazyky sú v západnej Európe najrozšírenejšie?

1.
2.

Úloha č. 12: Ako sa volá francúzske pútnické mesto v predhorí Pyrenejí?

.....

Úloha č. 13: Ako sa volajú známe cyklistické preteky vo Francúzsku?

.....

Úloha č. 14: Aký je celý názov Spojeného kráľovstva?

.....

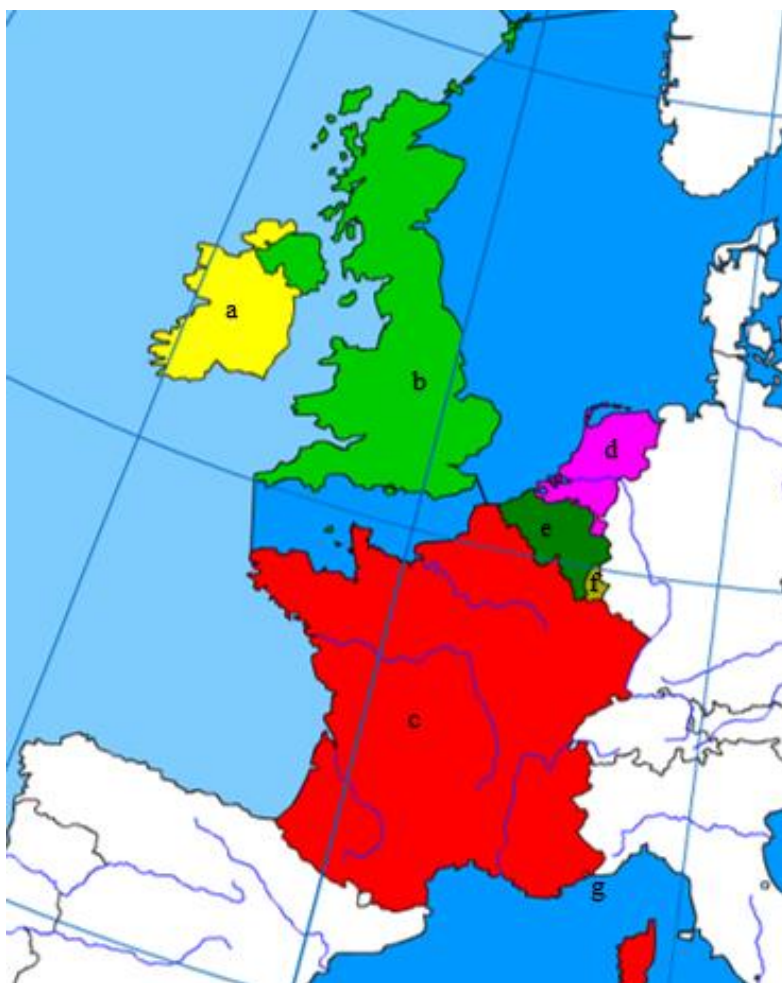
Úloha č. 15: Čo je na obrázku?



Riešenia úloh

Riešenie úlohy č. 1:

	Štát	Hlavné mesto
a	Írsko	Dublin
b	Spojené kráľovstvo	Londýn
c	Francúzsko	Paríž
d	Holandsko	Amsterdam
e	Belgicko	Brusel
f	Luxembursko	Luxembourg
g	Monako	Monako



Riešenie úlohy č. 2:



Francúzsko



Monako



Belgicko



Luxembursko



Holandsko



Írsko



Veľká Británia

Riešenie úlohy č. 3:

8) Ktoré krajiny patria do západnej Európy?

- D. Maďarsko, Poľsko, Česko
- E. Rakúsko, Nórsko, Nemecko
- F. Francúzsko, Holandsko, Írsko

9) Sídлом európskeho parlamentu je mesto:

- A. Strasbourg
- B. Lyon
- C. Cannes

10) Pohorie Vogézy ležia v:

- D. Holandsku
- E. Belgicku
- F. Francúzsku

11) Luxembursko je:

- D. republika
- E. kniežatstvo
- F. veľkovoľvodstvo

12) V Holandsku územie vysušením častí mora nazývame:

- A. sahel
- B. polder
- C. step

13) Mestá Oxford, Cambridge sú

- A. univerzitné
- B. vysokohorské
- C. priemyselné

14) Jazero Loch Ness leží:

- A. vo Wales
- B. v Írsku
- C. v Škótsku

Riešenie úlohy č. 4:

- a) Francúzsko, Holandsko a Luxembursko sa niekedy označujú skratkou BENELUX. N
- b) Západná Európa patrí do oceánskej podnebnjej oblasti mierneho podnebného pásma. P
- c) Paríž je jedno z najväčších svetových centier módy. P
- d) Na sútoku riek Rhône a Saonna leží tretie najväčšie mesto Lyon. P
- e) Jadrové elektrárne vo Francúzsku produkujú 10% elektrickej energie. N
- f) Medzi Francúzskom a Belgickom sa nachádza Monako. N
- g) Monako je prítiažlivé pre ľudí z celej Európy i zo zámoria, pretože má nízke dane. P
- h) Belgicko sa skladá z Flámska, Valónska a Irkútska. N
- i) Luxembursko je jednou z finančných veľmocí Európy. P
- j) Tulipán je jedným zo symbolov Holandska. P
- k) Rieka Temže preteká Londýnom. P
- l) Írsko sa označuje ako žltý ostrov vďaka veľkému zastúpeniu lúk a pasienkov. N

Riešenie úlohy č. 5:

- a) Michelin, Chanel, Moulinex, Tefal, Philips, Gouda, Guinness, Lyon
- b) Temža, Loira, Rhône, Labe, Seina, Garonne, Maas, Šelda
- c) Bordeaux, Nice, Dijon, Antverpy, Groningen, Oxford, Berlín

Riešenie úlohy č. 6:



Riešenie úlohy č. 7: Francúzsko je krajinaGALSKÉHO KOHÚTA.....

1.		P	E	U	G	E	O	T											
2.		A	T	L	A	N	T	I	C	K	Ý								
3.	R	Ý	C	H	L	O	V	L	A	K	Y								
4.			A	L	S	A	S	K	O										
5.					K	R	Á	L	O	V	S	K	É						
6.	S	T	R	E	D	O	Z	E	M	N	É								
7.					R	H	Ô	N	E										
8.					K	O	R	Z	I	K	A								
9.	O	B	L	Ú	K														
10.					N	O	T	R	E	D	A	M	E						
11.			M	I	C	H	E	L	I	N									
12.					K	Ú	P	E	L	E									
13.			M	O	N	T	B	L	A	N	C								
14.			Š	T	R	A	S	B	U	R	G								

Riešenie úlohy č. 8:

Francúzsko	—————	finančná veľmoc Európy
Monako	—————	nízke dane
Belgicko	—————	Centrálny masív
Holandsko	—————	zelený ostrov
Luxembursko	—————	Waterloo
Írsko	—————	Veľká Británia
Spojené kráľovstvo	—————	krajina tulipánov

Riešenie úlohy č. 9:

1. Anglicko
2. Škótsko
3. Wales
4. Severné Írsko

Riešenie úlohy č. 10:

1. Flámi
2. Valóni

Riešenie úlohy č. 11:

1. angličtina
2. francúzština

Riešenie úlohy č. 12: Lurdy

Riešenie úlohy č. 13: Tour de France

Riešenie úlohy č. 14: Spojené kráľovstvo Veľkej Británie a Severného Írska

Riešenie úlohy č. 15:



Eiffelova veža



víťazný oblúk



chrám Notre Dame



múzeum Louvre



atómium v Bruseli



Lurdy

Použité zdroje:

Mapy vytvorené pomocou programu Editoru máp

Použité obrázky z internetu:

<http://www.statnevlajky.sk/data/flags/normal/fr.png>

<http://www.statnevlajky.sk/data/flags/normal/mc.png>

<http://www.statnevlajky.sk/data/flags/normal/be.png>

<http://www.statnevlajky.sk/data/flags/normal/lu.png>

<http://www.statnevlajky.sk/data/flags/normal/nl.png>

<http://www.statnevlajky.sk/data/flags/normal/ie.png>

<http://www.statnevlajky.sk/data/flags/normal/gb.png>

<http://www.coolplaneta.com/wp-content/uploads/2010/02/eifelovka12.jpg>

<http://files.okolosveta.meu.zoznam.sk/200000029-37dbe38d70/test.jpg>

<http://www.paris-walking-tours.com/images/notredameside.jpg>

<http://www.mariahyblerova.estranky.sk/img/mid/3/...nadherne-muzeum-louvre....jpg>

<http://files.poznavaciezajazdyparizfrancuzsko.meu.zoznam.sk/200000014->

[234b723c4b/Putnicke_zajazdy_lurdy.jpg](http://files.poznavaciezajazdyparizfrancuzsko.meu.zoznam.sk/200000014-234b723c4b/Putnicke_zajazdy_lurdy.jpg)

<http://1.bp.blogspot.com/-RNEnSIM6k->

[Q/T55LuNnfF7I/AAAAAAAAACNQ/_N8SE0w1itc/s1600/19.jpg](http://1.bp.blogspot.com/-RNEnSIM6k-Q/T55LuNnfF7I/AAAAAAAAACNQ/_N8SE0w1itc/s1600/19.jpg)