



mpc
METODICKO-PEDAGOGICKÉ CENTRUM

M VZDELÁVANÍM
PEDAGOGICKÝCH ZAMESTNANCOV
K INKLÚZII MARGINALIZOVANÝCH
RÓMSKYCH KOMUNÍT



Moderné vzdelávanie pre vedomostnú spoločnosť / Projekt je spolufinancovaný zo zdrojov
EÚ

Kód ITMS: 26130130051

číslo zmluvy: OPV/24/2011

Metodicko – pedagogické centrum

Národný projekt

**VZDELÁVANÍM PEDAGOGICKÝCH ZAMESTNANCOV
K INKLÚZII MARGINALIZOVANÝCH RÓMSKYCH KOMUNÍT**

Mgr. Jana Lapšanská

**Praktické cvičenia z geografie pre 8. ročník ZŠ, Stredná
Európa 2. časť**

2014

Vydavateľ: Metodicko-pedagogické centrum,
Ševčenkova 11, 850 01 Bratislava

Autor UZ: Mgr. Jana Lapšanská

Kontakt na autora UZ: Základná škola s materskou školou
Markušovce, Školská 16, 053 21 Markušovce

Názov: Praktické cvičenia z geografie pre 8. ročník ZŠ,
Stredná Európa 2. časť

Rok vytvorenia: 2014

Oponentský posudok vypracoval: Mgr. Bibiána Krajníková

ISBN 978-80-565-0651-6

Tento učebný zdroj bol vytvorený z prostriedkov projektu Vzdelávaním pedagogických zamestnancov k inklúzii marginalizovaných rómskych komunít. Projekt je spolufinancovaný zo zdrojov Európskej únie.


Text neprešiel štylistickou ani grafickou úpravou.

Stredná Európa

Úloha č. 1: Čo nepatrí do riadka?

- a) Salzburg, Viedeň, Graz, Bern, Zürich, Odra, Debrecín, Gdansk, Brno
- b) Nízke Tatry, Krkonoše, Šumava, Vltava, Mátra, Vysoké Tatry
- c) Dunaj, Rýn, Labe, Váh, Visla, Varšava, Tisa
- d) Uhlie, urán, kaolín, vápenec, tabak, bauxit
- e) Zemiaky, chmeľ, pšenica, kukurica, hydina, slnečnica, cukrová repa, ľan
- f) Dobytok, ošípané, kačice, husy, kone, raž, ryby

Úloha č. 2: Rieš tajničku.



značka automobilov vyrábajúce v Nemecku

rieka prameniaca v Česku

krajské mesto na Slovensku

hrad v Krakove

hlavné mesto Lichtenštajnska

jazero vo Švajčiarsku

najvyššie pohorie Maďarska

mesto v Maďarsku, po ktorom je pomenovaná šunka

rodisko Mozarta

pohorie v Čechách

mesto v Poľsku - Zielona

slovenská rieka tečúca do Baltského mora

krstné meno Guttenberga - vynálezcu kníhtlače

Tajnička:

Slovensko

Úloha č. 3: Napíš, čo je na obrázku.



Úloha č. 4: Doplň správne údaje.

Slovensko (49 035 km²) je krát väčšie ako Švajčiarsko (41 284 km²).

Poľsko (312 685 km²) je krát väčšie ako Slovensko (49 035 km²).

Maďarsko (93 028 km²) je krát väčšie ako Slovensko (49 035 km²).

Česko (78 867 km²) je krát väčšie ako Slovensko (49 035 km²).

Rakúsko (83 871 km²) je krát väčšie ako Slovensko (49 035 km²).

Slovensko (49 035 km²) je krát väčšie ako Lichtenštajnsko (160 km²).

Nemecko (357 114 km²) je krát väčšie ako Slovensko (49 035 km²).

Česko

Úloha č. 5: Z daných štátov podčiarkni tie, s ktorými susedí Česká republika.

Rusko, Poľsko, Slovensko, Švajčiarsko, Rumunsko, Nemecko, Francúzsko, Rakúsko

Úloha č. 6: Ktoré tri historické územia tvoria Českú republiku?

.....

Úloha č. 7: Vyber správne odpovede.

- a) Najvyššie pohoria Čiech sa nachádzajú
 - v strede štátu,
 - na východe krajiny,
 - pri hraniciach štátu.
- b) Rybolovom sú známe rybníky
 - v južných Čechách,
 - na južnej Morave,
 - v západných Čechách.
- c) Druhé najväčšie mesto Českej republiky, známe medzinárodnými výstavami a veľtrhmi. Je to mesto:
 - Ostrava,
 - Plzeň,
 - Brno.

Úloha č. 8: Podčiarkni správne odpovede.

1. Na ktorej rieke leží Praha?
 - a) Labe b) Dunaj c) Vltava d) Morava
2. Čo je dominantou Prahy?
 - a) Pražský hrad s Dómom sv. Martina c) Pražský hrad s Chrámom sv. Alžbety
 - b) Pražský hrad s Chrámom sv. Víta d) Karlov most a rieka Vltava
3. K najznámejším svetovým kúpeľom v Čechách patrí mesto:
 - a) Karlove Vary b) Bardejov c) Praha d) Brno
4. V ktorom českom hrade sa nahrávala známa rozprávka Pyšná princezná?
 - a) Křivoklát b) Karlštejn c) Hluboká d) Pražský hrad
5. V Prahe na Staromestskom námestí sa nachádzajú hodiny nazývané ...

- a) Orol b) Orloj c) Clocky d) Big Ben
6. Čo je národným jedlom Čechov?
- a) bryndzové halušky b) halászlé c) vepřo, knedlo, zelo d) pirohy

Poľsko

Úloha č. 9: Z poprehadzovaných písmen vytvor známe poľské mestá:

RAŠAVAV
 LORVCAV
 DANSKG
 KROVKA
 WATEIKOC
 DŽOL
 ZNOPAŇ
 ŠTÍNET
 DYNAIG
 BLUNIL

Úloha č. 10: Vyber správnu odpoveď.

- 1) Najvyšším pohorím Poľska sú
 - a) Beskydy,
 - b) Tatry,
 - c) Krkonoše.
- 2) Štetín, Gdansk, Gdynia sú poľské
 - a) vysokohorské strediská,
 - b) kúpeľné mestá,
 - c) prístavné mestá.
- 3.) Obyvateľstvo Poľska je nerovnomerne rozmiestnené. Najväčšia hustota zaľudnenia je:
 - a) na juhu a juhozápade krajiny,
 - b) na severe krajiny,
 - c) pri pobreží.

Úloha č. 11: Správne pospájaj.

Pápež	Frederik Chopin
Spisovateľ	Ján Pavol II.

Klavirista

Henryk Sienkiewicz

Wawel

Osvienčim

Koncentračný tábor

Krakov

Maďarsko

Úloha č. 12: Vyber správnu odpoveď.

- a) Medzi maďarské mestá nepatrí
- Pécs
 - Poznaň
 - Miškovec
- b) Medzi alpské štáty nepatrí
- Maďarsko
 - Rakúsko
 - Švajčiarsko

Úloha č. 13: Osemsmerovka.

R	P	N	Í	D	E	G	E	S
M	I	Š	K	O	V	E	C	J
Š	U	B	E	E	G	E	R	A
T	K	I	K	N	O	T	R	N
A	B	A	U	X	I	T	V	U
B	O	U	P	S	Á	C	K	D
A	O	C	A	M	K	O	A	U
K	A	C	I	R	U	K	U	K

Maďarsko je známe aj

Úloha č. 14: Je tvrdenie správne alebo nesprávne?

- a) Step v Maďarsku sa nazýva pusta.
- b) Hlavné mesto Maďarska je Debrecín.
- c) Menou, ktorou platia Maďari je forint.

Švajčiarsko

republika

Lichtenštajnsko

konfederácia

Nemecko


Úloha č. 18: Kto je na obrázku?

- * 1954 v Hamburgu
- je nemecká kresťanskodemokratická politička
- od r. 2005 – kancelárka Spolkovej republiky Nemecko, prvá žena v tomto úrade
- pôvodná profesia: fyzikálna chemička



- * 1685 - † 1750
- nemecký skladateľ barokovej hudby
- svojho času slávny organista a čembalista
- jeho dielo je poznačené nábožnosťou

- * 1879 - † 1955
- je považovaný za najvýznamnejšieho vedca 20. storočia
- predložil teóriu relativity a významne prispel k rozvoju kvantovej mechaniky, štatistickej mechaniky a kozmológie
- r. 1921 dostal Nobelovu cenu za fyziku



Riešenie úlohy č. 3:



.....Spišský hrad.....



.....Pieniny.....



.....Slovenský raj.....



.....Bratislavský hrad.....

Riešenie úlohy č. 4:

Slovensko (49 035 km²) je 1,19 krát väčšie ako Švajčiarsko (41 284 km²).

Poľsko (312 685 km²) je 6,38 krát väčšie ako Slovensko (49 035 km²).

Maďarsko (93 028 km²) je 1,9 krát väčšie ako Slovensko (49 035 km²).

Česko (78 867 km²) je 1,61 krát väčšie ako Slovensko (49 035 km²).

Rakúsko (83 871 km²) je 1,71 krát väčšie ako Slovensko (49 035 km²).

Slovensko (49 035 km²) je 306,5 krát väčšie ako Lichtenštajnsko (160 km²).

Nemecko (357 114 km²) je 7,28 krát väčšie ako Slovensko (49 035 km²).

DANSKGGDANSK.....
KROVKAKRAKOV.....
WATEIKOCKATOWICE.....
DŽOLLODŽ.....
ZNOPAŇPOZNAŇ.....
ŠTINETŠTETÍN.....
DYNAIGGDYNIA.....
BLUNILLUBLIN.....

Riešenie úlohy č. 10:

- 1) Najvyšším pohorím Poľska sú
 - a) Beskydy,
 - b) Tatry,**
 - c) Krkonoše.
- 2) Štetín, Gdansk, Gdynia sú poľské
 - a) vysokohorské strediská,
 - b) kúpeľné mestá,
 - c) prístavné mestá.**
- 3.) Obyvateľstvo Poľska je nerovnomerne rozmiestnené. Najväčšia hustota zaľudnenia je:
 - a) na juhu a juhozápade krajiny,**
 - b) na severe krajiny,
 - c) pri pobreží.

Riešenie úlohy č. 11:

Pápež	_____	Frederik Chopin
Spisovateľ	_____	Ján Pavol II.
Klavirista	_____	Henryk Sienkiewicz
Wawel	_____	Osvienčim
Koncentračný tábor	_____	Krakov

Riešenie úlohy č. 12:

- a) Medzi maďarské mestá nepatrí
 - Pécs
 - **Poznaň**
 - Miškovec

- c) Medzi alpské štáty nepatrí
- **Maďarsko**
 - Rakúsko
 - Švajčiarsko

Riešenie úlohy č. 13:

R	P	N	Í	D	E	G	E	S
M	I	Š	K	O	V	E	C	J
Š	U	B	E	E	G	E	R	A
T	K	I	K	N	O	T	R	N
A	B	A	U	X	I	T	V	U
B	O	U	P	S	Á	C	K	D
A	O	C	A	M	K	O	A	U
K	A	C	I	R	U	K	U	K

Maďarsko je známe ajRUBIKOVOU KOCKOU..... .

Riešenie úlohy č. 14:

- a) Step v Maďarsku sa nazýva pusta. Správne
- b) Hlavné mesto Maďarska je Debrecín. Nesprávne, Budapešť.
- c) Menou, ktorou platia Maďari je forint. Správne
- d) Tokajské víno sa vyrába v Maďarsku. Správne.
- e) Majestátny kráľovský hrad Višegrád bol od 4. storočia sídlom uhorských panovníkov. Nesprávne, od 14. storočia.

Riešenie úlohy č. 15:

1. S ktorými štátmi susedí Rakúsko? Nemecko, Česko, Slovensko, Maďarsko, Slovinsko, Taliansko, Švajčiarsko
2. Ako sa nazýva hlavné mesto Rakúska? Viedeň
3. Ako sa nazýva horská sústava pohoria, ktorá zaberá až $\frac{3}{4}$ územia? Alpy

4. Ktoré je najvyššie pohorie v rakúskych Alpách? Vysoké Taury
5. Ako sa nazýva najvyšší vrch Rakúska a akú má nadmorskú výšku? Grossglockner 3797 m
6. Prečo majú rakúske rieky dostatok vody? V dôsledku topenia sa ľadu a snehu v Alpách.
7. Akého pôvodu sú jazerá v Alpách? Ľadovcového.
8. Z koľkých spolkových republík je utvorené Rakúsko? 9.

Riešenie úlohy č. 16:

MozartRakúsko.....
Kvalitná čokoládaŠvajčiarsko.....
Sacherová tortaRakúsko.....
Viedenský rezeňRakúsko.....
Dierový syr ementálŠvajčiarsko.....
Oblátky MannerRakúsko.....
Johann StraussRakúsko.....
Albert EinsteinŠvajčiarsko.....
Poštové známkyLichtenštajnsko.....
Joseph HaydnRakúsko.....
HodinkyŠvajčiarsko.....

Riešenie úlohy č. 17:

Rakúsko	-----	kniežatstvo
Švajčiarsko	-----	republika
Lichtenštajnsko	-----	konfederácia


Riešenie úlohy č. 18:



Angela Merkelová



Johann Sebastian Bach



Albert Einstein

Použité obrázky z internetu:

http://www.zamky.sk/UserFiles/Image/pamiatky_title/spissky.jpg

<http://www.ubytovanie-zdiar.com/images/gallery/activities/pieniny2.jpg>

http://www.slovensky-raj.sk/images/fotogallery/preview/08275821072005-prielom_hornadu11.jpg

http://upload.wikimedia.org/wikipedia/commons/thumb/3/3a/Bratislava_Castle_%282012%29.jpg/270px-Bratislava_Castle_%282012%29.jpg

<http://3.bp.blogspot.com/->

[HCnWhFJVtI4/T7IWJGiipRI/AAAAAAAAAh8/uE9RMAU1log/s400/Angela+Merkel+Austerity+Europe+Germany.jpg](http://3.bp.blogspot.com/-HCnWhFJVtI4/T7IWJGiipRI/AAAAAAAAAh8/uE9RMAU1log/s400/Angela+Merkel+Austerity+Europe+Germany.jpg)

<http://upload.wikimedia.org/wikipedia/commons/thumb/b/b5/Bach.jpg/225px-Bach.jpg>

http://tyrannyoftradition.files.wordpress.com/2014/02/93434191-einstein-tongue_custom-36fb0ce35776dc2d92eda90880022bf48a67e192-s6-c30.jpg?w=479&h=537