



**mpc**  
METODICKO-PEDAGOGICKÉ CENTRUM

**M** VZDELÁVANÍM  
PEDAGOGICKÝCH ZAMESTNANCOV  
K INKLÚZII MARGINALIZOVANÝCH  
RÓMSKYCH KOMUNÍT



Moderné vzdelávanie pre vedomostnú spoločnosť / Projekt je spolufinancovaný zo zdrojov  
EÚ

Kód ITMS: 26130130051

číslo zmluvy: OPV/24/2011

**Metodicko – pedagogické centrum**

**Národný projekt**

**VZDELÁVANÍM PEDAGOGICKÝCH ZAMESTNANCOV  
K INKLÚZII MARGINALIZOVANÝCH RÓMSKYCH KOMUNÍT**

**Mgr. Jana Lapšanská**

**Praktické cvičenia z geografie pre 8. ročník ZŠ, Stredná Európa 1. časť**

**Vydavateľ:** Metodicko-pedagogické centrum,  
Ševčenkova 11, 850 01 Bratislava

**Autor UZ:** Mgr. Jana Lapšanská

**Kontakt na autora UZ:** Základná škola s materskou školou  
Markušovce, Školská 16, 053 21 Markušovce

**Názov:** Praktické cvičenia z geografie pre 8. ročník ZŠ,  
Stredná Európa 1. časť

**Rok vytvorenia:** 2014

**Oponentský posudok vypracoval:** Mgr. Bibiána Krajníková

**ISBN 978-80-565-0293-8**

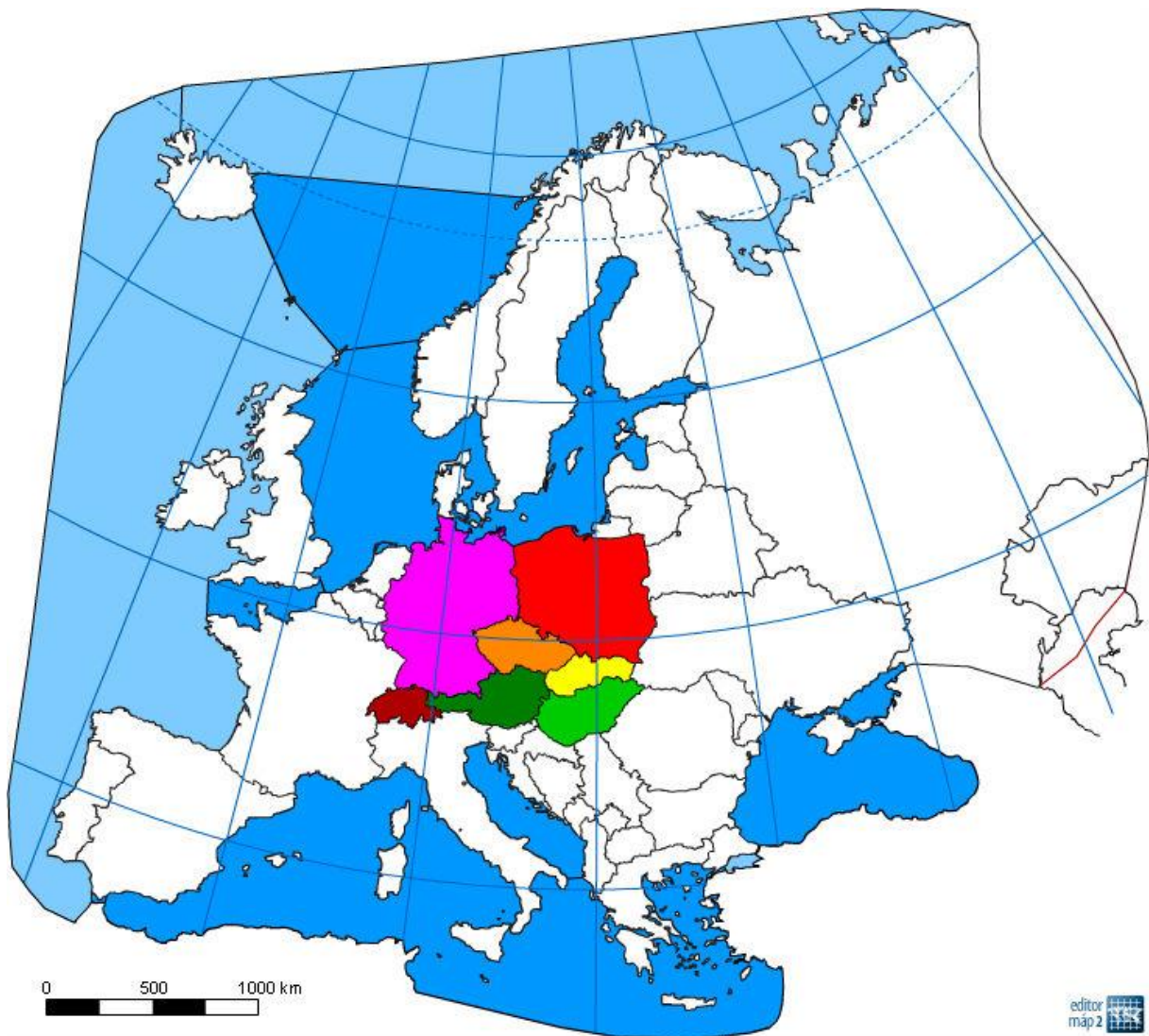
Tento učebný zdroj bol vytvorený z prostriedkov projektu Vzdelávaním pedagogických zamestnancov k inklúzii marginalizovaných rómskych komunít. Projekt je spolufinancovaný zo zdrojov Európskej únie.

Text neprešiel štylistickou ani grafickou úpravou.

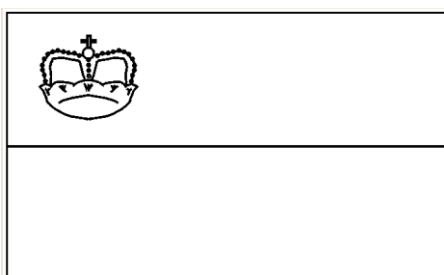

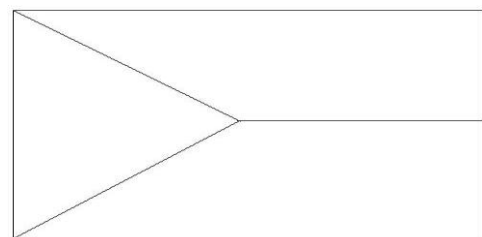
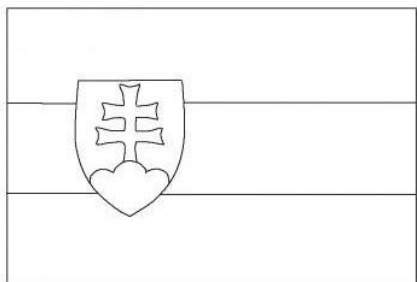
## Stredná Európa

Oblasť strednej Európy ohraničuje na severe Baltské a Severné more, na juhu horské pásma Álp. Nachádza sa medzi západnou Európou ležiacou pri Atlantickom oceáne a východnou Európou. Oceánske podnebie v severozápadnej časti nadobúda serom na východ výrazné rysy kontinentality. Obyvateľstvo patrí k rôznym jazykovým skupinám. Veľká koncentrácia obyvateľstva je v priemyselných oblastiach, vo veľkých mestách a ich zázemiach.

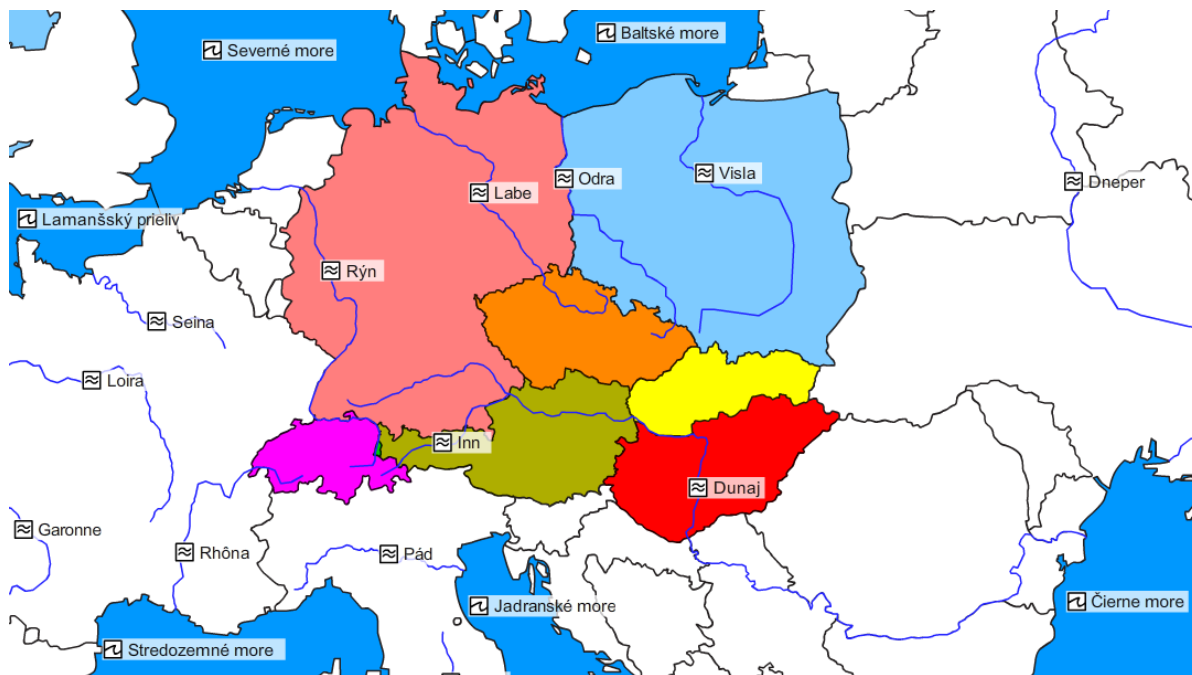
- Úloha č. 1: Do mapy zaznač - názvy štátov patriacich do strednej Európy,
- popis rovnobežky a poludníkov, ktoré prechádzajú cez územie strednej Európy,
  - Atlantický oceán, Severné more a Baltské more.



Úloha č. 2: Vlajky vymaľuj a pod každú vlajku napíš názov štátu, ktorému patrí.



Úloha č. 3: Napíš, cez ktoré štáty Strednej Európy a do ktorého mora sa vlievajú nasledujúce rieky:



Rýn:

Štáty, ktorými preteká:

.....

.....

Ústí do ..... mora.

Labe:

Štáty, ktorými preteká:

.....

Ústí do ..... mora.

Odra:

Štáty, ktorými preteká:

.....

Ústí do ..... mora.

Visla:

Štáty, ktorými preteká:

.....

Ústí do ..... mora.

Dunaj:

Štáty, ktorými preteká:

.....  
.....  
.....

Ústi do ..... mora.

Rhône:

Štáty, ktorými preteká:

.....

Ústi do ..... mora.

Úloha č. 4: Ktorý štát sa skrýva pod indíciami?

- a) Mozart, Strauss .....
- b) Rubikova kocka, čardáš .....
- c) Krovky, Osvienčim .....
- d) Karlov most, pivo Budvar .....
- e) Opel, Audi, Adidas, Puma .....
- f) Stred Európy .....
- g) Najmenší štát strednej Európy .....
- h) Hodinky .....

Úloha č. 5: Rozhodni o nasledujúcich tvrdeniach, či je pravdivé alebo nepravdivé.


- a) Švajčiarsko nemá prakticky žiadne zásoby nerastných surovín.
- b) Rakúsko má najviac jadrových elektrární v strednej Európe.
- c) Lichtenštajnsko má veľmi dobré predpoklady pre horský cestovný ruch.
- d) Na juhu Nemecka siahajú Alpy až do výšky 8000 m.
- e) Švajčiarsko patrí k bankovým veľmociam.
- f) Základom vyspelosti Nemecka je poľnohospodárstvo.
- g) Konurbácia je zhluk viacerých navzájom prepojených väčších aj menších sídel.

Úloha č. 6: Osemsmerovka.

I	D	U	A	V	A	T	L	V	Y
V	I	N	I	Č	N	O	S	O	K
Á	T	S	R	Í	P	N	D	D	A
H	L	Y	L	L	R	R	E	U	I
A	N	R	P	D	A	B	O	N	M
N	E	Ý	Á	L	H	B	P	A	E
B	E	Y	R	T	A	T	E	J	Z
Š	U	M	A	V	A	U	L	R	Ó
P	A	A	C	I	R	U	K	U	K
K	A	R	P	A	T	Y	Ž	A	R

Vyškrtaj 20 nasledujúcich názvov: Alpy, Karpaty, Tatry, Dunaj, Váh, Šumava, Labe, Vltava, Odra, kukurica, vinič, zemiaky, Praha, Brno, Visla, raž, Rýn, Berlín, Opel, Audi.

Úloha č. 7: Tajnička.



1. maďarské mestečko s kúpeľmi a známym červeným vínom
2. most pomenovaný po obľúbenej cisárovnjej Sissi
3. priemyselná oblasť Nemecka
4. rozlohou najväčší štát strednej Európy
5. najdlhšia rieka Slovenska
6. Stredná Európa sa nachádza v ..... podnebnom pásme.
7. najväčšie stepné jazero v Európe
8. poľský koncentračný tábor

Obyvatelia štátov strenej Európy patria najmä ku ..... a Slovanom a žijú prevažne v mestách.

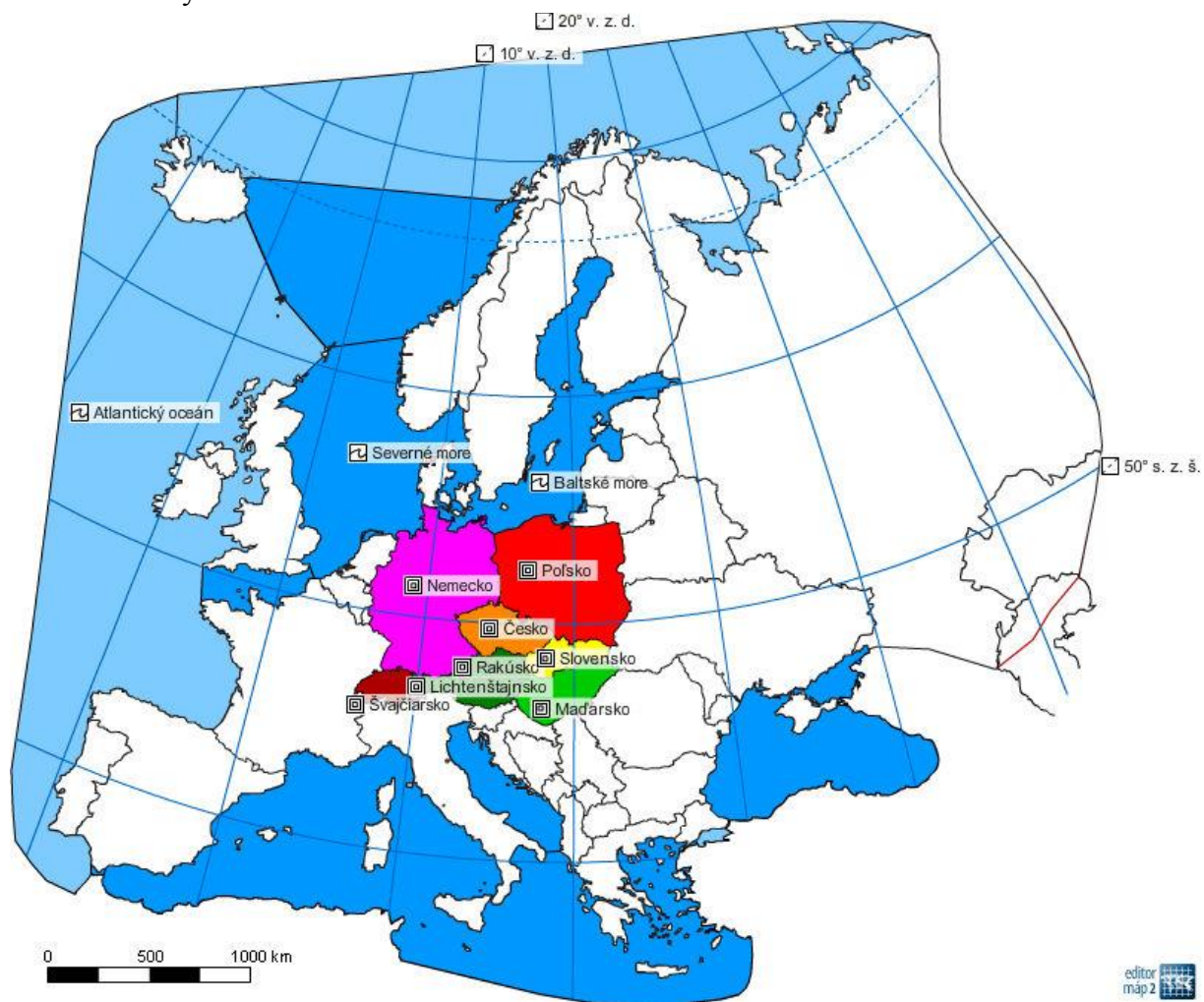
Úloha č. 8: Nájdi správnu odpoveď.

- 1) Druhá najdlhšia rieka Európy Dunaj pramení:
  - a) v Čiernomlese v Rakúsku
  - b) v Čiernom lese v Nemecku
  - c) v Čiernom lese vo Švajčiarsku
- 2) Najviac jazier na Slovensku je v Tatrách a volajú sa plesá. Vznikli činnosťou:
  - a) človeka
  - b) ľadovcov
  - c) sopečnou
- 3) Najdôležitejšou nerastnou surovinou Maďarska je:
  - a) hnedé uhlie
  - b) čierne uhlie
  - c) bauxit
- 4) V suchších oblastiach Maďarska sa šíri suchá step s názvom:
  - a) pusta
  - b) sahel
  - c) savana
- 5) V západnej časti Rakúska, v krásnom horskom prostredí sa nachádza známe stredisko turistiky a zimných športov:
  - a) Innsbruck
  - b) Salzburg
  - c) Graz
- 6) Najviac obyvateľov Švajčiarska žije v oblasti:
  - a) Švajčiarskej plošiny
  - b) Švajčiarskej Jury
  - c) Álp
- 7) Najdôležitejšia priemyselná oblasť Nemecka je:
  - a) Sasko
  - b) Porúrie
  - c) Bavorsko
- 8) Porýnie je v Nemecku oblasť:
  - a) najsuchšia
  - b) najteplejšia
  - c) najchladnejšia.



## Riešenia úloh

Riešenie úlohy č. 1:



Riešenie úlohy č. 2:



Slovensko



Česko




Poľsko




Maďarsko



Rakúsko



Švajčiarsko



Lichtenštajnsko



Nemecko

Riešenie úlohy č. 3:

Rýn:

Štáty, ktorými preteká: .....Švajčiarsko, Lichtenštajnsko, Rakúsko, Nemecko, Francúzsko, Holandsko.

Ústi do .....Severného..... mora.

Labe:

Štáty, ktorými preteká: ...Česko, Nemecko.....

Ústi do .....Severného..... mora.

Odra:

Štáty, ktorými preteká: .....Česko, Poľsko, Nemecko....

Ústi do .....Baltského..... mora.

Visla:

Štáty, ktorými preteká: ....Poľsko.....

Ústi do .....Baltského..... mora.

Dunaj:

Štáty, ktorými preteká: ....Nemecko, Rakúsko, Slovensko, Maďarsko, Chorvátsko, Srbsko, Rumunsko, Bulharsko, Moldavsko, Ukrajina.....

Ústi do .....Čierneho..... mora.

Rhône:

Štáty, ktorými preteká: ....Švajčiarsko, Francúzsko.....

Ústi do .....Stredozemného..... mora.

Riešenie úlohy č. 4:

- |                                  |                           |
|----------------------------------|---------------------------|
| a) Mozart, Strauss               | .....Rakúsko.....         |
| b) Rubikova kocka, čardáš        | .....Maďarsko.....        |
| c) Krovky, Osvienčim             | .....Poľsko.....          |
| d) Karlov most, pivo Budvar      | .....Česko.....           |
| e) Opel, Audi, Adidas, Puma      | .....Nemecko.....         |
| f) Stred Európy                  | .....Slovensko.....       |
| g) Najmenší štát strednej Európy | .....Lichtenštajnsko..... |
| h) Hodinky                       | .....Švajčiarsko.....     |

Riešenie úlohy č. 5:

- Švajčiarsko nemá prakticky žiadne zásoby nerastných surovín. PRAVDIVÉ
- Rakúsko má najviac jadrových elektrární v strednej Európe. NEPRAVDIVÉ
- Lichtenštajnsko má veľmi dobré predpoklady pre horský cestovný ruch. PRAVDIVÉ
- Na juhu Nemecka siahajú Alpy až do výšky 8000 m. NEPRAVDIVÉ
- Švajčiarsko patrí k bankovým veľmociam. PRAVDIVÉ
- Základom vyspelosti Nemecka je poľnohospodárstvo. NEPRAVDIVÉ

g) Konurbácia je zhluk viacerých navzájom prepojených väčších aj menších sídel.

PRAVDIVÉ

Riešenie úlohy č. 6:

I	D	U	A	V	A	T	L	V	Y
V	I	N	I	Č	N	O	S	O	K
Á	T	S	R	Í	P	N	D	D	A
H	L	Y	L	L	R	R	E	U	I
A	N	R	P	D	A	B	O	N	M
N	E	Ý	Á	L	H	B	P	A	E
B	E	Y	R	T	A	T	E	J	Z
Š	U	M	A	V	A	U	L	R	Ó
P	A	A	C	I	R	U	K	U	K
K	A	R	P	A	T	Y	Ž	A	R

STREDNÁ EURÓPA

Riešenie úlohy č. 7:

				E	G	E	R		
A	L	Ž	B	E	T	I	N		
			P	O	R	Ú	R	I	E
			N	E	M	E	C	K	O
				V	Á	H			
		M	I	E	R	N	O	M	
		B	A	L	A	T	O	N	
O	S	V	I	E	N	Č	I	M	

1. maďarské mestečko s kúpeľmi a známym červeným vínom
2. most pomenovaný po obľúbenej cisárovnjej Sissi
3. priemyselná oblasť Nemecka
4. rozlohou najväčší štát strednej Európy
5. najdlhšia rieka Slovenska
6. Stredná Európa sa nachádza v ..... podnebnom pásme.
7. najväčšie stepné jazero v Európe
8. poľský koncentračný tábor

Obyvatelia štátov strenej Európy patria najmä ku ..... Germánom..... a Slovanom a žijú prevažne v mestách.

Riešenie úlohy č. 8:

- 1) Druhá najdlhšia rieka Európy Dunaj pramení:
  - a) v Čiernomlese v Rakúsku
  - b) v Čiernom lese v Nemecku
  - c) v Čiernom lese vo Švajčiarsku
- 2) Najviac jazier na Slovensku je v Tatrách a volajú sa plesá. Vznikli činnosťou:
  - a) človeka
  - b) ľadovcov
  - c) sopečnou
- 3) Najdôležitejšou nerastnou surovinou Maďarska je:
  - a) hnedé uhlie
  - b) čierne uhlie
  - c) bauxit
- 4) V suchších oblastiach Maďarska sa šíri suchá step s názvom:
  - a) pusta
  - b) sahel
  - c) savana
- 5) V západnej časti Rakúska, v krásnom horskom prostredí sa nachádza známe stredisko turistiky a zimných športov:
  - a) Innsbruck
  - b) Salzburg
  - c) Graz
- 6) Najviac obyvateľov Švajčiarska žije v oblasti:
  - a) Švajčiarskej plošiny
  - b) Švajčiarskej Jury
  - c) Álp
- 7) Najdôležitejšia priemyselná oblasť Nemecka je:
  - a) Sasko
  - b) Porúrie
  - c) Bavorsko
- 8) Porýnie je v Nemecku oblasť:
  - a) najsuchšia
  - b) najteplejšia
  - c) najchladnejšia.