



mpc
METODICKO-PEDAGOGICKÉ CENTRUM

M VZDELÁVANÍM
PEDAGOGICKÝCH ZAMESTNANCOV
K INKLÚZII MARGINALIZOVANÝCH
RÓMSKYCH KOMUNÍT



Moderné vzdelávanie pre vedomostnú spoločnosť / Projekt je spolufinancovaný zo zdrojov
EÚ

Kód ITMS: 26130130051

číslo zmluvy: OPV/24/2011

Metodicko – pedagogické centrum

Národný projekt

**VZDELÁVANÍM PEDAGOGICKÝCH ZAMESTNANCOV
K INKLÚZII MARGINALIZOVANÝCH RÓMSKYCH KOMUNÍT**

Mgr. Jana Lapšanská

Praktické cvičenia z geografie pre 8. ročník ZŠ, Severná Európa

2014

Vydavateľ: Metodicko-pedagogické centrum,
Ševčenkova 11, 850 01 Bratislava

Autor UZ: Mgr. Jana Lapšanská

Kontakt na autora UZ: Základná škola s materskou školou
Markušovce, Školská 16, 053 21 Markušovce

Názov: Praktické cvičenia z geografie pre 8. ročník ZŠ,
Stredná Európa 2. časť

Rok vytvorenia: 2014

Oponentský posudok vypracoval: Mgr. Bibiána Krajníková

ISBN 978-80-565-0652-3

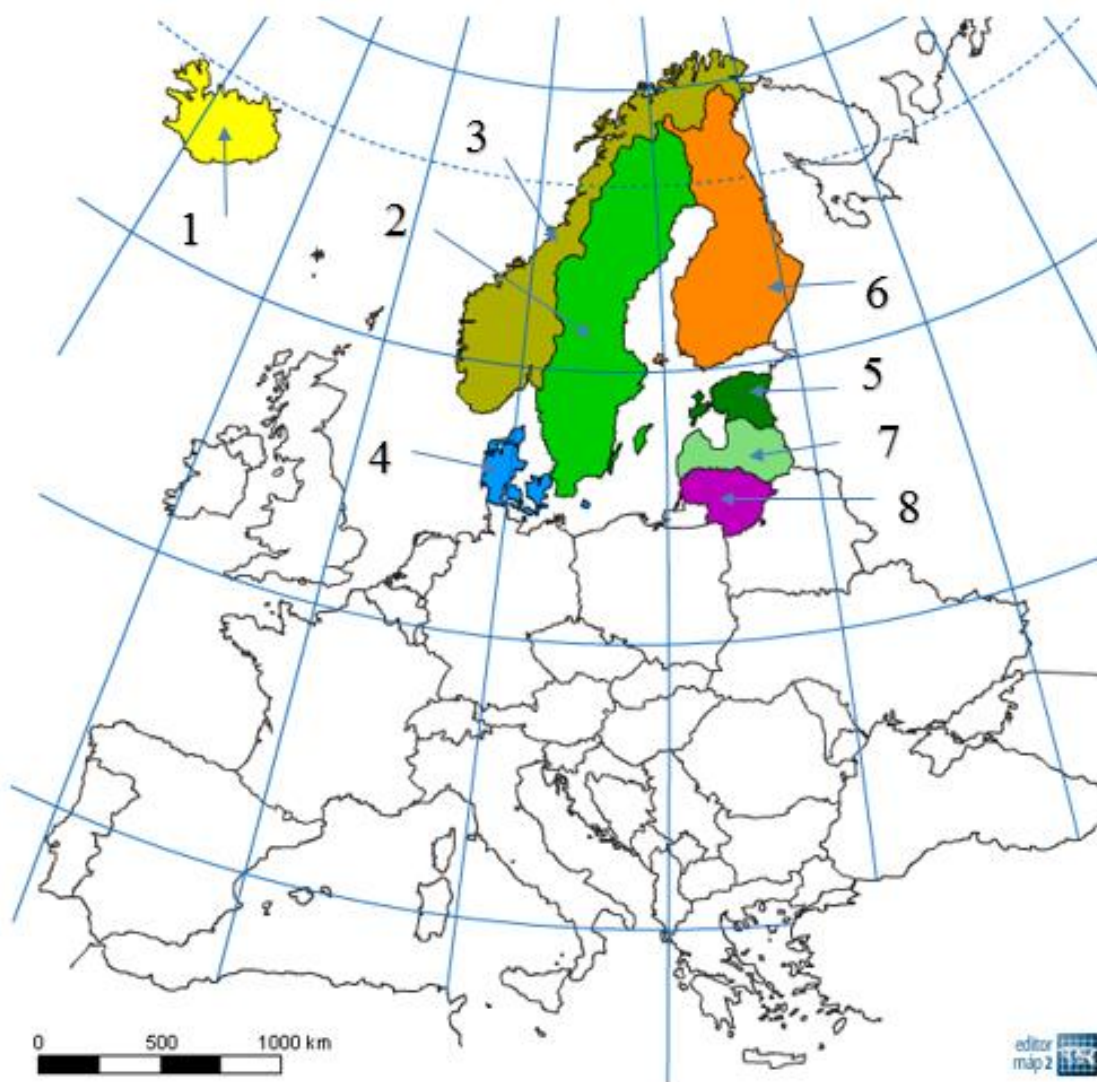
Tento učebný zdroj bol vytvorený z prostriedkov projektu Vzdelávaním pedagogických zamestnancov k inklúzii marginalizovaných rómskych komunít. Projekt je spolufinancovaný zo zdrojov Európskej únie.

Text neprešiel štylistickou ani grafickou úpravou.

Severná Európa

Úloha č. 1: Napiš názvy štátov na mape.

1.
2.
3.
4.
5.
6.
7.
8.



Úloha č. 2: Ku každému tvrdeniu napíš, či je pravdivé (P) alebo nepravdivé (N).

- a) Fjordy sú úzke dlhé zálivy.
- b) Väčšina štátov tejto oblasti má nízke zastúpenie lesov.
- c) Dánsko sa rozprestiera na Škandinávskom polostrove.
- d) Ľadovce zaberajú značnú časť vnútrozemia Islandu, ale niektoré siahajú až do mora.
- e) V Severnej Európe sa pomerne často vyskytuje polárna žiara – jav, ktorý u nás môžeme vidieť iba veľmi zriedkavo.
- f) Krištof Kolumbus sa stal prvým človekom, ktorý sa dokázateľne dostal na Severný pól.
- g) Zo všetkých štátov Severnej Európy má Švédsko najväčšiu rozlohu a najviac obyvateľov.
- h) Významným hospodárskym centrom Litvy je aj prístav Klajpeda.

Úloha č. 3: Vytvor správne dvojice. Pospájaj čiarami.




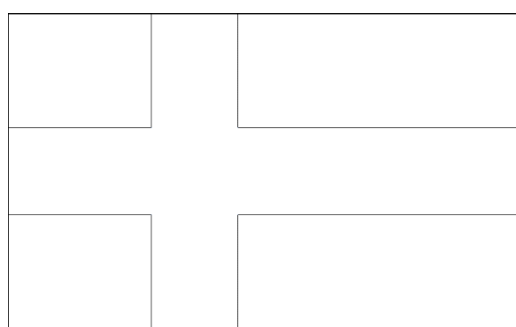
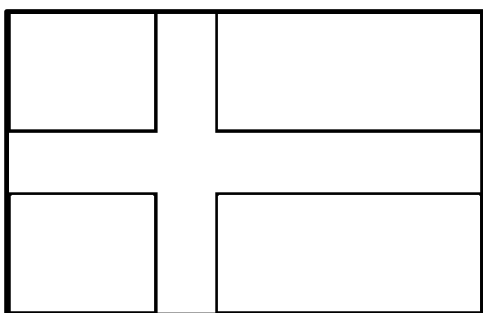
Štát	Trajekt
Hlavné mesto	Lego
Hra	Nobel
Lod'	Abba
Spisovateľ	Björk
Speváčka	Riga
Súostrovie	Lotyšsko
Vynálezca	Andersen
Hudobná skupina	Lofoty

Úloha č. 4: Čo je na obrázku?

- a) Monalísa
- b) Malá morská panna
- c) Dievča zo Seiny
- d) Nórska pani



Úloha č. 5: Vlajky vymaľuj a pod každú vlajku napíš názov štátu, ktorému patrí.

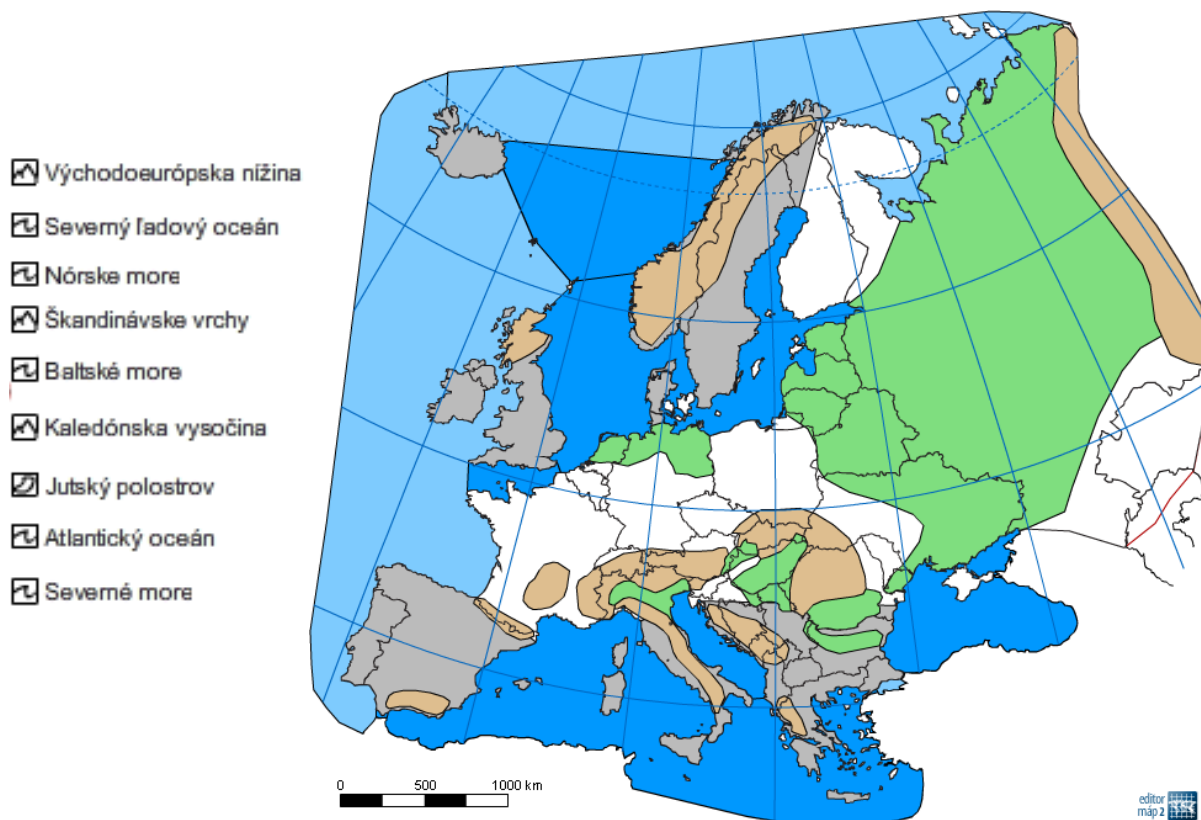


Úloha č. 6: K rozlohám štátov Severnej Európy dopíš názvy štátov a hlavných miest.

Ktoré štáty majú menšiu rozlohu ako Slovensko?

Rozloha	Štát (v km ²)	Hlavné mesto
	449 964	
	338 145	
	323 578	
	103 000	
	65 301	
	64 589	
	45 227	
	43 098	

Úloha č. 7: Vyznač do mapy:



Úloha č. 8: Nájdi vo vetách názvy miest.

- Ferko dostal linajkovaný zošit, do ktorého si narysoval okraje.
- V obchode zostali už len tri galoše.
- Včera ma na ulici oslovil starý známy.
- Mamka kúpila sunar Viktórii a výživu Zuzke.
- Vyber generálovi uniformu zo šatníka.
- Janko daň zaplatil už predvčerom.

Úloha č. 9: Osemsmerovka. Vyškrtni slová: fjord, trol, mys, Lofoty, Oslo, ropa, tundra.

Laponsko, sob, Kodaň, Grónsko, Dánsko, pivo, lego, ryby, lov. Z nevyškrtných písmen

doplň vetu: Obyvateľstvo Fínska patrí k jazykovej skupine.

Úloha č. 10:
vetách.

a) Dánsko
na

U	K	G	R	R	O	R	O
L	O	F	O	T	Y	L	K
G	D	P	J	B	S	O	S
R	A	F	Y	O	A	R	N
Ó	Ň	Í	G	K	R	T	O
N	N	E	S	S	D	D	P
S	L	K	O	N	N	M	A
K	O	B	E	Á	U	Y	L
O	V	I	P	D	T	S	J

Doplň slová vo
sa rozprestiera

..... polostrove a viacerých príľahlých ostrovoch.

- b) Islandské sopky sú stále aktívne a najznámejšou z nich je
- c) Mesto Stockholm sa zvykne označovať ako
- d) V živočíšnej výrobe Fínska prevláda na juhu chov hovädzieho dobytká a na severe chov
- e) Litvu, Lotyšsko a Estónsko označujeme ako štáty.

Úloha č. 11: Nájdi správnu odpoveď:

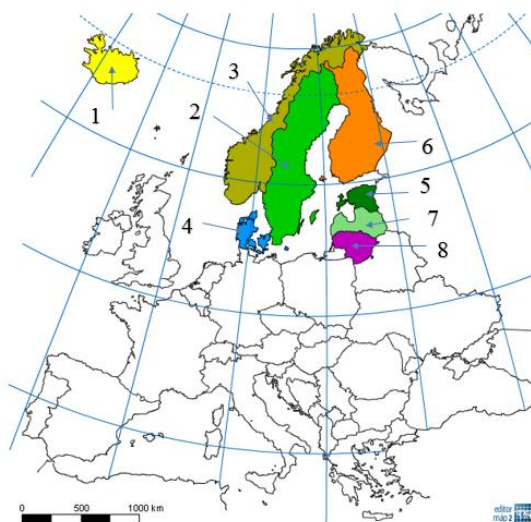
1. Ktorý zo štátov severnej Európy má najviac jazier?
a) Fínsko

- b) Dánsko
 - c) Island
2. Ako sa volá jav na sever od polárnej kružnice, keď slonko viac týždňov nezapadne.
- a) polárna žiara
 - b) polárny deň
 - c) slnečný deň
3. Ako vplýva Atlantický oceán na podnebie Dánska?
- a) málo zrážok, horúce letá, studené zimy
 - b) málo zrážok, mierne letá, mierne zimy
 - c) dostatok zrážok, mierne letá, mierne zimy
4. Ako sa volajú ostrovy ležiace medzi Islandom a Veľkou Britániou, ktoré patria Dánsku?
- a) Havajské ostrovy
 - b) Faerské ostrovy
 - c) Veľkonočné ostrovy
5. Ktorý zo štátov Severnej Európy má najviac fjordov?
- a) Nórsko
 - b) Švédsko
 - c) Fínsko
6. V ťažbe ktorej rudy vyniká Švédsko?
- a) uránovej rudy
 - b) železnej rudy
 - c) medenej rudy
7. Ského pôvodu je ostrov Island?
- a) koralové
 - b) vrásové
 - c) sopečné
8. Dánsku patrí administratívne najväčší ostrov sveta. Ako sa volá?
- a) Grónsko
 - b) Madagaskar
 - c) Škandinávsky

Riešenia úloh

Riešenie úlohy č. 1:


1.Island.....
2.Švédsko.....
3.Nórsko.....
4.Dánsko.....
5.Estónsko.....
6.Fínsko.....
7.Lotyšsko.....
8.Litva.....



Riešenie úlohy č. 2:

- a) Fjordy sú úzke dlhé zálivy. P
- b) Väčšina štátov tejto oblasti má nízke zastúpenie lesov. N
- c) Dánsko sa rozprestiera na Škandinávskom polostrove. N
- d) Ľadovce zaberajú značnú časť vnútrozemia Islandu, ale niektoré siahajú až do mora. P
- e) V Severnej Európe sa pomerne často vyskytuje polárna žiara – jav, ktorý u nás môžeme vidieť iba veľmi zriedkavo. P
- f) Krištof Kolumbus sa stal prvým človekom, ktorý sa dokázateľne dostal na Severný pól. N
- g) Zo všetkých štátov Severnej Európy má Švédsko najväčšiu rozlohu a najviac obyvateľov. P
- h) Významným hospodárskym centrom Litvy je aj prístav Klajpeda. P

Riešenie úlohy č. 3:



Riešenie úlohy č. 4: b) malá morská panna.


Riešenie úlohy č. 5:




Švédsko




Fínsko



Dánsko



Island



Nórsko



Estónsko



Lotyšsko



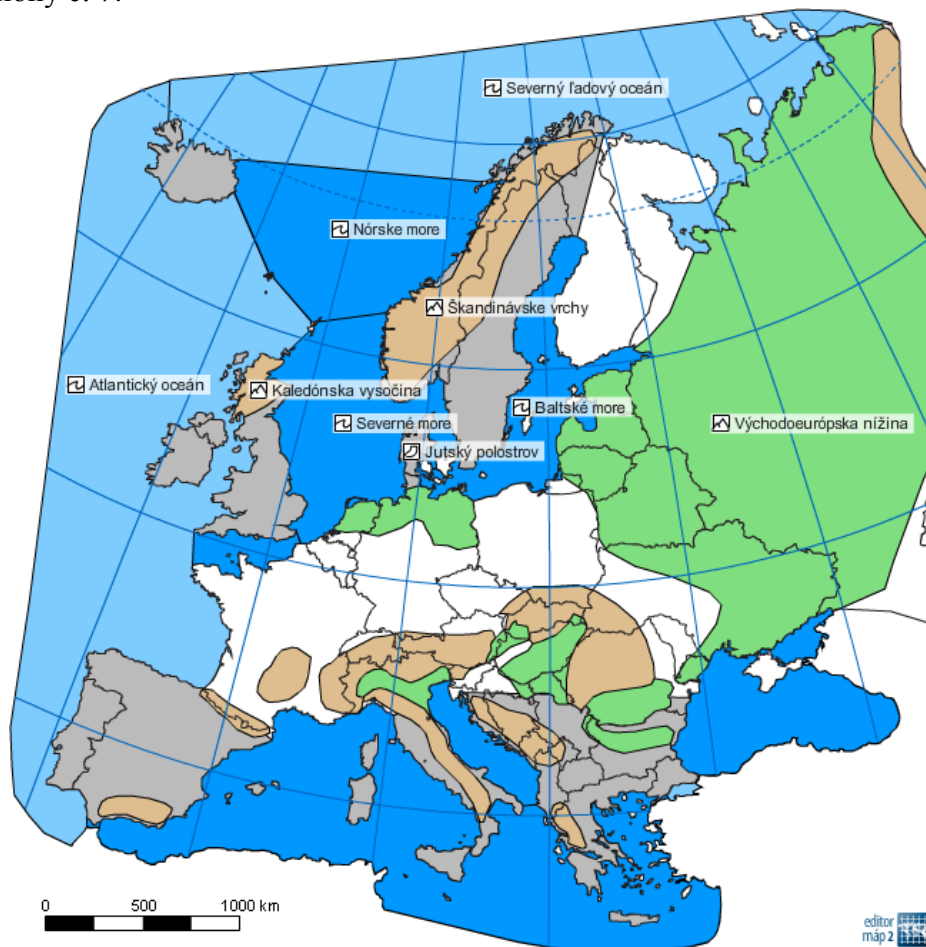
Litva

Riešenie úlohy č. 6:

Ktoré štáty majú menšiu rozlohu ako Slovensko?Dánsko a Estónsko.....

Rozloha	Štát (v km ²)	Hlavné mesto
Švédsko	449 964	Stockholm
Fínsko	338 145	Helsinki
Nórsko	323 578	Oslo
Island	103 000	Reykjavik
Litva	65 301	Vilnius
Lotyšsko	64 589	Riga
Estónsko	45 227	Tallinn
Dánsko	43 098	Kodaň

Riešenie úlohy č. 7:

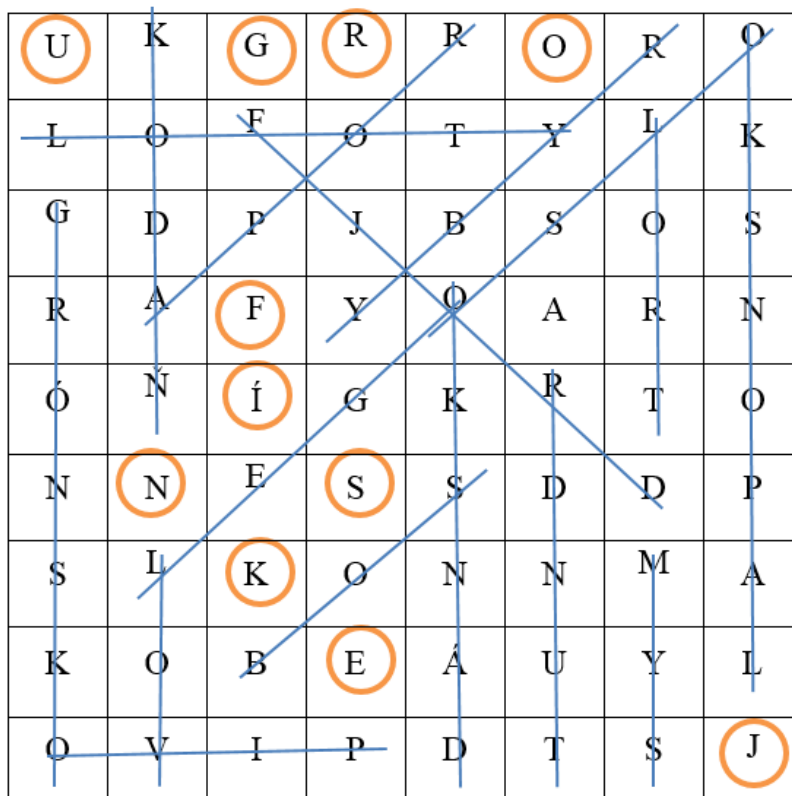


Riešenie úlohy č. 8:

- Ferko dostal linajkovaný zošit, do ktorého si narysoval okraje.
- V obchode zostali už len tri galoše.
- Včera ma na ulici oslovil starý známy.
- Mamka kúpila sunar Viktórii a výživu Zuzke.
- Vyber generálovi uniformu zo šatníka.
- Janko daň zaplatil už predvčerom.

Riešenie úlohy č. 9:

Obyvateľstvo Fínska patrí kugrofínskej..... jazykovej skupine.



Riešenie úlohy č. 10:

- Dánsko sa rozprestiera naJutskom..... polostrove a viacerých priľahlých ostrovoch.
- Islandské sopky sú stále aktívne a najznámejšou z nich je ...Hekla.....
- Mesto Stockholm sa zvykne označovať akoBenátky severu.....
- V živočíšnej výrobe Fínska prevláda na juhu chov hovädzieho dobytku a na severe chovsobov.....
- Litvu, Lotyšsko a Estónsko označujeme akopobaltské..... štáty.

Riešenie úlohy č. 11:

1. Ktorý zo štátov severnej Európy ma najviach jazier?
 - a) **Fínsko**
 - b) Dánsko
 - c) Island
2. Ako sa volá jav na sever od polárnej kružnice, keď slonko viac týždňov nezapadne.
 - a) polárna žiara
 - b) **polárny deň**
 - c) slnečný deň
3. Ako vplýva Atlantický oceán na podnebie Dánska?
 - a) málo zrážok, horúce letá, studené zimy
 - b) málo zrážok, mierne letá, mierne zimy
 - c) **dostatok zrážok, mierne letá, mierne zimy**
4. Ako sa volajú ostrovy ležiace medzi Islandom a Veľkou Britániou, ktoré patria Dánsku?
 - a) Havajské ostrovy
 - b) **Faerské ostrovy**
 - c) Veľkonočné ostrovy
5. Ktorý zo štátov Severnej Európy má najviac fjordov?
 - a) **Nórsko**
 - b) Švédsko
 - c) Fínsko
6. V ťažbe ktorej rudy vyniká Švédsko?
 - a) uránovej rudy
 - b) **železnej rudy**
 - c) medenej rudy
7. Akého pôvodu je ostrov Island?
 - a) koralové
 - b) vrásové
 - c) **sopečné**
8. Dánsku patrí administratívne najväčší ostrov sveta. Ako sa volá?
 - a) **Grónsko**
 - b) Madagaskar
 - c) Škandinávsky

Použité zdroje:

Mapy vytvořené pomocí programu Editoru máp

Použité obrázky z internetu:

http://imageproxy.jxs.cz/~nd05/jxs/cz~/255/688/22def2d5e0_77915019_o2.jpg

http://svedsko.org/wp-content/uploads/2012/03/vlajka_svedska_pd_610x381.png

http://do-finska.cz/finsko_vlajka.png

<http://www.vlajky-statu.cz/data/vlajky/vlajka-dansko-400.gif>

http://vlajky-statu.luksoft.cz/nahled-velky/vlajka_islandu.jpg

<http://www.vlajky-statu.cz/data/vlajky/vlajka-norsko-400.gif>

<http://geo-evropa.upol.cz/soubory/obrazky/vlajky/EE.gif>

<http://www.vlajky-statu.cz/data/vlajky/vlajka-litva-1100.gif>