



mpc
METODICKO-PEDAGOGICKÉ CENTRUM

**VZDELÁVANÍM
PEDAGOGICKÝCH ZAMESTNANCOV
K INKLÚZII MARGINALIZOVANÝCH
RÓMSKYCH KOMUNÍT**



Moderné vzdelávanie pre vedomostnú spoločnosť / Projekt je spolufinancovaný zo zdrojov EÚ

Kód ITMS: 26130130051

číslo zmluvy: OPV/24/2011

Metodicko – pedagogické centrum

Národný projekt

**VZDELÁVANÍM PEDAGOGICKÝCH ZAMESTNANCOV
K INKLÚZII MARGINALIZOVANÝCH RÓMSKYCH KOMUNÍT**

Mgr. Ibolya Pappová

Austrália - 2. časť

2014

Vydavateľ: Metodicko-pedagogické centrum,
Ševčenkova 11, 850 01
Bratislava

Autor UZ: Mgr. Ibolya Pappová

Kontakt na autora UZ: ZŠ s MŠ s VJM Tomášikovo,
Hlavná 4-5, 92504
Austrália – 2. časť

Názov: Austrália – 2. časť

Rok vytvorenia: 2014

**Oponentský posudok
vypracoval:** Mgr. Anita Horváth

ISBN 978-80-565-0933-3

Tento učebný zdroj bol vytvorený z prostriedkov projektu Vzdelávaním pedagogických zamestnancov k inklúzii marginalizovaných rómskych komunít. Projekt je spolufinancovaný zo zdrojov Európskej únie.

Text neprešiel štylistickou ani grafickou úpravou.

Obsah

Pracovní list č. 1	4
Pracovní list č. 2	10
Zdroje	15

Ausztrália és Tasmánia egészét egyetlen ország, az Ausztrál Államszövetség foglalja el. Az **Ausztrál Államszövetség** területét tekintve a hatodik legnagyobb ország a Földön. Az egyetlen, amely egy egész kontinensre kiterjed. Az őslakosok – aboriginálok - nomád életet élnek, a mai napig. Amikor megkezdődött Ausztrália gyarmatosítása az angolok által, háttérbe szorultak. Fegyenctelepeket hoztak létre. Az 1800-as évek második felében kirobbant az aranyláz. Ezáltal megkezdődött a bevándorlási hullám. Az Ausztrál Államszövetség nagyon ritkán lakott, a népsűrűség 2,8 fő/négyzetkilométer. A lakosság nagy része a keleti és déli partvidéken él.


Államformája alkotmányos monarchia. Ausztrália 1901 óta független szövetségi állam. Az államfő az ausztrál királynő, II. Erzsébet (Brit királynő). Az Ausztrál Államszövetségnek 6 tagállama és 2 territóriuma van. Minden tagállamot és territóriumot saját kormánya irányít.




1. ábra

Szövetségi államok és territóriumok fővárosaikkal:

Nyugat-Ausztrália – Perth, Queensland - Brisbane, Új-Dél-Wales - Sydney, Victoria - Melbourne, Dél-Ausztrália - Adelaide, Tasmania - Hobart, Északi terület - Darwin, Ausztrál fővárosi terület - Canberra



2. ábra zászló



3. ábra címer

1.1 Feladat: Válaszold meg az alábbi kérdéseket a mellékelt szöveg segítségével!

- Ausztrália és Tasmánia egészét milyen ország foglalja el?

.....

- Hányadik legnagyobb ország az Ausztrál Államszövetség?

.....

- Kik az aboriginálok?

.....

- Milyen életet élnek az ausztrál őslakosok?

.....

- Az angol gyarmatosítók milyen telepeket hoztak létre Ausztráliában?

.....

- Mikor robbant ki Ausztráliában az aranyláz?

.....

- Mi indította el a bevándorlási hullámot Ausztráliába?

.....

- Milyen a népsűrűsége az Ausztrál Államszövetségnek?

.....

- Az lakosság nagy része melyik partvidéken él?

.....

- Milyen az államformája az Ausztrál Államszövetségnek?

.....

• Mi történt Ausztráliában 1901-ben?

.....

• Ki az Ausztrál Államszövetség államfője?

.....

• Hány tagállama és territóriuma van az Ausztrál Államszövetségnek?

.....

• Ki irányítja az egyes tagállamokat és territóriumokat?

.....

1.2 Feladat: Kösd össze az egyes tagállamokat és territóriumokat a fővárosaikkal, a mellékelt szöveg alapján!

Victoria

Darwin

Tasmania

Brisbane

Új-Dél-Wales

Melbourne

Nyugat-Ausztrália

Canberra

Északi terület

Perth

Queensland

Hobart

Ausztrál fővárosi terület

Adelaide

Dél-Ausztrália

Sydney

1.3 Feladat: Figyeld meg az alábbi két képet! A tankönyv alapján válaszd ki, hogy mely őslakosok valóak Ausztráliából! Tegyéél X-et a helyes ábra alá!



4. ábra



5. ábra

1.4 Feladat: Helyettesítsd be az alábbi szövegbe a hiányzó szavakat a mellékelt szöveg segítségével. (*hatodik, nomád, bevándorlási, keleti, ritkán, 2,8 , Ausztrál Államszövetség, kontinensre, gyarmatosítása, aranyláz, 1800*)!

Ausztrália és Tasmánia egészét egyetlen ország, az foglalja el. Az Ausztrál Államszövetség területét tekintve a legnagyobb ország a Földön. Az egyetlen, amely egy egész kiterjed. Az őslakosok – aboriginálok - életet élnek, a mai napig. Amikor megkezdődött Ausztrália az angolok által, háttérbe szorultak. Fegyenctelepeket hoztak létre. Az-as évek második felében kiobbant az..... . Ezáltal megkezdődött a hullám. Az Ausztrál Államszövetség nagyon lakott, a népsűrűség fő/négyzetkilométert. A lakosság nagy része a és déli partvidéken él.

1.5 Feladat: Válaszd ki, hogy a megadott fővárosok közül melyik a kakukktojás! Tegyéél X-et a helyes megoldás mellé! Választásodat indokold meg!

Perth	<input type="checkbox"/>
-------	--------------------------

Sydney	<input type="checkbox"/>
--------	--------------------------

Canberra	<input type="checkbox"/>
----------	--------------------------

London	<input type="checkbox"/>
--------	--------------------------

.....

1.6 Feladat: Figyeld meg az Ausztrál Államszövetség címerét a 3. ábrán! Milyen állatokat látsz rajta? A válaszodat írd le a megadott vonalra!

.....

1.7 Feladat: Figyeld meg a 2. ábrán az Ausztrál Államszövetség zászlaját! Válaszd ki az alábbi zászlók közül azt a zászlót, amelynek színei megegyeznek az Ausztrál Államszövetség zászlajának színeivel! Tegyéél X-et a helyes megoldás mellé!



6. ábra: Svédország

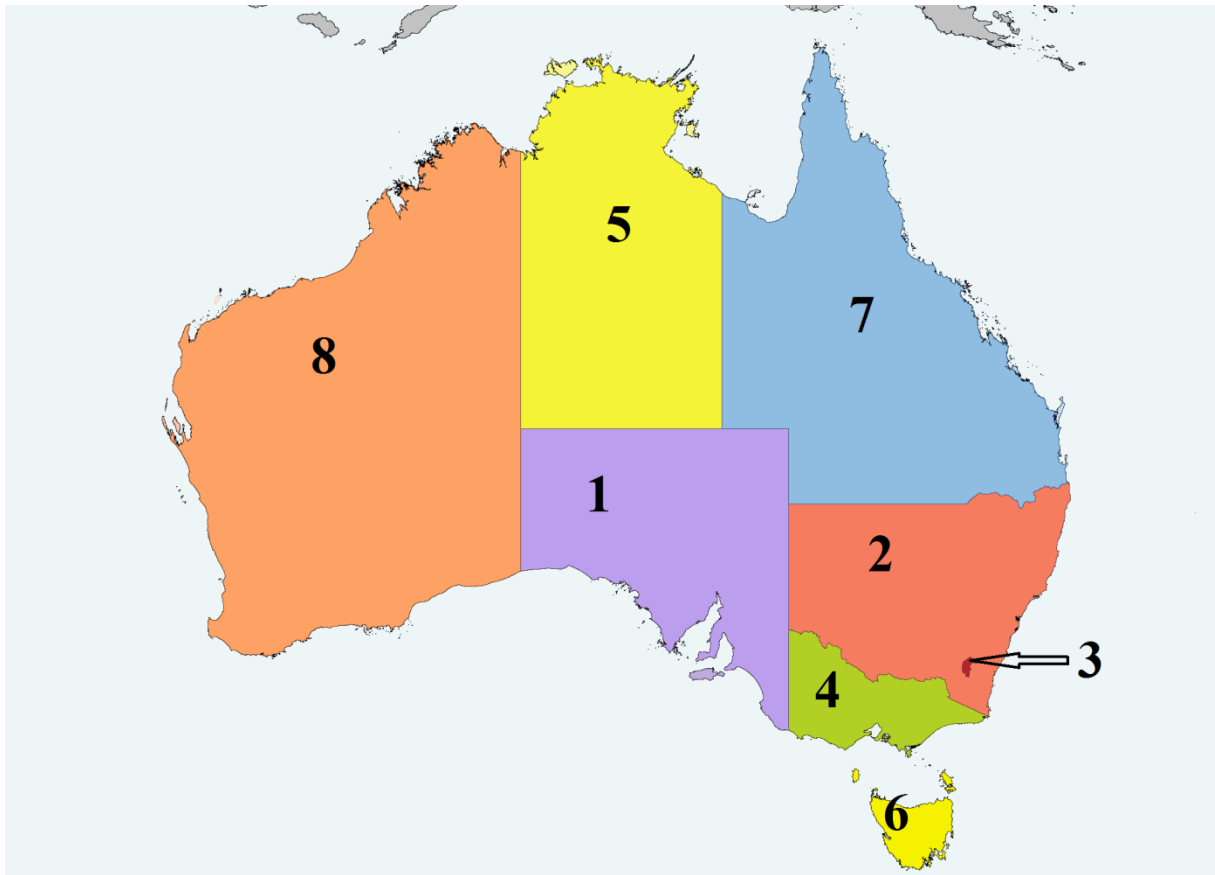


7. ábra: Ausztria



8. ábra: Amerikai Egyesült Államok

1. 8 Feladat: Az 1. ábra segítségével határozd meg, hogy az egyes számok milyen tagállamot vagy territóriumot jelölnek az alábbi térképen! A megoldásokat írd a számok mellé!



9. ábra

- 1
- 2
- 3
- 4
- 5
- 6
- 7
- 8

1.9 Feladat: Javítsd ki a rosszul leírt fővárosok neveit! A megoldást írd a keretbe!

Sidnei		Brisbon		Pert	
Adelayde		Canbera		Melbourn	

Ausztrália rendkívül sok nevezetességgel rendelkezik. Legyen az természeti, vagy akár kulturális szépség.

- **Uluru** - Az Uluru Ausztrália egyik legismertebb nemzeti jelképe. A világhírű homokkő sziklatömb 348 m magasban emelkedik a tengerszint fölé és legnagyobb része a talajszint alatt van, kerülete 9.4 km. Más néven Ayers Rock. Ausztrália közepén, az Északi területen fekszik. A legközelebbi nagyváros az innen északkeletre fekvő Alice Springs. Az Uluru arról is híres, hogy a nap és az év különböző időszakában ideeső fény hatására úgy tűnik, mintha változtatná a színét.



10. ábra

- **Nagy-korallzátony** - A Nagy-korallzátony Földünk legnagyobb korallzátonya. A Csendes óceánban található, nem messze Északkelet-Ausztrália Queensland nevű államának partjaitól. 2000 km hosszan húzódik, és még az űrből is látható. Nagyjából 3000 korallzátonyból és körülbelül 900 kisebb-nagyobb szigetből áll.



11. ábra

- **Sydney-i Operaház** – Ausztrália nemzeti jelképe. Dán építész a tervezője. Tetőszerkezete 67 m magas, 1973-ban adták át.



12. ábra

2.1 Feladat: Helyettesítsd be az alábbi szövegbe a hiányzó szavakat a mellékelt szöveg segítségével!

Az Ausztrália egyik legismertebb nemzeti jelképe. A világhírű sziklatömb m magasan emelkedik a tengerszint fölé és legnagyobb része a talajszint van, kerülete 9.4 km. Más néven Ausztrália közepén, az fekszik. A legközelebbi nagyváros az innen északkeletre fekvő Az Uluru arról is híres, hogy a nap és az év különböző időszakában ideeső fény hatására úgy tűnik, mintha változtatná a

2.2 Feladat: Rajzold le az alábbi keretbe az Ulurut, színezd ki!



2.3 Feladat: Válaszold meg az alábbi kérdéseket!

• Hol található a Nagy-korallzátony?

.....

• Milyen hosszú a Nagy-korallzátony?

.....

• Nagyjából hány korallzátonyból áll a Nagy-korallzátony?

.....

• Kb. hány szigetből áll a Nagy-korallzátony?

.....

• Milyen nemzetiségű a Sydney-i Operaház tervezője?

.....

• Milyen magas a Sydney-i Operaház tetőszerkezete?

.....

2.4 Feladat: Kösd össze a két nemzeti jelképet a hozzájuk tartozó tényekkel!



1973

sziget

67 m

legnagyobb

Queensland

dán építész

2000 km hosszú

2.5 Feladat: Húzd alá a helyes választ az alábbi állításokra!

• A Nagy-korallzátony Földünk legkisebb korallzátonya.

Igaz/Hamis

• A világhírű Uluru 348 m magasan emelkedik a tengerszint fölé.

Igaz/Hamis

• Az Uluru mészkőből áll.

Igaz/Hamis

• A Sydney-i Operaházat francia építész tervezte.

Igaz/Hamis

- A Nagy-korallzátony nagyjából 3000 korallzátonyból áll. Igaz/Hamis
- Az Uluru más néven Ayers Rock. Igaz/Hamis

2.6 Feladat: Gondold át, majd írd le, hogy mit vinnél magaddal, ha az Uluruhoz és a Nagy-korallzátonyhoz mennél kirándulni! Segítségére lehetnek a szemléltető ábrák és a tankönyv.

Uluru

.....

.....

.....

.....

.....

Nagy-korallzátony

.....

.....

.....

.....

.....

2.7 Feladat: Fejtsd meg az alábbi rejtvényt az alábbi kérdések alapján! A megfejtést a színes oszlopban kapod meg. A megoldást írd be a keretbe!

1.			k				r				
2.		u			r						
3.				l				n			
4.					o				n		
5.				e							

Kérdések:

1. Az Ausztrál Államszövetség címerén lévő erszényes emlős
2. Legszárazabb kontinens
3. Victoria tagállam fővárosa

4. Ausztrál őslakos

5. Az Ausztrál Államszövetség címerén lévő futómadár

Megoldás:



Zdroje

1. ábra: <http://ausztralia.terkepek.net/terkep.html>

2. ábra: http://hu.wikipedia.org/wiki/F%C3%A1jl:Flag_of_Australia.svg

3. ábra: http://hu.wikipedia.org/wiki/F%C3%A1jl:Australia_coa.png

4. ábra: <http://kezdetek.lapunk.hu/?modul=oldal&tartalom=604270>

5. ábra: <http://nugabestszalon.network.hu/kepek/klubkepek/indianok>

8. ábra: <http://tqueenfashion.blogspot.sk/2012/07/nah-mar-igertem-hogy-milyen-cikkeldjovok.html>

7. ábra:

http://www.tankonyvtar.hu/hu/tartalom/tamop425/0005_19_europai_unio_scorm_13/134_zsolk_cmerek.html

6. ábra:

http://www.tankonyvtar.hu/hu/tartalom/tamop425/0005_19_europai_unio_scorm_13/134_zsolk_cmerek.html

9. ábra:

https://www.google.sk/search?q=ausztr%C3%A1lia&tbm=isch&tbo=u&source=univ&sa=X&ei=K4A9U4mfBOOY4wTOvIHOCg&ved=0CEMQsAQ&biw=1440&bih=791#facrc=_&imgdii=TqrEhV0ETb6bIM%3A%3BxiCNmEz04o7kwM%3BTqrEhV0ETb6bIM%3A&imgrc=TqrEhV0ETb6bIM%253A%3BRxtj4iWfKCYoQM%3Bhttp%253A%252F%252Fwww.staffordmall.com%252Fmedia%252Faustralia-map.gif%3Bhttp%253A%252F%252Fbuvarausztralia.lap.hu%252Fdel-ausztralia_buvarkozpontok%252F19126910%3B576%3B494

10. ábra: http://hu.wikipedia.org/wiki/Ayers_Rock

11. ábra: <http://www.alternativenergia.hu/125-meteren-talaltak-korallokat-a-nagy-korallzatonyon/56378>

12. ábra: http://www.mozaweb.hu/Lecke-Vizualis_muveszetek-Muveszettortenet_8-Jorn_Utzon-101193