



mpc
METODICKO-PEDAGOGICKÉ CENTRUM

M VZDELÁVANÍM
PEDAGOGICKÝCH ZAMESTNANCOV
K INKLÚZII MARGINALIZOVANÝCH
RÓMSKYCH KOMUNÍT



Moderné vzdelávanie pre vedomostnú spoločnosť / Projekt je spolufinancovaný zo zdrojov EÚ

Kód ITMS: 26130130051

číslo zmluvy: OPV/24/2011

Metodicko – pedagogické centrum

Národný projekt

**VZDELÁVANÍM PEDAGOGICKÝCH ZAMESTNANCOV
K INKLÚZII MARGINALIZOVANÝCH RÓMSKYCH KOMUNÍT**

Mgr.Elena Sélešová

**Poznaj a chráň pre 4. ročník
II. časť**

2014

Vydavateľ: Metodicko-pedagogické centrum,
Ševčenkova 11, 850 01 Bratislava

Autor UZ: Mgr. Elena Sélešová

Kontakt na autora UZ: ZŠ s MŠ Ožďany Hlavná 66, 980 11
elenaseles@gmail.com

Názov: **Poznaj a chráň pre 4. ročník II.časť**

Rok vytvorenia: 2014

**Oponentský posudok
vypracoval:** Mgr. Želmíra Vargicová

ISBN 978-80-565-0149-8

Tento učebný zdroj bol vytvorený z prostriedkov projektu Vzdelávaním pedagogických zamestnancov k inklúzii marginalizovaných rómskych komunit. Projekt je spolufinancovaný zo zdrojov Európskej únie.

Text neprešiel štylistickou ani grafickou úpravou.

Obsah

ÚVOD	4
PRACOVNÉ LISTY	5
1. FAUNA	5
1.1 Exotické zvieratá	5
2. ČLOVEK.....	7
2.1 Fungovanie ľudského tela.....	7
3. NERASTY	13
3.1 Nerasty.....	13
4. SILA PRÍRODY	14
4.1 Prírodné katastrofy	14
LITERATÚRA.....	16

ÚVOD

Predkladaná práca ponúka sériu pracovných listov pre žiakov. Pracovné listy slúžia na upevnenie a zopakovanie učiva z predmetu Poznaj a chráň hravou a zábavnou formou. Prostredníctvom týchto pracovných listov si žiaci upevňujú prírodovedné a spoločenskovedné poznatky. Pri tvorbe pracovných listov som vychádzala z tematického výchovno – vzdelávacieho plánu a učebných osnov pre predmet Poznaj a chráň. Ku každej téme som vytvorila niekoľko úloh. Množstvo úloh je vytvorené podľa náročnosti tém. Úlohy sú zamerané na upevnenie a zopakovanie prebratého učiva. Sú vytvárané postupne od jednoduchších úloh po zložitejšie úlohy. Žiaci si precvičia učivo podľa jednotlivých tém a pri každej téme pracujú aj samostatne. Pokyny pre žiakov sú stručne a jednoducho uvedené pri každej úlohe. Zrozumiteľnosť a zjednodušenie riešenia úloh dotvára obrazový materiál použitý pri jednotlivých úlohách.

PRACOVNÉ LISTY

1. FAUNA

1.1 Exotické zvieratá



1. Dopíš správne vetu.

Exotické zvieratá u nás nežijú, lebo nemajú dobré podmienky pre.....

2. Napíš, kde u nás môžeš vidieť exotické zvieratá.

Odpoveď.....

3. Určite si už navštívil zoologickú záhradu. Napíš, aké zvieratá si tam videl (a) ?

Odpoveď.....


.....

4. Dopln správne do vety slová zo zátvorky.


Exotické.....žijú u nás v, kde im poskytujú.....starostlivosť, ktorú potrebujú pre svoj

(zoologických záhradách, špeciálnu, zvieratá, život)

5. Napíš , aký druh zvierat'a je na obrázku a povedz, čo o ňom vieš (kde žije, aké podmienky pre život potrebuje – prečo nežije u nás).



.....



.....



.....



.....



.....

6. Napíš, ako sa volá predmet znázornený na obrázku a na čo slúži.



Je to

Slúži na.....

.....

2. ČLOVEK

2.1 Fungovanie ľudského tela

1. Napiš rozdiely medzi mužským telom a ženským telom.



Ženské telo:.....

.....
.....
.....
.....

Mužské telo.....

.....
.....
.....
.....

2. Napiš, aké obdobie života človeka je znázornené na obrázku. Povedz, čo o ňom vieš.



.....



.....



.....



.....



.....

3. Doplň do vety správne slovo.

Deti sa rodia z medzi ženou a mužom. Žena čaká dieťaťko, ktoré nosí vo svojom Dieťaťko sa narodí v Posa o bábätko rodičia s láskou

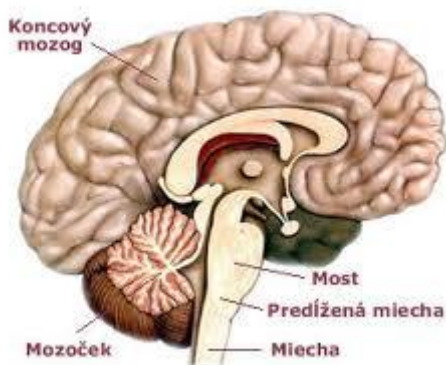
(brušku, nemocnici, lásky, narodení, starajú)

4. Napiš, ako sa volá obdobie, keď žena čaká dieťaťko a ako dlho toto obdobie trvá.



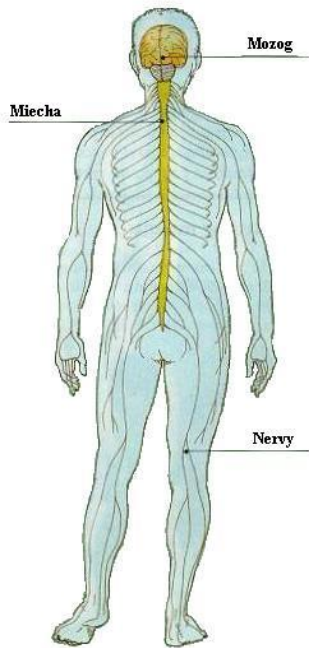
Odpoveď:.....
.....
.....
.....

5. Napiš, ako sa volá ľudský orgán na obrázku a povedz, akú má funkciu.



Odpoveď:.....
.....

6. Doplň chýbajúce slová do vety.



Mozog, miecha a nervy tvoriasústavu.

7. Napíš, aká sústava je znázornená na obrázku a akú má funkciu.



Odpoveď:.....

.....

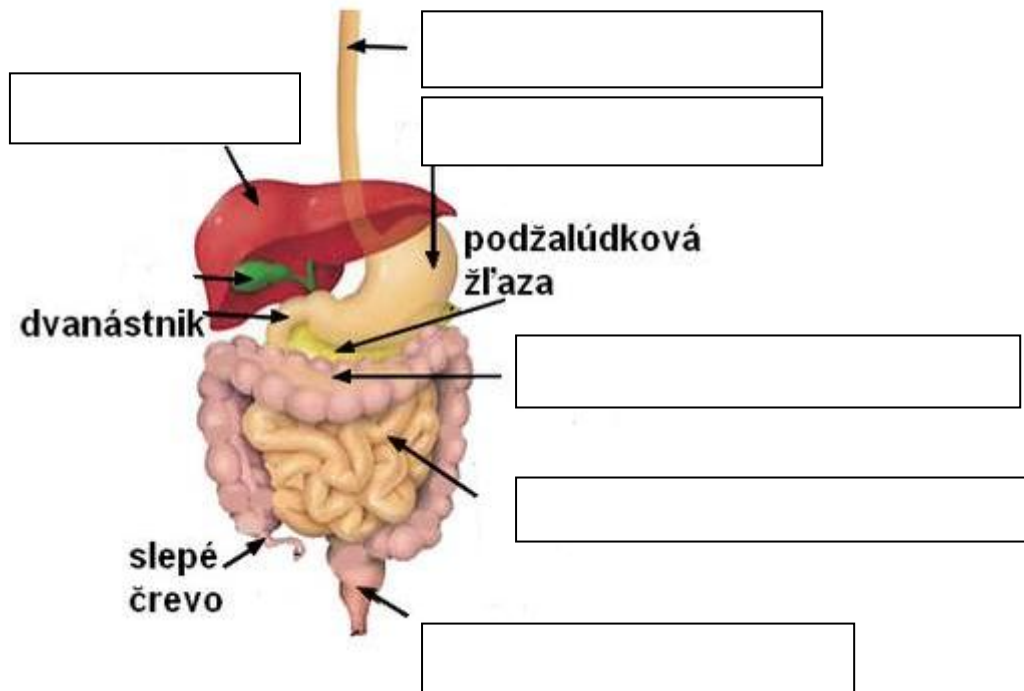
.....

.....

.....

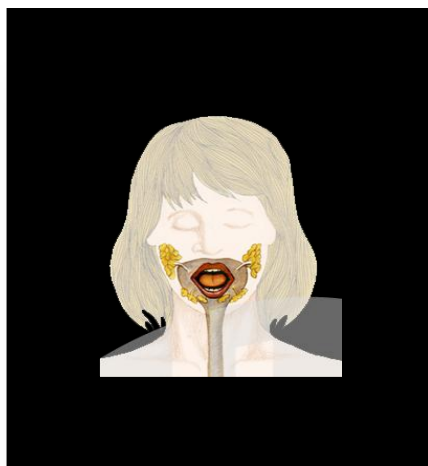
8. Dopíš do rámečkov správne názvy častí tráviacej sústavy.

Tráviaca sústava

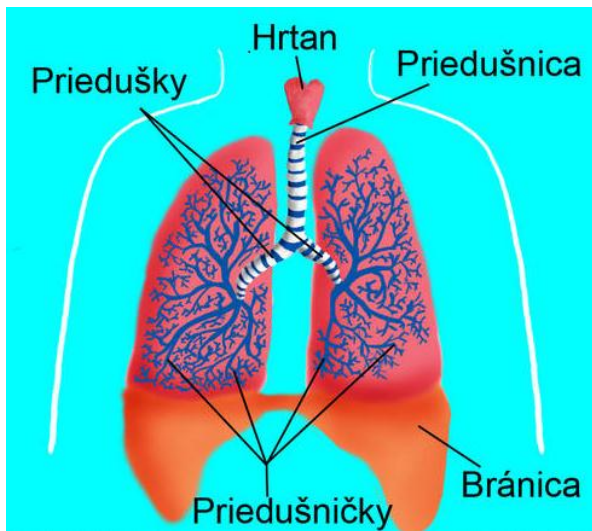


9. Napíš, ktoré časti tráviacej sústavy v úlohe číslo 8 chýbajú ? Obrázok ti napovie.

Odpoveď:.....



10. Napíš, aká sústava je znázornená na obrázku a akú má funkciu.



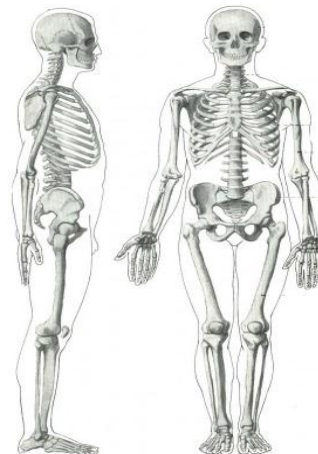
Odpoveď:.....
.....
.....
.....

11. Napíš, ktoré časti tráviacej sústavy v úlohe číslo 8 chýbajú ?

Odpoveď: Na obrázku chýba.....dutina adutina.

12. Napíš, aká sústava je znázornená na obrázku a akú funkciu plní.

Odpoveď:.....
.....



13. Doplň vetu. (obrázok ti napovie)

Vzpriamene stáť, nespadnúť a pohybovať sa dokážeme vďaka našima našim.....

3. NERASTY

3.1 Nerasty



1. Napíš, čo sú nerasty a kde sa vyskytujú.

Odpoveď.....

2. Názvy nerastov daj do krúžku.

papier	mastenec	drevo	soľ	zlato
pyrit	železo	magnezit	diamant	
opál	krištál	voda	aragonit	kalcit

3. Vypíš, ktoré z uvedených nerastov z druhej úlohy sa nachádzajú aj na Slovensku.

Odpoveď.....

4. Napíš ku obrázkom nerastov ich názvy.




.....



.....

4. SILA PRÍRODY

4.1 Prírodné katastrofy



1. Napíš, čo môže spôsobiť prírodnú katastrofu.

Odpoveď.....

2. Ku každému obrázku napíš, akým prírodným živlom bola spôsobená prírodná katastrofa.



.....



.....



.....



.....



.....



.....

3. Napiš, aká prírodná katastrofa je na obrázku znázornená a čím je spôsobená ?



Odpoveď.....

.....

.....

.....

LITERATÚRA

Štátny pedagogický ústav. ISCED 1: 2008: Štátny vzdelávací program pre 1.stupeň základnej školy v Slovenskej republike [online].

Dostupné na internete:

<https://www.google.sk/#q=exotick%C3%A9+zvierat%C3%A1>

https://www.google.sk/search?q=mu%C5%BEsk%C3%A9+telo+a+%C5%BEensk%C3%A9+telo&source=lnms&sa=X&ei=L_ToUqTjD8fQtQbS34GoBQ&ved=0CAYQ_AUoAA&biw=1280&bih=617&dpr=1

https://www.google.sk/search?q=etapy+%C4%BEudsk%C3%A9+ho+%C5%BEivota&source=lnms&sa=X&ei=uPboUsqjBofYswaW94G4Dg&ved=0CAYQ_AUoAA&biw=1280&bih=617&dpr=1

https://www.google.sk/search?q=ako+sa+rodia+deti&client=firefox-a&rls=org.mozilla:sk:official&channel=np&source=lnms&tbm=isch&sa=X&ei=ok3qUtqcIcWqtAag24CwDA&ved=0CAkQ_AUoAQ&biw=1280&bih=616

<http://ludske-telo.webnode.sk/obrazky/>

<https://www.google.sk/#q=Miecha>

<https://www.google.sk/#q=tr%C3%A1viaca+s%C3%BAstava>

<https://www.google.sk/#q=d%C3%BDchacia+s%C3%BAstava>

<https://www.google.sk/#q=pohybov%C3%A1+s%C3%BAstava>

<https://www.google.sk/#q=nerasty>

<https://www.google.sk/#q=Pr%C3%ADrodn%C3%A9+katastrofy>