



**mpc**  
METODICKO-PEDAGOGICKÉ CENTRUM

**M** VZDELÁVANÍM  
PEDAGOGICKÝCH ZAMESTNANCOV  
K INKLÚZII MARGINALIZOVANÝCH  
RÓMSKYCH KOMUNÍT



Moderné vzdelávanie pre vedomostnú spoločnosť / Projekt je spolufinancovaný zo zdrojov EÚ

Kód ITMS: 26130130051

číslo zmluvy: OPV/24/2011

## **Metodicko – pedagogické centrum**

### **Národný projekt**

## **VZDELÁVANÍM PEDAGOGICKÝCH ZAMESTNANCOV K INKLÚZII MARGINALIZOVANÝCH RÓMSKYCH KOMUNÍT**

**Adriana Tóthová**  
**Slovenská republika a hlavné mesto**

**Vydavateľ:** Metodicko-pedagogické centrum,  
Ševčenkova 11, 850 01  
Bratislava

**Autor UZ:** Mgr. Adriana Tóthová  
**Kontakt na autora UZ:** SZŠ Trebišov, M. R. Štefánika  
83,075 01 Trebišov,  
adinkaadina@azet.sk

**Názov:** Slovenská republika a hlavné  
mesto

**Rok vytvorenia:** 2014  
**Oponentský posudok**  
**vypracoval:** < Mgr.Katarína Skokanová >

**ISBN** 978-80-565-0784-1

Tento učebný zdroj bol vytvorený z prostriedkov projektu Vzdelávaním pedagogických zamestnancov k inklúzii marginalizovaných rómskych komunit. Projekt je spolufinancovaný zo zdrojov Európskej únie.

Text neprešiel štylistickou ani grafickou úpravou.

**Obsah: Slovenská republika a hlavné mesto**

## Slovenská republika a hlavné mesto



**Slovensko je štát v strednej Európe.**

**Hraničí s Českom, Rakúskom, Poľskom, Ukrajinou, Maďarskom. Hlavným a najľudnatejším mestom je Bratislava . Bratislavou preteká rieka Dunaj.**

**Najväčšími mestami podľa počtu obyvateľ'ov sú Bratislava a Košice, ďalej nasledujú Prešov, Žilina, Nitra, Banská Bystrica a Trnava. Rieky na Slovensku väčšinou pramenia a sú málo vodnaté. Všetky rieky sú najvodnatejšie na jar, keď sa roztápa sneh. Jedinou výnimkou je Dunaj, ktorý je najvodnatejší v lete, keď sa topí ľad v Alpách.**

**Vodstvo Slovenska sa delí na úmorie Baltského a Čierneho mora.**

**Zemepisné zaujímavosti: najsevernejší bod: Babia hora, najjužnejší bod: Patince,**

**najzápadnejší bod: Záhorská Ves Nadmorská výška, najvyšší**

**bod: Gerlachovský štít (2 654,4 m n. m.), najnižší bod: hladina**

**riečky Bodrog pri Strede nad Bodrogom (94 m n. m.).**



1. Vypíš 5 štátov, s ktorými Slovensko hraničí:.....

.....




**2. Dopiš ku štátom strednej Európy, susediacimi so Slovenskom hlavné mestá:**


**Maďarsko..... Poľsko.....**

**Rakúsko..... Ukrajina.....**

**Česko.....**

**Prirad' ku vlajke štát:**





**3. Hlavným mestom Slovenska je:.....**



**4. Cez Bratislavu preteká rieka..... . Popíš čo vidíš na obrázku.**

.....

.....  
.....  
.....



**5. Podčiarkni Slovenské mestá**

**Viedeň**

**Praha**

**Třinec**

**Banská Bystrica**

**Poprad**

**Komárno**

**Košice**

**Martin**

**Žilina**

**Prešov**



**6. Prirad' z textu správnú odpoveď:**

**Najvýchodnejšie miesto Slovenska.....**

**Najzápadnejšie miesto Slovenska.....**

**Najjužnejšie miesto Slovenska.....**

**Najsevernejšie miesto Slovenska .....**

**7. Najvyšším vrchom Slovenska je Správnú odpoveď zakrúžkuj:**

**Lomnický štít**

**Babia hora**

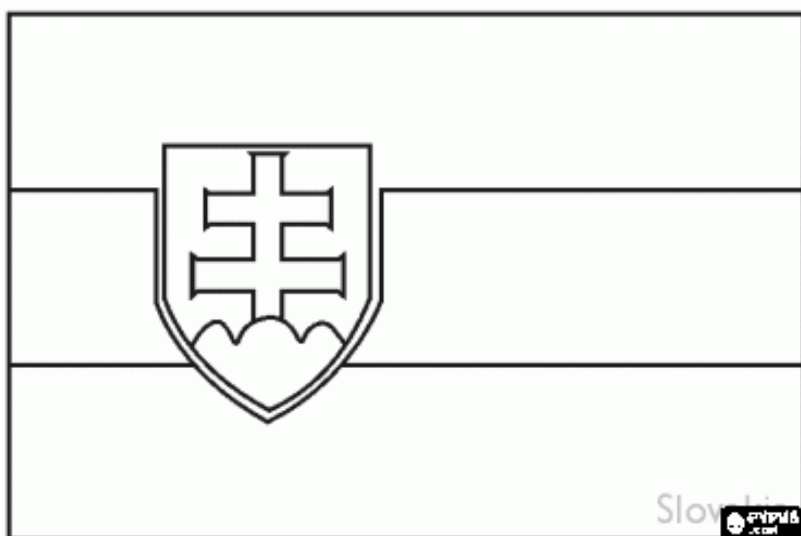
**Vihorlat**

**Gerlach**



8. Čo sem nepatrí:

Brusno    Bardejovské kúpele    Štós    Nitra    Starý Smokovec    Humenné



Vymaľuj vlajku:



Slovenský raj



Tokaj



Spiš



Vlkolinec



## ***Bratislava***

*Hlavné mesto Slovenskej republiky sa volá Bratislava. V Bratislave sídli prezident Slovenskej republiky a Národná rada. Bratislava je mesto bohaté na pamiatky, z ktorých mnohé sa nachádzajú v Starom Meste. Dominantou je štvorvežový Bratislavský hrad, vedľa ktorého sa nachádza budova Národnej rady Slovenskej republiky a neďaleko Dóm svätého Martina. V historickom jadre mesta stojí niekoľko historických skvostov Primaciálny palác, Michalská brána, Mirbachov palác, Grassalkovičov palác. Nad mestom pyšne stojí Slavín.*

*Bratislava patrí k Najmladším metropolám sveta, avšak jej história sa začala písať už pred viac ako dvetisíc rokmi.*

*Najvýraznejšou modernou stavbou je Most SNP na Dunaji, Najbližšie obce a mestá pri Bratislave sú na severe obce Marianka a Borinka, mestá Stupava a Svätý Jur, na východe obce Most pri Bratislave, Chorvátsky Grob a Ivanka pri Dunaji, na juhovýchode obce Rovinka, Dunajská Lužná, Kalinkovo, Hamuliakovo a mesto Šamorín.*

*Cez Bratislavu tečie rieka Dunaj, druhá najväčšia európska rieka, a oddeľuje mestskú časť Petržalka od ostatných mestských častí. V mestskej časti Devín sa do Dunaja vlieva*

*rieka Morava, do ktorej západne od Devínskej Novej Vsi ústi riečka Mláka. Najvýznamnejší závod v Bratislave je Sloznaft.*

1. Vyber správnu možnosť:

*Hlavné mesto Slovenskej republiky sa volá:\_\_\_\_\_*

*Košice*

*Žilina*

*Bratislava*

*Komárno*

*Praha*

*Martin*



*2.Ako sa volá prezident Slovenskej republiky?.....*

*3.Spočítaj koľko krát sa v texte nachádza slovo Bratislava.....*

4. V texte vyhľadaj dominanty a historické pamiatky

Bratislavy.....



*Primaciálny palác*

*Pisztoriho palác*



*Slovenská národná galéria*

*Prezidentský palác*

5. Ako sa volá najvýznamnejší závod v Bratislave?

/ *tfanvoIS* /



6. *Popremýšľaj a napíš ktoré mestá na Slovensku začínajú na písmeno B.*

.....  
.....



7. *Ako sa volá rieka ,ktorá preteká Bratislavou.....*






8. Nájdi na mape s ktorým štátom susedí hlavné mesto SR.



.....

.....





Pohľad na nočnú Bratislavu



